

National Testing Agency

Question Paper Name :	80 Geography 03rd Jan 2026 Shift 2 Set A
Subject Name :	80 Geography
Creation Date :	2026-01-04 11:49:14
Duration :	180
Total Marks :	300
Display Marks:	Yes

Geography and General Paper

Group Number :	1
Group Id :	61198719
Group Maximum Duration :	0
Group Minimum Duration :	180
Show Attended Group? :	No
Edit Attended Group? :	No
Break time :	0
Group Marks :	300

General Paper

Section Id :	61198737
Section Number :	1
Section type :	Online
Mandatory or Optional :	Mandatory
Number of Questions :	42
Number of Questions to be attempted :	42
Section Marks :	100
Maximum Instruction Time :	0
Sub-Section Number :	1
Sub-Section Id :	611987109
Question Shuffling Allowed :	No
Is Section Default? :	No

Question Id : 6119872773 Question Type : COMPREHENSION Sub Question Shuffling Allowed : Yes Group Comprehension Questions : No Question Pattern Type : NonMatrix

Question Numbers : (1 to 5)

Question Label : Comprehension

Study carefully the table given below and answer the question asked here under.

The following table gives the percentage of students belonging to low income group in each of the five colleges A, B, C, D and E, along with the proportion of males and females with and without low income.

College Name	Percentage of students with low income	Proportion of males and females	
		With low income	Without low income
		M : F	M : F
A	35	5 : 6	6 : 7
B	25	3 : 5	4 : 5
C	24	1 : 2	2 : 3
D	19	3 : 2	4 : 3
E	15	5 : 3	3 : 2

Sub questions

Question Number : 1 Question Id : 6119872774 Question Type : MCQ Option Shuffling : No Display Question Number : Yes Is Question Mandatory : No Single Line Question Option : No Option Orientation : Vertical

What is the number of males without low income in College C if the total number of students in that college is 5000?

1. 1520
2. 3800
3. 1620
4. 1630

Options :

- 61198710801. 1
- 61198710802. 2
- 61198710803. 3
- 61198710804. 4

Question Number : 2 Question Id : 6119872775 Question Type : MCQ Option Shuffling : No Display Question Number : Yes Is Question Mandatory : No Single Line Question Option : No Option Orientation : Vertical

If the number of males without low income in College E is 2295, then the total number of students in College E is :

1. 4000
2. 5000
3. 4500
4. 5500

Options :

- 61198710805. 1
- 61198710806. 2
- 61198710807. 3
- 61198710808. 4

Question Number : 3 Question Id : 6119872776 Question Type : MCQ Option Shuffling : No Display Question Number : Yes Is Question Mandatory : No Single Line Question Option : No Option Orientation : Vertical

Which college has the least number of male students with low income, if we assume that every college has equal number of total students?

1. B
2. C
3. D
4. E

Options :

- 61198710809. 1
- 61198710810. 2
- 61198710811. 3
- 61198710812. 4

Question Number : 4 Question Id : 6119872777 Question Type : MCQ Option Shuffling : No Display Question Number : Yes Is Question Mandatory : No Single Line Question Option : No Option Orientation : Vertical

Which college has the least number of female students with low income, if we assume that every college has same number of total students?

1. B
2. C
3. D
4. E

Options :

- 61198710813. 1
- 61198710814. 2
- 61198710815. 3
- 61198710816. 4

Question Number : 5 Question Id : 6119872778 Question Type : MCQ Option Shuffling : No Display Question Number : Yes Is Question Mandatory : No Single Line Question Option : No Option Orientation : Vertical

Which college has the least number of students without low income, if we assume that every college has same number of total students?

1. A
2. B
3. C
4. D

Options :

- 61198710817. 1
- 61198710818. 2
- 61198710819. 3
- 61198710820. 4

Question Id : 6119872773 Question Type : COMPREHENSION Sub Question Shuffling Allowed : Yes Group Comprehension Questions : No Question Pattern Type : NonMatrix

Question Numbers : (1 to 5)

Question Label : Comprehension

नीचे दी गई तालिका का ध्यानपूर्वक अध्ययन करें और उसके नीचे पूछे गए प्रश्न का उत्तर दें।
नीचे दी गई तालिका में पाँच कॉलेजों A, B, C, D और E में से प्रत्येक कॉलेज में निम्न आय वर्ग के छात्रों की संख्या का प्रतिशत तथा निम्न आय वर्ग और गैर-निम्न आय वर्ग के पुरुष छात्रों और महिला छात्रों का अनुपात दिया गया है।

कॉलेज का नाम	निम्न आय वर्ग के छात्रों का प्रतिशत	पुरुष छात्रों और महिला छात्रों का अनुपात	
		निम्न आय वर्ग वाले	गैर-निम्न आय वाले
		पुरुष : महिला	पुरुष : महिला
A	35	5 : 6	6 : 7
B	25	3 : 5	4 : 5
C	24	1 : 2	2 : 3
D	19	3 : 2	4 : 3
E	15	5 : 3	3 : 2

Sub questions

Question Number : 1 Question Id : 6119872774 Question Type : MCQ Option Shuffling : No Display Question Number : Yes Is Question Mandatory : No Single Line Question Option : No Option Orientation : Vertical

यदि कॉलेज C में छात्रों की कुल संख्या 5000 है, तो उस कॉलेज में गैर-निम्न आय वर्ग के पुरुष छात्रों की संख्या कितनी है?

1. 1520
2. 3800
3. 1620
4. 1630

Options :

61198710801. 1
61198710802. 2
61198710803. 3
61198710804. 4

Question Number : 2 Question Id : 6119872775 Question Type : MCQ Option Shuffling : No Display Question Number : Yes Is Question Mandatory : No Single Line Question Option : No Option Orientation : Vertical

यदि कॉलेज E में गैर-निम्न आय वर्ग के पुरुष छात्रों की संख्या 2295 है, तो कॉलेज E में छात्रों की कुल संख्या कितनी है?

1. 4000
2. 5000
3. 4500
4. 5500

Options :

61198710805. 1
61198710806. 2
61198710807. 3
61198710808. 4

Question Number : 3 Question Id : 6119872776 Question Type : MCQ Option Shuffling : No Display Question Number : Yes Is Question Mandatory : No Single Line Question Option : No Option Orientation : Vertical

यदि हम यह मान लें कि प्रत्येक कॉलेज में छात्रों की कुल संख्या बराबर है तो कौन से कॉलेज में निम्न आय वर्ग के पुरुष छात्रों की संख्या सबसे कम है?

1. B
2. C
3. D
4. E

Options :

- 61198710809. 1
- 61198710810. 2
- 61198710811. 3
- 61198710812. 4

Question Number : 4 Question Id : 6119872777 Question Type : MCQ Option Shuffling : No Display Question Number : Yes Is Question Mandatory : No Single Line Question Option : No Option Orientation : Vertical

यदि हम मान लें कि प्रत्येक कॉलेज में छात्रों की कुल संख्या बराबर है, तो कौन से कॉलेज में निम्न आय वर्ग के महिला-छात्रों की संख्या सबसे कम है?

1. B
2. C
3. D
4. E

Options :

- 61198710813. 1
- 61198710814. 2
- 61198710815. 3
- 61198710816. 4

Question Number : 5 Question Id : 6119872778 Question Type : MCQ Option Shuffling : No Display Question Number : Yes Is Question Mandatory : No Single Line Question Option : No Option Orientation : Vertical

यदि हम मान लें कि प्रत्येक कॉलेज में छात्रों की कुल संख्या बराबर है, तो कौन से कॉलेज में गैर- निम्न आय वर्ग के छात्रों की संख्या सबसे कम है?

1. A
2. B
3. C
4. D

Options :

- 61198710817. 1
- 61198710818. 2
- 61198710819. 3
- 61198710820. 4

Sub-Section Number :

Sub-Section Id : 611987110
Question Shuffling Allowed : Yes
Is Section Default? : No

Question Number : 6 Question Id : 6119872779 Question Type : MCQ Option Shuffling : No Display Question Number : Yes Is Question Mandatory : No Single Line Question Option : No Option Orientation : Vertical

Given below are two statements: one is labelled as **Assertion A** and the other is labelled as **Reason R**.

Assertion A: Intelligence is, to some extent, an inherited characteristic.

Reason R: Environment also has a significant influence on intelligence.

In the light of the above statements, choose the *most appropriate* answer from the options given below

1. Both **A** and **R** are correct and **R** is the correct explanation of **A**
2. Both **A** and **R** are correct but **R** is NOT the correct explanation of **A**
3. **A** is correct but **R** is not correct
4. **A** is not correct but **R** is correct

Options :

61198710821. 1
61198710822. 2
61198710823. 3
61198710824. 4

Question Number : 6 Question Id : 6119872779 Question Type : MCQ Option Shuffling : No Display Question Number : Yes Is Question Mandatory : No Single Line Question Option : No Option Orientation : Vertical

नीचे दो कथन दिए गए हैं: एक अभिकथन (**Assertion A**) के रूप में है तो दूसरा उसके कारण (**Reason R**) के रूप में:

अभिकथन A: बुद्धि कुछ हद तक एक विरासत में प्राप्त विशिष्टता होती है।

कारण R: पर्यावरण का भी बुद्धि पर महत्वपूर्ण प्रभाव होता है।

उपरोक्त कथन के आलोक में, नीचे दिए गए विकल्पों में से सबसे **उपयुक्त उत्तर** का चयन कीजिए

1. **A** और **R** दोनों सही हैं और **R, A** की सही व्याख्या है
2. **A** और **R** दोनों सही हैं और **R, A** की सही व्याख्या नहीं है
3. **A** सही है और **R** सही नहीं है
4. **A** सही नहीं है और **R** सही है

Options :

61198710821. 1
61198710822. 2
61198710823. 3
61198710824. 4

Question Number : 7 Question Id : 6119872780 Question Type : MCQ Option Shuffling : No Display Question Number : Yes Is Question Mandatory : No Single Line Question Option : No Option Orientation : Vertical

Match the LIST-I with LIST-II

LIST-I (Schedule of Reinforcement)		LIST-II (Example)	
A.	Fixed ratio	I.	Individuals are reinforced for the first response they make after various time intervals have passed.
B.	Fixed interval	II.	Responses occur a certain number of times before reinforcement.
C.	Variable interval	III.	The reinforcement may occur after any number of responses.
D.	Variable ratio	IV.	No reinforcement is given until a certain interval of time has elapsed.

Choose the *correct* answer from the options given below:

1. A-II, B-IV, C-I, D-III
2. A-III, B-IV, C-II, D-I
3. A-I, B-III, C-II, D-IV
4. A-III, B-I, C-IV, D-II

Options :

- 61198710825. 1
- 61198710826. 2
- 61198710827. 3
- 61198710828. 4

Question Number : 7 Question Id : 6119872780 Question Type : MCQ Option Shuffling : No Display Question Number : Yes Is Question Mandatory : No Single Line Question Option : No Option Orientation : Vertical

सूची -I को सूची-II से सुमेलित करें

सूची -I (पुनर्बलन की अनुसूची)		सूची -II (उदाहरण)	
A.	नियत अनुपात	I.	व्यक्ति उस प्रथम अनुक्रिया हेतु पुनर्बलित होते हैं जो वे विभिन्न समय अंतराल व्यतीत होने के बाद करते हैं।
B.	नियत अंतराल	II.	अनुक्रिया पुनर्बलन से पूर्व एक निश्चित बार होती है।
C.	परिवर्तनीय अंतराल	III.	पुनर्बलन कई बार की अनुक्रिया के बाद हो सकता है।
D.	परिवर्तनीय अनुपात	IV.	एक निश्चित समय अंतराल समाप्त होने से पूर्व कोई पुनर्बलन नहीं दिया जाता है।

नीचे दिए गए विकल्पों में से **सही** विकल्प चुनें:

1. A-II, B-IV, C-I, D-III
2. A-III, B-IV, C-II, D-I
3. A-I, B-III, C-II, D-IV
4. A-III, B-I, C-IV, D-II

Options :

61198710825. 1
61198710826. 2
61198710827. 3
61198710828. 4

Question Number : 8 Question Id : 6119872781 Question Type : MCQ Option Shuffling : No Display Question Number : Yes Is Question Mandatory : No Single Line Question Option : No Option Orientation : Vertical

Arrange the following in chronological order:

- A. RPWD ACT
- B. RTE ACT
- C. RCI ACT
- D. PwD ACT
- E. SDG Adoption by India

Choose the **correct** answer from the options given below:

- 1. A, B, C, D, E
- 2. C, D, E, A, B
- 3. C, D, B, E, A
- 4. E, A, C, D, B

Options :

- 61198710829. 1
- 61198710830. 2
- 61198710831. 3
- 61198710832. 4

Question Number : 8 Question Id : 6119872781 Question Type : MCQ Option Shuffling : No Display Question Number : Yes Is Question Mandatory : No Single Line Question Option : No Option Orientation : Vertical

निम्न को कालक्रमानुसार व्यवस्थित कीजिए:

- A. आर पी डब्ल्यू डी अधिनियम
- B. आर टी ई अधिनियम
- C. आर सी आई अधिनियम
- D. पी डब्ल्यू डी अधिनियम
- E. भारत द्वारा एस डी जी को अंगीकार किया जाना

नीचे दिए गए विकल्पों में से **सही** विकल्प चुनें:

- 1. A, B, C, D, E
- 2. C, D, E, A, B
- 3. C, D, B, E, A
- 4. E, A, C, D, B

Options :

- 61198710829. 1
- 61198710830. 2
- 61198710831. 3
- 61198710832. 4

Question Number : 9 Question Id : 6119872782 Question Type : MCQ Option Shuffling : No Display Question Number : Yes Is Question Mandatory : No Single Line Question Option : No Option Orientation : Vertical
Which among the following is NOT a National Coordinator for Higher Education Courses on SWAYAM?

1. Indira Gandhi National Open University
2. Consortium for Educational Communication
3. National Institute of Technical Teacher Training and Research
4. National Institute for Open Schooling

Options :

- 61198710833. 1
- 61198710834. 2
- 61198710835. 3
- 61198710836. 4

Question Number : 9 Question Id : 6119872782 Question Type : MCQ Option Shuffling : No Display Question Number : Yes Is Question Mandatory : No Single Line Question Option : No Option Orientation : Vertical

निम्न में से कौन 'स्वयं' (SWAYAM) पर उच्च शिक्षा के पाठ्यक्रमों हेतु राष्ट्रीय समन्वयक नहीं है?

1. इन्दिरा गांधी राष्ट्रीय मुक्त विश्वविद्यालय
2. कन्सोर्टियम फॉर एजुकेशनल कम्यूनिकेशन
3. नेशनल इंस्टीट्यूट फॉर टेक्नीकल टीचर ट्रेनिंग एंड रिसर्च
4. राष्ट्रीय मुक्त विद्यालय संगठन

Options :

- 61198710833. 1
- 61198710834. 2
- 61198710835. 3
- 61198710836. 4

Question Number : 10 Question Id : 6119872783 Question Type : MCQ Option Shuffling : No Display Question Number : Yes Is Question Mandatory : No Single Line Question Option : No Option Orientation : Vertical

Which of the following is NOT a correct statement-

1. Operant behavior is emitted in the presence of discriminative stimuli.
2. Learning is the encoding of information in long-term-memory.
3. Language doesn't play any role in self-regulation.
4. Respondent behavior is elicited in the presence of unconditioned stimuli.

Options :

- 61198710837. 1
- 61198710838. 2
- 61198710839. 3
- 61198710840. 4

Question Number : 10 Question Id : 6119872783 Question Type : MCQ Option Shuffling : No Display Question Number : Yes Is Question Mandatory : No Single Line Question Option : No Option Orientation : Vertical

निम्न में से कौन एक सही कथन नहीं है?

1. विभेदक उद्दीपन की उपस्थिति में सक्रिय व्यवहार प्रसारित होता है।
2. अधिगम दीर्घावधि स्मृति में सूचना को कूटबद्ध करना है।
3. स्व-विनियमन में भाषा की कोई भूमिका नहीं होती है।
4. उत्तरदाता का व्यवहार अन-अनुकूलित उद्दीपन की उपस्थिति में प्राप्त होता है।

Options :

61198710837. 1

61198710838. 2

61198710839. 3

61198710840. 4

Question Number : 11 Question Id : 6119872784 Question Type : MCQ Option Shuffling : No Display Question Number : Yes Is Question Mandatory : No Single Line Question Option : No Option Orientation : Vertical

Identify the variables that pertain to interval scale of measurement

- A. gender
- B. date of birth of a person
- C. religion
- D. time of the day

Choose the *correct* answer from the options given below:

1. A and B only
2. B only
3. B, C and D only
4. B and D only

Options :

61198710841. 1

61198710842. 2

61198710843. 3

61198710844. 4

Question Number : 11 Question Id : 6119872784 Question Type : MCQ Option Shuffling : No Display Question Number : Yes Is Question Mandatory : No Single Line Question Option : No Option Orientation : Vertical

निम्नांकित में से उन चरों को पहचानिए जो मापन की अंतराल मापनी (इंटरवल स्केल) से संबंधित हैं:

- A. लिंग (जेंडर)
- B. व्यक्ति की जन्म तिथि
- C. धर्म
- D. दिन का समय

नीचे दिए गए विकल्पों में से **सही** उत्तर का चयन कीजिए:

- 1. केवल A और B
- 2. केवल B
- 3. केवल B, C और D
- 4. केवल B और D

Options :

- 61198710841. 1
- 61198710842. 2
- 61198710843. 3
- 61198710844. 4

Question Number : 12 Question Id : 6119872785 Question Type : MCQ Option Shuffling : No Display Question Number : Yes Is Question Mandatory : No Single Line Question Option : No Option Orientation : Vertical

Arrange the following in terms of increasing order of the minimum number of variables required for their computation:

- A. Mean
- B. First order correlation
- C. Correlation coefficient
- D. Second order correlation

Choose the **correct** answer from the options given below:

- 1. A, B, C, D
- 2. B, A, C, D
- 3. A, C, B, D
- 4. B, D, C, A

Options :

- 61198710845. 1
- 61198710846. 2
- 61198710847. 3
- 61198710848. 4

Question Number : 12 Question Id : 6119872785 Question Type : MCQ Option Shuffling : No Display Question Number : Yes Is Question Mandatory : No Single Line Question Option : No Option Orientation : Vertical

निम्नलिखित प्राचलों को उनके परिकलन के लिए जरूरी चरों की न्यूनतम संख्या के बढ़ते क्रम में रखें:

- A. माध्य
- B. प्रथम क्रम सहसंबंध
- C. सहसंबंध गुणांक
- D. द्वितीय क्रम सहसंबंध

नीचे दिए गए विकल्पों में से **सही** उत्तर का चयन कीजिए:

- 1. A, B, C, D
- 2. B, A, C, D
- 3. A, C, B, D
- 4. B, D, C, A

Options :

- 61198710845. 1
- 61198710846. 2
- 61198710847. 3
- 61198710848. 4

Question Number : 13 Question Id : 6119872786 Question Type : MCQ Option Shuffling : No Display Question Number : Yes Is Question Mandatory : No Single Line Question Option : No Option Orientation : Vertical

Match the LIST-I with LIST-II

LIST-I (Standard Normal Variate)		LIST-II (Probability)	
A.	$-1 \leq Z \leq +1$	I.	~ 0.5
B.	$-1 \leq Z \leq +2$	II.	~ 0.16
C.	$-\infty < Z \leq 0$	III.	~ 0.68
D.	$-\infty < Z \leq -1$	IV.	~ 0.82

Choose the **correct** answer from the options given below:

- 1. A-I, B-II, C-III, D-IV
- 2. A-II, B-III, C-IV, D-I
- 3. A-III, B-IV, C-I, D-II
- 4. A-III, B-II, C-I, D-IV

Options :

- 61198710849. 1
- 61198710850. 2
- 61198710851. 3
- 61198710852. 4

Question Number : 13 Question Id : 6119872786 Question Type : MCQ Option Shuffling : No Display Question Number : Yes Is Question Mandatory : No Single Line Question Option : No Option Orientation : Vertical

सूची -I को सूची-II से सुमेलित करें

सूची-I (मानक सामान्य विचर)		सूची-II (प्रायिकता)	
A.	$-1 \leq Z \leq +1$	I.	~ 0.5
B.	$-1 \leq Z \leq +2$	II.	~ 0.16
C.	$-\infty < Z \leq 0$	III.	~ 0.68
D.	$-\infty < Z \leq -1$	IV.	~ 0.82

नीचे दिए गए विकल्पों में से सही विकल्प चुनें:

1. A-I, B-II, C-III, D-IV
2. A-II, B-III, C-IV, D-I
3. A-III, B-IV, C-I, D-II
4. A-III, B-II, C-I, D-IV

Options :

61198710849. 1
61198710850. 2
61198710851. 3
61198710852. 4

Question Number : 14 Question Id : 6119872787 Question Type : MCQ Option Shuffling : No Display Question Number : Yes Is Question Mandatory : No Single Line Question Option : No Option Orientation : Vertical

In qualitative research, the criterion that parallels internal validity is

1. credibility
2. transferability
3. dependability
4. confirmability

Options :

61198710853. 1
61198710854. 2
61198710855. 3
61198710856. 4

Question Number : 14 Question Id : 6119872787 Question Type : MCQ Option Shuffling : No Display Question Number : Yes Is Question Mandatory : No Single Line Question Option : No Option Orientation : Vertical

गुणात्मक शोध में आन्तरिक वैधता के समानान्तर निकष कौन है?

1. विश्वसनीयता
2. हस्तांतरणीयता
3. निर्भरता
4. पुष्टिकारकता

Options :

61198710853. 1

61198710854. 2

61198710855. 3

61198710856. 4

Question Number : 15 Question Id : 6119872788 Question Type : MCQ Option Shuffling : No Display Question Number : Yes Is Question Mandatory : No Single Line Question Option : No Option Orientation : Vertical

Quantitative research can be represented as a research strategy that

1. embodies a view of social reality as an external, objective reality
2. emphasizes an inductive approach to the relationship between theory and research
3. has rejected the practices and norms of natural scientific model
4. embodies a view of social reality as a constantly shifting emergent property of individuals' creation

Options :

61198710857. 1

61198710858. 2

61198710859. 3

61198710860. 4

Question Number : 15 Question Id : 6119872788 Question Type : MCQ Option Shuffling : No Display Question Number : Yes Is Question Mandatory : No Single Line Question Option : No Option Orientation : Vertical

मात्रात्मक शोध को शोध रणनीति के रूप में निरूपित किया जा सकता है जो/जिसने:

1. बाह्य वस्तुनिष्ठ यथार्थ के रूप में सामाजिक यथार्थ के दृष्टिकोण को मूर्त रूप प्रदान करता है।
2. सिद्धांत और शोध के मध्य संबंध के आगमनात्मक उपागम पर बल देता है।
3. नैसर्गिक वैज्ञानिक मॉडल के व्यवहारों और मानदंडों को अस्वीकृत करता है।
4. व्यक्ति के सृजन की निरंतर परिवर्तनशील आपातिक संपदा के रूप में सामाजिक यथार्थ के दृष्टिकोण को मूर्त रूप प्रदान करता है।

Options :

61198710857. 1

61198710858. 2

61198710859. 3

61198710860. 4

Question Number : 16 Question Id : 6119872789 Question Type : MCQ Option Shuffling : No Display Question Number : Yes Is Question Mandatory : No Single Line Question Option : No Option Orientation : Vertical

Given below are two statements: one is labelled as **Assertion A** and the other is labelled as **Reason R**

Assertion A: People tend to ignore media messages they feel are in accord with their already-held attitudes and interests.

Reason R: Selective exposure theory suggests that audiences tend to match their choice of media channels and content to their own tastes, ideas and informational needs.

In the light of the above statements, choose the **most appropriate** answer from the options given below

1. Both **A** and **R** are correct and **R** is the correct explanation of **A**
2. Both **A** and **R** are correct but **R** is NOT the correct explanation of **A**
3. **A** is correct but **R** is not correct
4. **A** is not correct but **R** is correct

Options :

61198710861. 1

61198710862. 2

61198710863. 3

61198710864. 4

Question Number : 16 Question Id : 6119872789 Question Type : MCQ Option Shuffling : No Display Question Number : Yes Is Question Mandatory : No Single Line Question Option : No Option Orientation : Vertical

नीचे दो कथन दिए गए हैं: एक अभिकथन (**Assertion A**) के रूप में है तो दूसरा उसके कारण (**Reason R**) के रूप में:

अभिकथन A: लोगों में उन मीडिया संदेशों को अनदेखा करने की प्रवृत्ति होती है जिन्हें वे अपनी पूर्व-विद्यमान अभिवृत्तियों और अभिरूचियों के अनुरूप मानते हैं।

कारण R: चयनात्मक उद्भासन सिद्धांत यह बताते हैं कि श्रोताओं में अपनी रुचियों, विचारों और सूचनात्मक जरूरतों के अनुसार मीडिया चैनलों और विषयवस्तु को पसंद करने की प्रवृत्ति होती है।

उपरोक्त कथन के आलोक में, नीचे दिए गए विकल्पों में से सबसे उपयुक्त **उत्तर** का चयन कीजिए

1. **A** और **R** दोनों सही हैं और **R, A** की सही व्याख्या है
2. **A** और **R** दोनों सही हैं और **R, A** की सही व्याख्या नहीं है
3. **A** सही है और **R** सही नहीं है
4. **A** सही नहीं है और **R** सही है

Options :

61198710861. 1

61198710862. 2

61198710863. 3

61198710864. 4

Question Number : 17 Question Id : 6119872790 Question Type : MCQ Option Shuffling : No Display Question Number : Yes Is Question Mandatory : No Single Line Question Option : No Option Orientation : Vertical

Arrange the following in the ascending order of adoption according to the Transmission Model of Learning.

- A. Exposure
- B. Recall
- C. Processing
- D. Comprehension
- E. Learning

Choose the **correct** answer from the options given below:

- 1. A, B, C, D, E
- 2. D, C, B, A, E
- 3. C, D, B, A, E
- 4. A, C, D, B, E

Options :

- 61198710865. 1
- 61198710866. 2
- 61198710867. 3
- 61198710868. 4

Question Number : 17 Question Id : 6119872790 Question Type : MCQ Option Shuffling : No Display Question Number : Yes Is Question Mandatory : No Single Line Question Option : No Option Orientation : Vertical

अधिगम के संचरण मॉडल के अनुसार, निम्नांकित को अभिग्रहण के आरोही क्रम में व्यवस्थित कीजिए:

- A. उद्भासन (एक्सपोजर)
- B. पुनः स्मरण
- C. प्रक्रमण
- D. बोध
- E. अधिगम

नीचे दिए गए विकल्पों में से **सही** उत्तर का चयन कीजिए:

- 1. A, B, C, D, E
- 2. D, C, B, A, E
- 3. C, D, B, A, E
- 4. A, C, D, B, E

Options :

- 61198710865. 1
- 61198710866. 2
- 61198710867. 3
- 61198710868. 4

Question Number : 18 Question Id : 6119872791 Question Type : MCQ Option Shuffling : No Display Question Number : Yes Is Question Mandatory : No Single Line Question Option : No Option Orientation : Vertical

Match the LIST-I with LIST-II

LIST-I (Strategies for mitigating bias in classroom)		LIST-II (Example)	
A.	Stereotype Replacement	I.	Building opportunities to learn about first-person perspective of students in class
B.	Counter-stereotypic Imaging	II.	Learn about a range of individuals from different social groups
C.	Individuating	III.	Plan ahead in teaching to ensure non-stereotypic examples
D.	Perspective-Taking	IV.	Ask students to introduce significant things about themselves during class

Choose the **correct** answer from the options given below:

1. A-III, B-IV, C-II, D-I
2. A-II, B-IV, C-III, D-I
3. A-I, B-IV, C-II, D-III
4. A-III, B-II, C-IV, D-I

Options :

61198710869. 1

61198710870. 2

61198710871. 3

61198710872. 4

Question Number : 18 Question Id : 6119872791 Question Type : MCQ Option Shuffling : No Display Question Number : Yes Is Question Mandatory : No Single Line Question Option : No Option Orientation : Vertical

सूची -I को सूची-II से सुमेलित करें

सूची -I (कक्षा में पूर्वाग्रह कम करने की युक्तियाँ)		सूची -II (उदाहरण)	
A.	रूढ़ प्रतिस्थापन	I.	कक्षा में छात्रों के प्रथम-पुरुष परिप्रेक्ष्य के बारे में जानने के लिए अवसर पैदा करना
B.	प्रति-रूढ़ छवि बनाना	II.	विभिन्न सामाजिक समूहों के व्यक्तियों की रेंज के बारे में जानना
C.	व्यष्टिकरण	III.	गैर-रूढ़ उदाहरण सुनिश्चित करने के लिए पूर्व योजना बनाना
D.	परिप्रेक्ष्य-ग्रहण	IV.	कक्षा में छात्रों से स्वयं के बारे में महत्वपूर्ण बातें बताने के लिए कहना

नीचे दिए गए विकल्पों में से **सही** विकल्प चुनें:

1. A-III, B-IV, C-II, D-I
2. A-II, B-IV, C-III, D-I
3. A-I, B-IV, C-II, D-III
4. A-III, B-II, C-IV, D-I

Options :

61198710869. 1
61198710870. 2
61198710871. 3
61198710872. 4

Question Number : 19 Question Id : 6119872792 Question Type : MCQ Option Shuffling : No Display Question Number : Yes Is Question Mandatory : No Single Line Question Option : No Option Orientation : Vertical

McLuhan's conception of a new form of social organization emerging due to instantaneous electronic media connecting the entire world into one great social, political, and cultural system, is known as:

1. Global Village
2. Global City
3. Global District
4. Global Block

Options :

61198710873. 1
61198710874. 2
61198710875. 3
61198710876. 4

Question Number : 19 Question Id : 6119872792 Question Type : MCQ Option Shuffling : No Display Question Number : Yes Is Question Mandatory : No Single Line Question Option : No Option Orientation : Vertical

मैकलूहन ने सामाजिक संगठन के एक नए रूप की अवधारणा प्रस्तुत की है, जो तात्कालिक इलेक्ट्रॉनिक मीडिया द्वारा पूरी दुनिया को एक बड़ी सामाजिक, राजनीतिक और सांस्कृतिक प्रणाली में जोड़े जाने के कारण उभर रही है, इसे कहा जाता है:

1. ग्लोबल विलेज
2. ग्लोबल सिटी
3. ग्लोबल डिस्ट्रिक्ट
4. ग्लोबल ब्लॉक

Options :

- 61198710873. 1
- 61198710874. 2
- 61198710875. 3
- 61198710876. 4

Question Number : 20 Question Id : 6119872793 Question Type : MCQ Option Shuffling : No Display Question Number : Yes Is Question Mandatory : No Single Line Question Option : No Option Orientation : Vertical

People who exercise influence over decisions made by others are known as:

1. Opinion Followers
2. Transmitters
3. Receivers
4. Opinion Leaders

Options :

- 61198710877. 1
- 61198710878. 2
- 61198710879. 3
- 61198710880. 4

Question Number : 20 Question Id : 6119872793 Question Type : MCQ Option Shuffling : No Display Question Number : Yes Is Question Mandatory : No Single Line Question Option : No Option Orientation : Vertical

जो लोग दूसरों के निर्णयों को प्रभावित करते हैं, उन्हें क्या कहा जाता है?

1. ओपिनियन फॉलोअर्स
2. ट्रांसमीटर्स
3. रिसीवर्स
4. ओपिनियन लीडर्स

Options :

- 61198710877. 1
- 61198710878. 2
- 61198710879. 3
- 61198710880. 4

Question Number : 21 Question Id : 6119872794 Question Type : MCQ Option Shuffling : No Display Question Number : Yes Is Question Mandatory : No Single Line Question Option : No Option Orientation : Vertical

If 28% of a number is 75 less than 43% of the same number, then 30% of that number is:

1. 175
2. 145
3. 150
4. 120

Options :

- 61198710881. 1
- 61198710882. 2
- 61198710883. 3
- 61198710884. 4

Question Number : 21 Question Id : 6119872794 Question Type : MCQ Option Shuffling : No Display Question Number : Yes Is Question Mandatory : No Single Line Question Option : No Option Orientation : Vertical

यदि एक संख्या का 28% उसी संख्या के 43% से 75 कम है तो उक्त संख्या का 30% क्या होगा?

1. 175
2. 145
3. 150
4. 120

Options :

- 61198710881. 1
- 61198710882. 2
- 61198710883. 3
- 61198710884. 4

Question Number : 22 Question Id : 6119872795 Question Type : MCQ Option Shuffling : No Display Question Number : Yes Is Question Mandatory : No Single Line Question Option : No Option Orientation : Vertical

Complete the series:

I2Z, K4X, M7V, O11T, _____, S22P

1. Q16R
2. Q16P
3. R15P
4. R15T

Options :

- 61198710885. 1
- 61198710886. 2
- 61198710887. 3
- 61198710888. 4

Question Number : 22 Question Id : 6119872795 Question Type : MCQ Option Shuffling : No Display Question Number : Yes Is Question Mandatory : No Single Line Question Option : No Option Orientation : Vertical

निम्न श्रृंखला को पूरा कीजिए:

I2Z, K4X, M7V, O11T, _____, S22P

1. Q16R
2. Q16P
3. R15P
4. R15T

Options :

61198710885. 1
61198710886. 2
61198710887. 3
61198710888. 4

Question Number : 23 Question Id : 6119872796 Question Type : MCQ Option Shuffling : No Display Question Number : Yes Is Question Mandatory : No Single Line Question Option : No Option Orientation : Vertical

Arrange the following fractions in ascending order:

- A. $\frac{7}{16}$
B. $\frac{13}{25}$
C. $\frac{2}{3}$
D. $\frac{11}{23}$
E. $\frac{5}{19}$

Choose the *correct* answer from the options given below:

1. B, E, D, C, A
2. E, A, D, B, C
3. E, D, B, A, C
4. B, A, D, C, E

Options :

61198710889. 1
61198710890. 2
61198710891. 3
61198710892. 4

Question Number : 23 Question Id : 6119872796 Question Type : MCQ Option Shuffling : No Display Question Number : Yes Is Question Mandatory : No Single Line Question Option : No Option Orientation : Vertical

निम्न भिन्नो को आरोही क्रम में व्यवस्थित कीजिए:

A. $\frac{7}{16}$

B. $\frac{13}{25}$

C. $\frac{2}{3}$

D. $\frac{11}{23}$

E. $\frac{5}{19}$

नीचे दिए गए विकल्पों में से **सही** उत्तर का चयन कीजिए:

1. B, E, D, C, A
2. E, A, D, B, C
3. E, D, B, A, C
4. B, A, D, C, E

Options :

61198710889. 1

61198710890. 2

61198710891. 3

61198710892. 4

Question Number : 24 Question Id : 6119872797 Question Type : MCQ Option Shuffling : No Display Question Number : Yes Is Question Mandatory : No Single Line Question Option : No Option Orientation : Vertical

Identify the correct mathematical statement(s):

- A. The expression $\frac{3}{4} + \frac{5}{36} + \frac{7}{144} + \dots + \frac{17}{5184} + \frac{19}{8100}$ is equal to 0.09.
- B. The value of $\frac{x}{x-1} + \frac{1}{x+1} + \frac{2x}{1-x^2}$ is 1.
- C. The value of $3.8 - (4.2 \div 0.7 \times 3) + 5 \times 2 \div 0.5$ is 5.6.
- D. $\frac{(3.63)^2 - (2.37)^2}{3.63 + 2.37}$ is equal to 6.

Choose the **correct** answer from the options given below:

1. A and C only
2. B only
3. B and D only
4. C and D only

Options :

61198710893. 1

61198710894. 2

61198710895. 3

61198710896. 4

Question Number : 24 Question Id : 6119872797 Question Type : MCQ Option Shuffling : No Display Question Number : Yes Is Question Mandatory : No Single Line Question Option : No Option Orientation : Vertical

सही गणितीय कथन (कथनों) की पहचान कीजिए:

A. $\frac{3}{4} + \frac{5}{36} + \frac{7}{144} + \dots + \frac{17}{5184} + \frac{19}{8100}$ व्यंजक 0.09 के समतुल्य है।

B. $\frac{x}{x-1} + \frac{1}{x+1} + \frac{2x}{1-x^2}$ का मान 1 है।

C. $3.8 - (4.2 \div 0.7 \times 3) + 5 \times 2 \div 0.5$ का मान 5.6 है।

D. $\frac{(3.63)^2 - (2.37)^2}{3.63 + 2.37}$ का मान 6 है।

नीचे दिए गए विकल्पों में से **सही** उत्तर का चयन कीजिए:

1. केवल A और C
2. केवल B
3. केवल B और D
4. केवल C और D

Options :

61198710893. 1

61198710894. 2

61198710895. 3

61198710896. 4

Question Number : 25 Question Id : 6119872798 Question Type : MCQ Option Shuffling : No Display Question Number : Yes Is Question Mandatory : No Single Line Question Option : No Option Orientation : Vertical

Match the LIST-I with LIST-II

LIST-I (Cost Price = C.P. and Selling Price = S.P.)		LIST-II (in Rs)	
A.	If C.P. = Rs 600, Profit = 25%, then S.P. = ?	I.	1080
B.	S.P. = Rs 1680, Loss = 20%, then C.P. = ?	II.	750
C.	Marked Price = Rs 1500, successive discounts are 20% & 10%, then S.P. = ?	III.	1200
D.	Difference between C.P. and S.P. = Rs 240, Profit = 20%, then C.P. = ?	IV.	2100

Choose the **correct** answer from the options given below:

1. A-I, B-III, C-IV, D-II
2. A-III, B-II, C-I, D-IV
3. A-II, B-IV, C-I, D-III
4. A-IV, B-I, C-III, D-II

Options :

61198710897. 1

61198710898. 2

61198710899. 3

61198710900. 4

Question Number : 25 Question Id : 6119872798 Question Type : MCQ Option Shuffling : No Display Question Number : Yes Is Question Mandatory : No Single Line Question Option : No Option Orientation : Vertical

सूची -I को सूची-II से सुमेलित करें

सूची-I (लागत मूल्य = C.P. और बिक्री मूल्य = S.P.)		सूची-II (र में)	
A.	यदि लागत मूल्य = ₹ 600, लाभ = 25%, तो बिक्री मूल्य = ?	I.	1080
B.	बिक्री मूल्य = ₹ 1680, घाटा = 20%, तो लागत मूल्य = ?	II.	750
C.	अंकित मूल्य = ₹ 1500, क्रमिक बढ़ा 20% और 10%, तो बिक्री मूल्य = ?	III.	1200
D.	लागत मूल्य और बिक्री मूल्य के बीच का अंतर = ₹ 240, लाभ = 20%, तो लागत मूल्य = ?	IV.	2100

नीचे दिए गए विकल्पों में से **सही** विकल्प चुनें:

1. A-I, B-III, C-IV, D-II
2. A-III, B-II, C-I, D-IV
3. A-II, B-IV, C-I, D-III
4. A-IV, B-I, C-III, D-II

Options :

61198710897. 1

61198710898. 2

61198710899. 3

61198710900. 4

Question Number : 26 Question Id : 6119872799 Question Type : MCQ Option Shuffling : No Display Question Number : Yes Is Question Mandatory : No Single Line Question Option : No Option Orientation : Vertical

"The sky-lotus is fragrant, because it has lotusness in it like a natural lotus", commits the fallacy (hetvābhāsa) of:

1. Asiddha
2. Satpratipakṣa
3. Savyabhicāra
4. Viruddha

Options :

61198710901. 1

61198710902. 2

61198710903. 3

61198710904. 4

Question Number : 26 Question Id : 6119872799 Question Type : MCQ Option Shuffling : No Display Question Number : Yes Is Question Mandatory : No Single Line Question Option : No Option Orientation : Vertical

"आकाश कमल सुगंधित होता है क्योंकि इसका कमलत्व प्राकृतिक कमल के समान है" में कौन सा तर्कदोष (हेत्वाभास) है?

1. असिद्ध
2. सत्प्रतिपक्ष
3. सव्यभिचार
4. विरुद्ध

Options :

61198710901. 1

61198710902. 2

61198710903. 3

61198710904. 4

Question Number : 27 Question Id : 6119872800 Question Type : MCQ Option Shuffling : No Display Question Number : Yes Is Question Mandatory : No Single Line Question Option : No Option Orientation : Vertical

Match the LIST-I with LIST-II

LIST-I (Relation between propositions)		LIST-II (Propositions)	
A.	Contradictories	I.	A and E
B.	Contraries	II.	A and I
C.	Subcontraries	III.	E and I
D.	Subalternation	IV.	I and O

Choose the **correct** answer from the options given below:

1. A-I, B-II, C-III, D-IV
2. A-II, B-I, C-IV, D-III
3. A-III, B-I, C-IV, D-II
4. A-IV, B-III, C-II, D-I

Options :

61198710905. 1

61198710906. 2

61198710907. 3

61198710908. 4

Question Number : 27 Question Id : 6119872800 Question Type : MCQ Option Shuffling : No Display Question Number : Yes Is Question Mandatory : No Single Line Question Option : No Option Orientation : Vertical

सूची -I को सूची-II से सुमेलित करें

सूची -I प्रतिज्ञप्तियों के बीच का संबंध)		सूची -II (प्रतिज्ञप्ति)	
A.	व्याघातक	I.	A और E
B.	विपरीत	II.	A और I
C.	विरुद्ध	III.	E और I
D.	उपाश्रयण	IV.	I और O

नीचे दिए गए विकल्पों में से **सही** विकल्प चुनें:

1. A-I, B-II, C-III, D-IV
2. A-II, B-I, C-IV, D-III
3. A-III, B-I, C-IV, D-II
4. A-IV, B-III, C-II, D-I

Options :

61198710905. 1
61198710906. 2
61198710907. 3
61198710908. 4

Question Number : 28 Question Id : 6119872801 Question Type : MCQ Option Shuffling : No Display Question Number : Yes Is Question Mandatory : No Single Line Question Option : No Option Orientation : Vertical

Given below are two statements: one is labelled as **Assertion A** and the other is labelled as **Reason R**

Assertion A: The terms validity and invalidity apply only to deductive arguments.

Reason R: In a deductive argument, conclusion follows from its premises with absolute necessity.

In the light of the above statements, choose the **most appropriate** answer from the options given below

1. Both **A** and **R** are correct and **R** is the correct explanation of **A**
2. Both **A** and **R** are correct but **R** is NOT the correct explanation of **A**
3. **A** is correct but **R** is not correct
4. **A** is not correct but **R** is correct

Options :

61198710909. 1
61198710910. 2
61198710911. 3
61198710912. 4

Question Number : 28 Question Id : 6119872801 Question Type : MCQ Option Shuffling : No Display Question Number : Yes Is Question Mandatory : No Single Line Question Option : No Option Orientation : Vertical

नीचे दो कथन दिए गए हैं: एक अभिकथन (Assertion A) के रूप में है तो दूसरा उसके कारण (Reason R) के रूप में:

अभिकथन A: वैधता और अवैधता के पद केवल निगमनात्मक युक्तियों में ही प्रयुक्त होते हैं।

कारण R: किसी निगमनात्मक युक्ति में, निष्कर्ष अपनी आधारिकाओं से परम अनिवार्यतापूर्वक उद्गमित होता है।

उपरोक्त कथन के आलोक में, नीचे दिए गए विकल्पों में से सबसे उपयुक्त **उत्तर** का चयन कीजिए

1. A और R दोनों सही हैं और R, A की सही व्याख्या है
2. A और R दोनों सही हैं और R, A की सही व्याख्या नहीं है
3. A सही है और R सही नहीं है
4. A सही नहीं है और R सही है

Options :

- 61198710909. 1
- 61198710910. 2
- 61198710911. 3
- 61198710912. 4

Question Number : 29 Question Id : 6119872802 Question Type : MCQ Option Shuffling : No Display Question Number : Yes Is Question Mandatory : No Single Line Question Option : No Option Orientation : Vertical

Which of the following is/are TRUE?

- A. The Appeal to the Populace is a formal fallacy.
- B. In the Red Herring fallacy, some distraction is used to mislead and confuse.
- C. In the Appeal to Force fallacy, personalized criticism is made.
- D. In the Strawman fallacy, force is used to win consent.

Choose the **correct** answer from the options given below:

1. A and B only
2. B only
3. A, C and D only
4. B and D only

Options :

- 61198710913. 1
- 61198710914. 2
- 61198710915. 3
- 61198710916. 4

Question Number : 29 Question Id : 6119872802 Question Type : MCQ Option Shuffling : No Display Question Number : Yes Is Question Mandatory : No Single Line Question Option : No Option Orientation : Vertical

निम्नलिखित में से कौन सा/से सत्य है/हैं?

- A. लोकोत्तेजक युक्ति एक आकारिक तर्कदोष है।
- B. रेड हैरिंग तर्कदोष में, भ्रमित करने के लिए कुछ विकर्षण का उपयोग किया जाता है।
- C. बाध्यकारी आग्रह तर्कदोष में, व्यक्तिगत आलोचना की जाती है।
- D. स्ट्रॉमैन तर्कदोष में बल का उपयोग सहमति प्राप्त करने के लिए किया जाता है।

नीचे दिए गए विकल्पों में से **सही** उत्तर का चयन कीजिए:

- 1. केवल A और B
- 2. केवल B
- 3. केवल A, C और D
- 4. केवल B और D

Options :

- 61198710913. 1
- 61198710914. 2
- 61198710915. 3
- 61198710916. 4

Question Number : 30 Question Id : 6119872803 Question Type : MCQ Option Shuffling : No Display Question Number : Yes Is Question Mandatory : No Single Line Question Option : No Option Orientation : Vertical

Which of the following is/are NOT true:

- A. The presence of the middle term in the minor term is called pakṣadharmatā.
- B. The knowledge of pakṣadharmatā as qualified by vyāpti is called upamiti.
- C. Indian logic does not separate deduction from induction.
- D. Pakṣatā is the nature of the subject in an inference.

Choose the **correct** answer from the options given below:

- 1. D only
- 2. A and B only
- 3. A and C only
- 4. B only

Options :

- 61198710917. 1
- 61198710918. 2
- 61198710919. 3
- 61198710920. 4

Question Number : 30 Question Id : 6119872803 Question Type : MCQ Option Shuffling : No Display Question Number : Yes Is Question Mandatory : No Single Line Question Option : No Option Orientation : Vertical

निम्नलिखित में से कौन सा/से सत्य है/हैं?

- A. गौण पद में मध्य पद की उपस्थिति पक्षधर्मता कहलाती है।
- B. व्याप्ति द्वारा सिद्ध रूप में पक्षधर्मता का ज्ञान उपमिति कहलाता है।
- C. भारतीय तर्कशास्त्र निगमन को आगमन से पृथक नहीं करता है।
- D. अनुमान में पक्षता विषय स्वरूप होती है।

नीचे दिए गए विकल्पों में से **सही** उत्तर का चयन कीजिए:

- 1. केवल D
- 2. केवल A और B
- 3. केवल A और C
- 4. केवल B

Options :

- 61198710917. 1
- 61198710918. 2
- 61198710919. 3
- 61198710920. 4

Question Number : 31 Question Id : 6119872804 Question Type : MCQ Option Shuffling : No Display Question Number : Yes Is Question Mandatory : No Single Line Question Option : No Option Orientation : Vertical

A person who uses his expertise to gain access to other people's computers to get information illegally or to cause damage, is a

- 1. Hacker
- 2. Analyst
- 3. Messenger
- 4. Spammer

Options :

- 61198710921. 1
- 61198710922. 2
- 61198710923. 3
- 61198710924. 4

Question Number : 31 Question Id : 6119872804 Question Type : MCQ Option Shuffling : No Display Question Number : Yes Is Question Mandatory : No Single Line Question Option : No Option Orientation : Vertical

अवैध रूप से सूचना प्राप्त करने अथवा क्षति पहुंचाने के लिए अपनी विशेषज्ञता का प्रयोग कर दूसरों के कंप्यूटरों तक पहुंच प्राप्त करने वाला व्यक्ति क्या कहलाता है?

1. हैकर
2. विश्लेषक
3. संदेशवाहक
4. स्पैमर

Options :

- 61198710921. 1
- 61198710922. 2
- 61198710923. 3
- 61198710924. 4

Question Number : 32 Question Id : 6119872805 Question Type : MCQ Option Shuffling : No Display Question Number : Yes Is Question Mandatory : No Single Line Question Option : No Option Orientation : Vertical

Which of the following is related to computer software?

1. Spreadsheet
2. Mouse
3. Stylus
4. Pen drive

Options :

- 61198710925. 1
- 61198710926. 2
- 61198710927. 3
- 61198710928. 4

Question Number : 32 Question Id : 6119872805 Question Type : MCQ Option Shuffling : No Display Question Number : Yes Is Question Mandatory : No Single Line Question Option : No Option Orientation : Vertical

निम्नलिखित में से कौन कंप्यूटर सॉफ्टवेयर से संबंधित है?

1. स्प्रेडशीट
2. माउस
3. स्टाइलस
4. पेन ड्राइव

Options :

- 61198710925. 1
- 61198710926. 2
- 61198710927. 3
- 61198710928. 4

Question Number : 33 Question Id : 6119872806 Question Type : MCQ Option Shuffling : No Display Question Number : Yes Is Question Mandatory : No Single Line Question Option : No Option Orientation : Vertical

Match the LIST-I with LIST-II

LIST-I		LIST-II	
A.	Simplex	I.	Multiple bits transmitted over several channels at the same time
B.	Serial	II.	Data transmission in one direction only
C.	Full-duplex	III.	Data is sent one bit at a time over a single channel
D.	Parallel	IV.	Data transmission in two directions at the same time

Choose the **correct** answer from the options given below:

1. A-II, B-I, C-IV, D-III
2. A-II, B-III, C-IV, D-I
3. A-III, B-II, C-I, D-IV
4. A-III, B-II, C-IV, D-I

Options :

61198710929. 1

61198710930. 2

61198710931. 3

61198710932. 4

Question Number : 33 Question Id : 6119872806 Question Type : MCQ Option Shuffling : No Display Question Number : Yes Is Question Mandatory : No Single Line Question Option : No Option Orientation : Vertical

सूची -I को सूची-II से सुमेलित करें

सूची -I		सूची -II	
A.	सिम्पलेक्स	I.	एक ही समय पर अनेक चैनलों पर बहुल बिटों का प्रेषण
B.	सीरियल	II.	केवल एक ही दिशा में डाटा प्रेषण
C.	फुल डुप्लेक्स	III.	एक चैनल पर एक समय में एक बिट डाटा भेजना
D.	समांतर (पैरेलल)	IV.	एक ही समय पर दो दिशाओं में डाटा प्रेषण

नीचे दिए गए विकल्पों में से **सही** विकल्प चुनें:

1. A-II, B-I, C-IV, D-III
2. A-II, B-III, C-IV, D-I
3. A-III, B-II, C-I, D-IV
4. A-III, B-II, C-IV, D-I

Options :

61198710929. 1

61198710930. 2

61198710931. 3

61198710932. 4

Question Number : 34 Question Id : 6119872807 Question Type : MCQ Option Shuffling : No Display Question Number : Yes Is Question Mandatory : No Single Line Question Option : No Option Orientation : Vertical

Which of the following are system software?

- A. Compiler
- B. Word Processor
- C. Interpreter
- D. Linker
- E. Assembler

Choose the **correct** answer from the options given below:

1. A, C, D and E only
2. A, B and D only
3. A, B, C and E only
4. B, C and D only

Options :

- 61198710933. 1
- 61198710934. 2
- 61198710935. 3
- 61198710936. 4

Question Number : 34 Question Id : 6119872807 Question Type : MCQ Option Shuffling : No Display Question Number : Yes Is Question Mandatory : No Single Line Question Option : No Option Orientation : Vertical

निम्नलिखित में से कौन-कौन सिस्टम सॉफ्टवेयर हैं?

- A. संकलक (कंपाइलर)
- B. शब्द संसाधित्र (वर्ड प्रोसेसर)
- C. व्याख्याकार (इंटरप्रेटर)
- D. योजक (लिंकर)
- E. संग्रहक (असेम्बलर)

नीचे दिए गए विकल्पों में से **सही** उत्तर का चयन कीजिए:

1. केवल A, C, D और E
2. केवल A, B और D
3. केवल A, B, C और E
4. केवल B, C और D

Options :

- 61198710933. 1
- 61198710934. 2
- 61198710935. 3
- 61198710936. 4

Question Number : 35 Question Id : 6119872808 Question Type : MCQ Option Shuffling : No Display Question Number : Yes Is Question Mandatory : No Single Line Question Option : No Option Orientation : Vertical

Arrange the following in ascending order of size:

- A. Mini Computer
- B. Notebook Computer
- C. Desktop Computer
- D. Tablet

Choose the **correct** answer from the options given below:

1. D, B, A, C
2. A, B, D, C
3. D, B, C, A
4. B, A, D, C

Options :

- 61198710937. 1
- 61198710938. 2
- 61198710939. 3
- 61198710940. 4

Question Number : 35 Question Id : 6119872808 Question Type : MCQ Option Shuffling : No Display Question Number : Yes Is Question Mandatory : No Single Line Question Option : No Option Orientation : Vertical

निम्नलिखित को उनके आकार के आरोही क्रम में व्यवस्थित कीजिए:

- A. मिनी कंप्यूटर
- B. नोटबुक कंप्यूटर
- C. डेस्कटॉप कंप्यूटर
- D. टेबलेट

नीचे दिए गए विकल्पों में से **सही** उत्तर का चयन कीजिए:

1. D, B, A, C
2. A, B, D, C
3. D, B, C, A
4. B, A, D, C

Options :

- 61198710937. 1
- 61198710938. 2
- 61198710939. 3
- 61198710940. 4

Question Number : 36 Question Id : 6119872809 Question Type : MCQ Option Shuffling : No Display Question Number : Yes Is Question Mandatory : No Single Line Question Option : No Option Orientation : Vertical

Given below are two statements: one is labelled as **Assertion A** and the other is labelled as **Reason R**

Assertion A: Earth's atmosphere keeps the planet warm mainly by reflecting the incoming solar radiation.

Reason R: Greenhouse gases absorb longwave radiation emitted from the earth's surface.

In the light of the above statements, choose the *most appropriate* answer from the options given below

1. Both **A** and **R** are correct and **R** is the correct explanation of **A**
2. Both **A** and **R** are correct but **R** is NOT the correct explanation of **A**
3. **A** is correct but **R** is not correct
4. **A** is not correct but **R** is correct

Options :

61198710941. 1

61198710942. 2

61198710943. 3

61198710944. 4

Question Number : 36 Question Id : 6119872809 Question Type : MCQ Option Shuffling : No Display Question Number : Yes Is Question Mandatory : No Single Line Question Option : No Option Orientation : Vertical

नीचे दो कथन दिए गए हैं: एक अभिकथन (**Assertion A**) के रूप में है तो दूसरा उसके कारण (**Reason R**) के रूप में:

अभिकथन A: पृथ्वी का वायुमंडल मुख्यतः आपतित सौर विकिरण के परावर्तन से ग्रह को गर्म रखता है।

कारण R: ग्रीनहाउस गैसों पृथ्वी की सतह से उत्सर्जित दीर्घतरंग विकिरण को अवशोषित करती हैं।

उपरोक्त कथन के आलोक में, नीचे दिए गए विकल्पों में से सबसे उपयुक्त **उत्तर** का चयन कीजिए

1. **A** और **R** दोनों सही हैं और **R**, **A** की सही व्याख्या है
2. **A** और **R** दोनों सही हैं और **R**, **A** की सही व्याख्या नहीं है
3. **A** सही है और **R** सही नहीं है
4. **A** सही नहीं है और **R** सही है

Options :

61198710941. 1

61198710942. 2

61198710943. 3

61198710944. 4

Question Number : 37 Question Id : 6119872810 Question Type : MCQ Option Shuffling : No Display Question Number : Yes Is Question Mandatory : No Single Line Question Option : No Option Orientation : Vertical

Arrange the following states of India in the increasing order of total installed capacity of renewable power as of August, 2025.

- A. Uttar Pradesh
- B. Gujrat
- C. Tamil Nadu
- D. Karnataka

Choose the **correct** answer from the options given below:

1. A, B, C, D
2. D, C, B, A
3. A, D, C, B
4. C, A, D, B

Options :

- 61198710945. 1
- 61198710946. 2
- 61198710947. 3
- 61198710948. 4

Question Number : 37 Question Id : 6119872810 Question Type : MCQ Option Shuffling : No Display Question Number : Yes Is Question Mandatory : No Single Line Question Option : No Option Orientation : Vertical

भारत के निम्नलिखित राज्यों को अगस्त, 2025 की स्थिति के अनुसार नवीकरणीय विद्युत की कुल संस्थापित क्षमता के बढ़ते क्रम में रखें:

- A. उत्तर प्रदेश
- B. गुजरात
- C. तमिलनाडु
- D. कर्नाटक

नीचे दिए गए विकल्पों में से **सही** उत्तर का चयन कीजिए:

1. A, B, C, D
2. D, C, B, A
3. A, D, C, B
4. C, A, D, B

Options :

- 61198710945. 1
- 61198710946. 2
- 61198710947. 3
- 61198710948. 4

Question Number : 38 Question Id : 6119872811 Question Type : MCQ Option Shuffling : No Display Question Number : Yes Is Question Mandatory : No Single Line Question Option : No Option Orientation : Vertical

Match the LIST-I with LIST-II

LIST-I (Zone)		LIST-II (Day time sound limits in dB as per Noise Pollution Rules, 2000)	
A.	Industrial	I.	50
B.	Commercial	II.	65
C.	Residential	III.	75
D.	Silence	IV.	55

Choose the **correct** answer from the options given below:

1. A-III, B-II, C-IV, D-I
2. A-III, B-IV, C-II, D-I
3. A-I, B-IV, C-II, D-III
4. A-I, B-II, C-IV, D-III

Options :

61198710949. 1

61198710950. 2

61198710951. 3

61198710952. 4

Question Number : 38 Question Id : 6119872811 Question Type : MCQ Option Shuffling : No Display Question Number : Yes Is Question Mandatory : No Single Line Question Option : No Option Orientation : Vertical

सूची -I को सूची-II से सुमेलित करें

सूची-I (जोन)		सूची-II (ध्वनि प्रदूषण नियमावली, 2000 के अनुसार दिन के समय dB में ध्वनि सीमा)	
A.	औद्योगिक	I.	50
B.	वाणिज्यिक	II.	65
C.	आवासीय	III.	75
D.	नीरवता (साइलेंस)	IV.	55

नीचे दिए गए विकल्पों में से **सही** विकल्प चुनें:

1. A-III, B-II, C-IV, D-I
2. A-III, B-IV, C-II, D-I
3. A-I, B-IV, C-II, D-III
4. A-I, B-II, C-IV, D-III

Options :

61198710949. 1

61198710950. 2

61198710951. 3

61198710952. 4

Question Number : 39 Question Id : 6119872812 Question Type : MCQ Option Shuffling : No Display Question Number : Yes Is Question Mandatory : No Single Line Question Option : No Option Orientation : Vertical

Which of the following are commonly responsible for acid rain?

1. N_2O and CO_2
2. NO_2 and SO_2
3. NH_3 and CH_4
4. CO_2 and O_3

Options :

- 61198710953. 1
- 61198710954. 2
- 61198710955. 3
- 61198710956. 4

Question Number : 39 Question Id : 6119872812 Question Type : MCQ Option Shuffling : No Display Question Number : Yes Is Question Mandatory : No Single Line Question Option : No Option Orientation : Vertical

अम्ल वर्षा के लिए निम्नलिखित में से सामान्यतः कौन जिम्मेदार होते हैं?

1. N_2O और CO_2
2. NO_2 और SO_2
3. NH_3 और CH_4
4. CO_2 और O_3

Options :

- 61198710953. 1
- 61198710954. 2
- 61198710955. 3
- 61198710956. 4

Question Number : 40 Question Id : 6119872813 Question Type : MCQ Option Shuffling : No Display Question Number : Yes Is Question Mandatory : No Single Line Question Option : No Option Orientation : Vertical

Which of the following is NOT a requirement for a proper sanitary landfill site?

1. The area should not be geologically active.
2. It should be located below the water table.
3. It should not be very near to residential communities.
4. It must be accessible to roads so that garbage can be delivered easily.

Options :

- 61198710957. 1
- 61198710958. 2
- 61198710959. 3
- 61198710960. 4

Question Number : 40 Question Id : 6119872813 Question Type : MCQ Option Shuffling : No Display Question Number : Yes Is Question Mandatory : No Single Line Question Option : No Option Orientation : Vertical

निम्नलिखित में से कौन-सी, उचित सेनिटरी लैंड-फिल साइट के लिए एक आवश्यकता नहीं है?

1. क्षेत्र भूगर्भीय दृष्टि से सक्रिय नहीं होना चाहिए।
2. यह भौम जल स्तर के नीचे स्थित होना चाहिए।
3. यह आवासीय समुदायों के बहुत निकट नहीं होना चाहिए।
4. यह सड़कों से पहुँच सकने योग्य होना चाहिए ताकि कूड़ा आसानी से पहुँचाया जा सके।

Options :

61198710957. 1

61198710958. 2

61198710959. 3

61198710960. 4

Question Number : 41 Question Id : 6119872814 Question Type : MCQ Option Shuffling : No Display Question Number : Yes Is Question Mandatory : No Single Line Question Option : No Option Orientation : Vertical

As per the National Education Policy-2020, what percent of learners from school and higher education were expected to have exposure to vocational education by 2025?

1. 30%
2. 35%
3. 40%
4. 50%

Options :

61198710961. 1

61198710962. 2

61198710963. 3

61198710964. 4

Question Number : 41 Question Id : 6119872814 Question Type : MCQ Option Shuffling : No Display Question Number : Yes Is Question Mandatory : No Single Line Question Option : No Option Orientation : Vertical

राष्ट्रीय शिक्षा नीति-2020 के अनुसार विद्यालयी और उच्च शिक्षा के कितने प्रतिशत अधिगमकर्ताओं को वर्ष 2025 तक व्यावसायिक शिक्षा से उद्भासित होने की प्रत्याशा थी?

1. 30%
2. 35%
3. 40%
4. 50%

Options :

61198710961. 1

61198710962. 2

61198710963. 3

61198710964. 4

Question Number : 42 Question Id : 6119872815 Question Type : MCQ Option Shuffling : No Display Question Number : Yes Is Question Mandatory : No Single Line Question Option : No Option Orientation : Vertical

Which one of the following is NOT the role of Higher Education Institutions for promoting inclusive practices?

1. To ensure a barrier-free and an inclusive mechanism to help in the admission process.
2. To take appropriate measures to ensure universal accessibility in infrastructure systems.
3. To make compulsory provisions for teacher training based on Universal Design of Learning (UDL).
4. To facilitate participation in corporate life on an equal basis with others.

Options :

- 61198710965. 1
- 61198710966. 2
- 61198710967. 3
- 61198710968. 4

Question Number : 42 Question Id : 6119872815 Question Type : MCQ Option Shuffling : No Display Question Number : Yes Is Question Mandatory : No Single Line Question Option : No Option Orientation : Vertical

समावेशी व्यवहार के संवर्धन के लिए उच्च शिक्षा संस्थानों की भूमिका निम्नलिखित में से कौन सी नहीं है?

1. प्रवेश प्रक्रिया में सहायता के लिए अवरोध रहित तथा समावेशी तंत्र सुनिश्चित करना।
2. अवसंरचना तंत्र में सार्वभौमिक अभिगम्यता सुनिश्चित करने के लिए उपयुक्त उपाय करना।
3. सार्वभौमिक अधिगम अभिकल्प (यू डी एल) पर आधारित अध्यापक प्रशिक्षण हेतु अनिवार्य उपबंध करना।
4. दूसरों के साथ समान आधार पर कार्पोरेट जीवन में सहभागिता को सुगम बनाना।

Options :

- 61198710965. 1
- 61198710966. 2
- 61198710967. 3
- 61198710968. 4

Question Number : 43 Question Id : 6119872816 Question Type : MCQ Option Shuffling : No Display Question Number : Yes Is Question Mandatory : No Single Line Question Option : No Option Orientation : Vertical

Given below are two statements: one is labelled as **Assertion A** and the other is labelled as **Reason R**

Assertion A: Education is the most important pillar of a civilized and dignified society.

Reason R: The educational institutions do not represent values and ethics.

In the light of the above statements, choose the *most appropriate* answer from the options given below

1. Both **A** and **R** are correct and **R** is the correct explanation of **A**
2. Both **A** and **R** are correct but **R** is NOT the correct explanation of **A**
3. **A** is correct but **R** is not correct
4. **A** is not correct but **R** is correct

Options :

61198710969. 1

61198710970. 2

61198710971. 3

61198710972. 4

Question Number : 43 Question Id : 6119872816 Question Type : MCQ Option Shuffling : No Display Question Number : Yes Is Question Mandatory : No Single Line Question Option : No Option Orientation : Vertical

नीचे दो कथन दिए गए हैं: एक अभिकथन (**Assertion A**) के रूप में है तो दूसरा उसके कारण (**Reason R**) के रूप में:

अभिकथन A: शिक्षा सभ्य और गरिमापूर्ण समाज का सर्वाधिक महत्वपूर्ण स्तंभ है।

कारण R: शैक्षिक संस्थान मूल्य और नैतिकता को निरूपित नहीं करते हैं।

उपरोक्त कथन के आलोक में, नीचे दिए गए विकल्पों में से सबसे उपयुक्त **उत्तर** का चयन कीजिए

1. **A** और **R** दोनों सही हैं और **R**, **A** की सही व्याख्या है
2. **A** और **R** दोनों सही हैं और **R**, **A** की सही व्याख्या नहीं है
3. **A** सही है और **R** सही नहीं है
4. **A** सही नहीं है और **R** सही है

Options :

61198710969. 1

61198710970. 2

61198710971. 3

61198710972. 4

Question Number : 44 Question Id : 6119872817 Question Type : MCQ Option Shuffling : No Display Question Number : Yes Is Question Mandatory : No Single Line Question Option : No Option Orientation : Vertical

Arrange the following education institutions in the increasing order of the entry eligibility for the programs offered there?

- A. Indian Institutes of Technology (IITs)
- B. Jan Shiksha Sansthan
- C. Industrial Training Institutes (ITIs)
- D. Polytechnics

Choose the **correct** answer from the options given below:

- 1. B, C, D, A
- 2. C, D, A, B
- 3. B, D, C, A
- 4. C, B, A, D

Options :

- 61198710973. 1
- 61198710974. 2
- 61198710975. 3
- 61198710976. 4

Question Number : 44 Question Id : 6119872817 Question Type : MCQ Option Shuffling : No Display Question Number : Yes Is Question Mandatory : No Single Line Question Option : No Option Orientation : Vertical

निम्नलिखित शिक्षा संस्थानों को वहाँ उपलब्ध कार्यक्रमों हेतु प्रवेश योग्यता के बढ़ते क्रम में व्यवस्थित कीजिए:

- A. भारतीय प्रौद्योगिकी संस्थान (IITs)
- B. जन शिक्षा संस्थान
- C. औद्योगिक प्रशिक्षण संस्थान (ITIs)
- D. पालिटेक्निक

नीचे दिए गए विकल्पों में से **सही** उत्तर का चयन कीजिए:

- 1. B, C, D, A
- 2. C, D, A, B
- 3. B, D, C, A
- 4. C, B, A, D

Options :

- 61198710973. 1
- 61198710974. 2
- 61198710975. 3
- 61198710976. 4

Question Number : 45 Question Id : 6119872818 Question Type : MCQ Option Shuffling : No Display Question Number : Yes Is Question Mandatory : No Single Line Question Option : No Option Orientation : Vertical

Match the LIST-I with LIST-II

LIST-I (Layer of Panchakosha)		LIST-II (Aspect of Development)	
A.	Annamaya Kosha	I.	mind layer
B.	Anandamaya Kosha	II.	intellectual layer
C.	Manomaya Kosha	III.	inner self
D.	Vijnanamaya Kosha	IV.	physical layer

Choose the **correct** answer from the options given below:

1. A-I, B-II, C-IV, D-III
2. A-IV, B-III, C-I, D-II
3. A-IV, B-I, C-II, D-III
4. A-III, B-IV, C-II, D-I

Options :

61198710977. 1

61198710978. 2

61198710979. 3

61198710980. 4

Question Number : 45 Question Id : 6119872818 Question Type : MCQ Option Shuffling : No Display Question Number : Yes Is Question Mandatory : No Single Line Question Option : No Option Orientation : Vertical

सूची -I को सूची-II से सुमेलित करें

सूची -I (पंचकोश का संस्तर)		सूची -II (विकास के पक्ष)	
A.	अन्नमय कोश	I.	मनस् संस्तर
B.	आनंदमय कोश	II.	बौद्धिक संस्तर
C.	मनोमय कोश	III.	अंतरात्मा
D.	विज्ञानमय कोश	IV.	भौतिक संस्तर

नीचे दिए गए विकल्पों में से **सही** विकल्प चुनें:

1. A-I, B-II, C-IV, D-III
2. A-IV, B-III, C-I, D-II
3. A-IV, B-I, C-II, D-III
4. A-III, B-IV, C-II, D-I

Options :

61198710977. 1

61198710978. 2

61198710979. 3

61198710980. 4

Sub-Section Number :	3
Sub-Section Id :	611987111
Question Shuffling Allowed :	No
Is Section Default? :	No

Question Id : 6119872819 Question Type : COMPREHENSION Sub Question Shuffling Allowed : Yes Group Comprehension Questions : No Question Pattern Type : NonMatrix

Question Numbers : (46 to 50)

Question Label : Comprehension

Read the passage given below and answer questions:

If unpleasant things happen in our daily life, we immediately pay attention to them but do not notice other pleasant things. We experience these as normal or usual. This shows that compassion and affection are part of human nature.

Compassion or love has different levels; some are more mixed than others with desire or attachment. For example, parents' attitudes toward their children contain a mixture of desire and attachment with compassion. The love and compassion between husband and wife-especially at the beginning of marriage when they don't know the deep nature of each other-are on a superficial level. As soon as the attitude of one partner changes, the attitude of the other becomes opposite to what it was. That kind of love and compassion is more of the nature of attachment. Attachment means some kind of feeling of closeness projected by oneself. In reality, the other side may be very negative, but due to one's own mental attachment and projection, it appears as something nice. Furthermore, attachment causes one to exaggerate a small good quality and make it appear 100 percent beautiful or 100 percent positive. As soon as the mental attitudes change, that picture completely changes. Therefore, that kind of love and compassion is, rather, attachment.

Sub questions

Question Number : 46 Question Id : 6119872820 Question Type : MCQ Option Shuffling : No Display Question Number : Yes Is Question Mandatory : No Single Line Question Option : No Option Orientation : Vertical

Choose the word that can replace the word "superficial" in the passage:

1. Superior
2. Suburban
3. Surface
4. Spurious

Options :

61198710981. 1

61198710982. 2

61198710983. 3

61198710984. 4

Question Number : 47 Question Id : 6119872821 Question Type : MCQ Option Shuffling : No Display Question Number : Yes Is Question Mandatory : No Single Line Question Option : No Option Orientation : Vertical

According to the passage, when one partner is negative but appears as nice and pleasant to the other, it is because of the latter's

1. Prejudice
2. Strong feelings
3. Gender Bias
4. Mental projection

Options :

61198710985. 1

61198710986. 2

61198710987. 3

61198710988. 4

Question Number : 48 Question Id : 6119872822 Question Type : MCQ Option Shuffling : No Display Question Number : Yes Is Question Mandatory : No Single Line Question Option : No Option Orientation : Vertical

In our daily life, according to the passage, the _____ things are always noticed.

1. unpleasant
2. normal
3. pleasant
4. humdrum

Options :

61198710989. 1

61198710990. 2

61198710991. 3

61198710992. 4

Question Number : 49 Question Id : 6119872823 Question Type : MCQ Option Shuffling : No Display Question Number : Yes Is Question Mandatory : No Single Line Question Option : No Option Orientation : Vertical

The presence of attachment in a relationship will give rise to...

1. exaggeration of any small good quality.
2. a mixture of unpleasantness and sorrow.
3. an exact match of attitudes all the time.
4. a clear understanding of the partner's deep nature.

Options :

61198710993. 1

61198710994. 2

61198710995. 3

61198710996. 4

Question Number : 50 Question Id : 6119872824 Question Type : MCQ Option Shuffling : No Display Question Number : Yes Is Question Mandatory : No Single Line Question Option : No Option Orientation : Vertical

The passage holds that "attachment" is a feeling of closeness projected by

1. the partner
2. the individual themselves
3. the environment
4. the family

Options :

61198710997. 1

61198710998. 2

61198710999. 3

61198711000. 4

Question Id : 6119872819 Question Type : COMPREHENSION Sub Question Shuffling Allowed : Yes Group
Comprehension Questions : No Question Pattern Type : NonMatrix

Question Numbers : (46 to 50)

Question Label : Comprehension

निम्नलिखित गद्यांश को ध्यानपूर्वक पढ़िए और दिए गए प्रश्नों के उत्तर दीजिए:

यदि हमारे दैनिक जीवन में कोई बुरी घटना घटित होती है तो तत्काल हमारा ध्यान उन चीजों के प्रति जाता है और अन्य सुखद चीजों को हम नहीं देखते हैं। हम इसे सामान्य अथवा प्रायिक के रूप में अनुभव करते हैं। इससे पता चलता है कि करूणा और स्नेह मानव के स्वभाव के अंश हैं।

करूणा या प्रेम के अलग-अलग स्तर हैं, कुछ स्तर इच्छा या आसक्ति के कारण अन्य की तुलना में अपेक्षाकृत अधिक मिश्रित होते हैं। उदाहरणार्थ, माता-पिता की अपने बच्चों के प्रति अभिवृत्ति में करूणायुक्त इच्छा और आसक्ति का मिश्रित भाव होता है। पति और पत्नी के बीच प्रेम और करूणा विशेष रूप से विवाह के आरंभिक दिनों में जब वे एक दूसरे की गहन प्रकृति से अनभिज्ञ रहते हैं: ऊपरी स्तर पर रहता है। जैसे ही एक साथी की अभिवृत्ति में बदलाव आता है, प्रतिपक्ष की अभिवृत्ति पहले से बिल्कुल विपरीत हो जाती है। आसक्ति का तात्पर्य स्वयं द्वारा प्रक्षेपित एक प्रकार की नजदीकी का भाव है। वास्तव में, अन्य पक्ष (दूसरा पक्ष) अत्यधिक नकारात्मक हो सकता है किन्तु अपने स्वयं की मानसिक आसक्ति और प्रक्षेपण के कारण यह कुछ अच्छा सा प्रतीत होता है। इसके अलावा, आसक्ति के कारण व्यक्ति अल्प उत्तम गुण को बढ़ा-चढ़ाकर प्रस्तुत करता है और इसे इस प्रकार दिखाता है मानो कि यह शत-प्रतिशत सुंदर या शत-प्रतिशत सकारात्मक हो। ज्यों ही मानसिक अभिवृत्ति में परिवर्तन होता है, वह तस्वीर पूर्णतः बदल जाती है। इसलिए, उस तरह का प्रेम और करूणा, एक प्रकार की आसक्ति ही है।

Sub questions

Question Number : 46 Question Id : 6119872820 Question Type : MCQ Option Shuffling : No Display Question
Number : Yes Is Question Mandatory : No Single Line Question Option : No Option Orientation : Vertical

गद्यांश में प्रयुक्त 'ऊपरी' शब्द को निम्नलिखित में से किससे प्रतिस्थापित किया जा सकता है:

1. श्रेष्ठ
2. उपशहरी
3. सतही
4. नकली

Options :

61198710981. 1
61198710982. 2
61198710983. 3
61198710984. 4

Question Number : 47 Question Id : 6119872821 Question Type : MCQ Option Shuffling : No Display Question
Number : Yes Is Question Mandatory : No Single Line Question Option : No Option Orientation : Vertical

गद्यांश के अनुसार जब एक साथी नकारात्मक होता है किन्तु दूसरे को अच्छा और आनंददायक प्रतीत होता है, तो ऐसा बाद वाले व्यक्ति के _____ के कारण होता है।

1. पूर्वाग्रह
2. तीव्र भावना
3. जेंडर अभिनति
4. मानसिक प्रक्षेपण

Options :

- 61198710985. 1
- 61198710986. 2
- 61198710987. 3
- 61198710988. 4

Question Number : 48 Question Id : 6119872822 Question Type : MCQ Option Shuffling : No Display Question Number : Yes Is Question Mandatory : No Single Line Question Option : No Option Orientation : Vertical

गद्यांश के अनुसार, हमारे दैनिक जीवन में _____ चीजें सदैव ध्यान में आती हैं।

- 1. दुःखद
- 2. सामान्य
- 3. सुखद
- 4. नीरस

Options :

- 61198710989. 1
- 61198710990. 2
- 61198710991. 3
- 61198710992. 4

Question Number : 49 Question Id : 6119872823 Question Type : MCQ Option Shuffling : No Display Question Number : Yes Is Question Mandatory : No Single Line Question Option : No Option Orientation : Vertical

किसी संबंध में आसक्ति से निम्नलिखित में से क्या उत्पन्न होगा?

- 1. किसी अल्प उत्तम गुण की अतिशयोक्ति
- 2. दुःखद भावना और दुःख का मिश्रण
- 3. सर्वदा अभिवृत्तियों का सटीक युग्म
- 4. साथी की गहन प्रकृति की स्पष्ट समझ

Options :

- 61198710993. 1
- 61198710994. 2
- 61198710995. 3
- 61198710996. 4

Question Number : 50 Question Id : 6119872824 Question Type : MCQ Option Shuffling : No Display Question Number : Yes Is Question Mandatory : No Single Line Question Option : No Option Orientation : Vertical

गद्यांश में उल्लेखित "आसक्ति" किसके द्वारा प्रक्षेपित नजदीकी का भाव है?

- 1. साथी
- 2. स्वयं व्यक्ति
- 3. वातावरण
- 4. परिवार

Options :

- 61198710997. 1

61198710998. 2

61198710999. 3

61198711000. 4

Geography

Section Id :	61198738
Section Number :	2
Section type :	Online
Mandatory or Optional :	Mandatory
Number of Questions :	92
Number of Questions to be attempted :	92
Section Marks :	200
Maximum Instruction Time :	0
Sub-Section Number :	1
Sub-Section Id :	611987112
Question Shuffling Allowed :	Yes
Is Section Default? :	No

Question Number : 51 Question Id : 6119872825 Question Type : MCQ Option Shuffling : No Display Question Number : Yes Is Question Mandatory : No Single Line Question Option : No Option Orientation : Vertical

The angle of repose refers to:

1. Maximum slope angle which allows debris to stay in place without movement.
2. Minimum slope angle which allows debris movement.
3. Nearly all natural surfaces which have slope to some degree.
4. Hillslopes that are covered with residual regolith, which grades downward into solid and unaltered rock.

Options :

61198711001. 1

61198711002. 2

61198711003. 3

61198711004. 4

Question Number : 51 Question Id : 6119872825 Question Type : MCQ Option Shuffling : No Display Question Number : Yes Is Question Mandatory : No Single Line Question Option : No Option Orientation : Vertical

प्रतिक्रिया का कोण संकेतक है:

1. अधिकतम ढाल कोण जो मलबे को बिना गति के एक स्थान पर ठहरने देता है।
2. न्यूनतम ढाल कोण जो मलबे को गति करने देता है।
3. लगभग सभी प्राकृतिक सतहें जिनका कुछ अंश तक ढाल होता है।
4. पहाड़ी ढाल जो अवशिष्ट शैलमलबे से ढके होते हैं, जो नीचे की ओर ठोस तथा अपरिवर्तित चट्टान में क्रमस्थापित होते हैं।

Options :

- 61198711001. 1
- 61198711002. 2
- 61198711003. 3
- 61198711004. 4

Question Number : 52 Question Id : 6119872826 Question Type : MCQ Option Shuffling : No Display Question Number : Yes Is Question Mandatory : No Single Line Question Option : No Option Orientation : Vertical

Scarification refers to:

1. Excavation and land disturbances initiated to extract mineral resources.
2. Spontaneous downhill motion of regolith.
3. Mudflows on the slopes of erupting volcanoes.
4. Mass wasting of Earth materials with high water content.

Options :

- 61198711005. 1
- 61198711006. 2
- 61198711007. 3
- 61198711008. 4

Question Number : 52 Question Id : 6119872826 Question Type : MCQ Option Shuffling : No Display Question Number : Yes Is Question Mandatory : No Single Line Question Option : No Option Orientation : Vertical

छेदीकरण से अभिप्राय है:

1. खनिज संसाधनों के दोहन हेतु आरम्भ किए गए उत्खनन तथा भूमि उत्पात।
2. शैल मलबे की स्वतः प्रवर्तित अनुढाल की ओर गति।
3. उद्गारी ज्वालामुखियों के ढालों पर पंक प्रवाह।
4. मृदा पदार्थों का उच्च जल मात्रा के साथ बृहत् संचलन।

Options :

- 61198711005. 1
- 61198711006. 2
- 61198711007. 3
- 61198711008. 4

Question Number : 53 Question Id : 6119872827 Question Type : MCQ Option Shuffling : No Display Question Number : Yes Is Question Mandatory : No Single Line Question Option : No Option Orientation : Vertical

An isolated hill formed by felsic batholith and which is revealed by erosion of weaker surrounding rock is called as:

1. Hogback ridge
2. Flatiron
3. Horst
4. Monadnock

Options :

- 61198711009. 1
- 61198711010. 2
- 61198711011. 3
- 61198711012. 4

Question Number : 53 Question Id : 6119872827 Question Type : MCQ Option Shuffling : No Display Question Number : Yes Is Question Mandatory : No Single Line Question Option : No Option Orientation : Vertical

चतुर्दिक कमजोर चट्टान के अपरदन से प्रकटित एक फेल्सिक बैथोलिथ एकाकी पहाड़ी को कहा जाता है:

1. हागबैक कटक
2. फ्लैटीरॉन
3. हास्ट
4. मोनाडनाक

Options :

- 61198711009. 1
- 61198711010. 2
- 61198711011. 3
- 61198711012. 4

Question Number : 54 Question Id : 6119872828 Question Type : MCQ Option Shuffling : No Display Question Number : Yes Is Question Mandatory : No Single Line Question Option : No Option Orientation : Vertical

Extreme heat and pressure transform shale into:

1. Marble
2. Quartzite
3. Slate
4. Gneiss

Options :

- 61198711013. 1
- 61198711014. 2
- 61198711015. 3
- 61198711016. 4

Question Number : 54 Question Id : 6119872828 Question Type : MCQ Option Shuffling : No Display Question Number : Yes Is Question Mandatory : No Single Line Question Option : No Option Orientation : Vertical

अत्यधिक ताप एवं दाब शैल चट्टान को परिवर्तित कर देता है:

1. संगमरमर में
2. कार्टजाइट में
3. स्लेट में
4. नीस में

Options :

- 61198711013. 1
- 61198711014. 2
- 61198711015. 3
- 61198711016. 4

Question Number : 55 Question Id : 6119872829 Question Type : MCQ Option Shuffling : No Display Question Number : Yes Is Question Mandatory : No Single Line Question Option : No Option Orientation : Vertical

Which of the following is measured on the basis of the actual temperature and wind speed?

1. Relative humidity
2. Wind-chill index
3. Lapse rate
4. Heat index

Options :

- 61198711017. 1
- 61198711018. 2
- 61198711019. 3
- 61198711020. 4

Question Number : 55 Question Id : 6119872829 Question Type : MCQ Option Shuffling : No Display Question Number : Yes Is Question Mandatory : No Single Line Question Option : No Option Orientation : Vertical

निम्नलिखित में से कौन सा वास्तविक तापमान तथा पवन वेग के आधार पर मापा जाता है?

1. सापेक्ष आर्द्रता
2. पवनशीत सूचकांक
3. हास दर
4. उष्मा सूचकांक

Options :

- 61198711017. 1
- 61198711018. 2
- 61198711019. 3
- 61198711020. 4

Question Number : 56 Question Id : 6119872830 Question Type : MCQ Option Shuffling : No Display Question Number : Yes Is Question Mandatory : No Single Line Question Option : No Option Orientation : Vertical

Insolation will be high when:

1. Solar radiation is back towards the space.
2. Energy is emitted at longer wavelengths.
3. Solar energy received at the earth surface is between $0.3 \mu\text{m}$ to $3.0 \mu\text{m}$.
4. Sun is directly overhead.

Options :

61198711021. 1

61198711022. 2

61198711023. 3

61198711024. 4

Question Number : 56 Question Id : 6119872830 Question Type : MCQ Option Shuffling : No Display Question Number : Yes Is Question Mandatory : No Single Line Question Option : No Option Orientation : Vertical

सूर्यताप उच्च होगा जब:

1. सौर विकिरण वापिस अंतरिक्ष की ओर होता है।
2. ऊर्जा दीर्घ तरंगों पर उत्सर्जित होती है।
3. भू-तल पर प्राप्त सौर ऊर्जा $0.3 \mu\text{m}$ से $3.0 \mu\text{m}$ के बीच में होती है।
4. सूर्य सीधा सिर के ऊपर होता है।

Options :

61198711021. 1

61198711022. 2

61198711023. 3

61198711024. 4

Question Number : 57 Question Id : 6119872831 Question Type : MCQ Option Shuffling : No Display Question Number : Yes Is Question Mandatory : No Single Line Question Option : No Option Orientation : Vertical

Enhanced Fujita Intensity scale pertains to:

1. Typhoon
2. Lightning
3. Tornado
4. Thunderstorm

Options :

61198711025. 1

61198711026. 2

61198711027. 3

61198711028. 4

Question Number : 57 Question Id : 6119872831 Question Type : MCQ Option Shuffling : No Display Question Number : Yes Is Question Mandatory : No Single Line Question Option : No Option Orientation : Vertical

वृद्धित फुजीटा तीव्रता पैमाना सम्बन्धित है:

1. टाइफून से
2. तड़ित से
3. टॉरनडो से
4. तड़ित झंझा से

Options :

- 61198711025. 1
- 61198711026. 2
- 61198711027. 3
- 61198711028. 4

Question Number : 58 Question Id : 6119872832 Question Type : MCQ Option Shuffling : No Display Question Number : Yes Is Question Mandatory : No Single Line Question Option : No Option Orientation : Vertical

Which of the following layers of atmosphere is the home of strong, persistent winds that flow from west to east?

1. Mesosphere
2. Thermosphere
3. Stratosphere
4. Heterosphere

Options :

- 61198711029. 1
- 61198711030. 2
- 61198711031. 3
- 61198711032. 4

Question Number : 58 Question Id : 6119872832 Question Type : MCQ Option Shuffling : No Display Question Number : Yes Is Question Mandatory : No Single Line Question Option : No Option Orientation : Vertical

वायुमण्डल की निम्नलिखित परतों में से कौन सी बलशाली, सतत् पवनों जो कि पश्चिम से पूर्व में प्रवाहित होती हैं, का गृह है?

1. मध्यमण्डल
2. तापमण्डल
3. समतापमण्डल
4. विषममण्डल

Options :

- 61198711029. 1
- 61198711030. 2
- 61198711031. 3
- 61198711032. 4

Question Number : 59 Question Id : 6119872833 Question Type : MCQ Option Shuffling : No Display Question Number : Yes Is Question Mandatory : No Single Line Question Option : No Option Orientation : Vertical

Carlsberg ridge is located in which of the following oceans?

1. North Pacific Ocean
2. South Atlantic Ocean
3. Indian Ocean
4. South Pacific Ocean

Options :

- 61198711033. 1
- 61198711034. 2
- 61198711035. 3
- 61198711036. 4

Question Number : 59 Question Id : 6119872833 Question Type : MCQ Option Shuffling : No Display Question Number : Yes Is Question Mandatory : No Single Line Question Option : No Option Orientation : Vertical

कार्सबर्ग कटक निम्नलिखित महासागरों में किसमें अवस्थित है?

1. उत्तरी प्रशान्त महासागर
2. दक्षिणी अटलांटिक महासागर
3. हिन्द महासागर
4. दक्षिणी प्रशान्त महासागर

Options :

- 61198711033. 1
- 61198711034. 2
- 61198711035. 3
- 61198711036. 4

Question Number : 60 Question Id : 6119872834 Question Type : MCQ Option Shuffling : No Display Question Number : Yes Is Question Mandatory : No Single Line Question Option : No Option Orientation : Vertical

India signed and ratified Kyoto Protocol in which year?

1. 1997
2. 2001
3. 2002
4. 2007

Options :

- 61198711037. 1
- 61198711038. 2
- 61198711039. 3
- 61198711040. 4

Question Number : 60 Question Id : 6119872834 Question Type : MCQ Option Shuffling : No Display Question Number : Yes Is Question Mandatory : No Single Line Question Option : No Option Orientation : Vertical

भारत ने क्योटो प्रोटोकॉल पर हस्ताक्षर तथा अभिपुष्टी किस वर्ष में की?

1. 1997
2. 2001
3. 2002
4. 2007

Options :

- 61198711037. 1
- 61198711038. 2
- 61198711039. 3
- 61198711040. 4

Question Number : 61 Question Id : 6119872835 Question Type : MCQ Option Shuffling : No Display Question Number : Yes Is Question Mandatory : No Single Line Question Option : No Option Orientation : Vertical

Intergovernmental Panel on Climate Change finalized AR6 Synthesis Report on Climate Change in which of the following years?

1. 2006
2. 2014
3. 2019
4. 2023

Options :

- 61198711041. 1
- 61198711042. 2
- 61198711043. 3
- 61198711044. 4

Question Number : 61 Question Id : 6119872835 Question Type : MCQ Option Shuffling : No Display Question Number : Yes Is Question Mandatory : No Single Line Question Option : No Option Orientation : Vertical

जलवायु परिवर्तन पर अंतर-सरकारी पैनल ने जलवायु परिवर्तन पर ए.आर. 6 सिनथिसिस रिपोर्ट को निम्नलिखित वर्षों में से किसमें अंतिम रूप दिया?

1. 2006
2. 2014
3. 2019
4. 2023

Options :

- 61198711041. 1
- 61198711042. 2
- 61198711043. 3
- 61198711044. 4

Question Number : 62 Question Id : 6119872836 Question Type : MCQ Option Shuffling : No Display Question Number : Yes Is Question Mandatory : No Single Line Question Option : No Option Orientation : Vertical

Which one of the following marine biomes is the deepest biome zone?

1. Neritic Zone
2. Hadal Zone
3. Epipelagic Zone
4. Bathypelagic Zone

Options :

- 61198711045. 1
- 61198711046. 2
- 61198711047. 3
- 61198711048. 4

Question Number : 62 Question Id : 6119872836 Question Type : MCQ Option Shuffling : No Display Question Number : Yes Is Question Mandatory : No Single Line Question Option : No Option Orientation : Vertical

निम्नलिखित समुद्री जीवमों में से कौनसा सबसे गहरा जीवम मण्डल है?

1. नेरेटिक (नेरिटांचल) मण्डल
2. हैडल मण्डल
3. एपीपैल्जिक (अधिवेलापवर्ती) मण्डल
4. बैथीपैल्जिक (गंभीरवेलापवर्ती) मण्डल

Options :

- 61198711045. 1
- 61198711046. 2
- 61198711047. 3
- 61198711048. 4

Question Number : 63 Question Id : 6119872837 Question Type : MCQ Option Shuffling : No Display Question Number : Yes Is Question Mandatory : No Single Line Question Option : No Option Orientation : Vertical

Which of the following soil order is found in the Deccan Plateau of western India?

1. Vertisols
2. Histosols
3. Mollisols
4. Inceptisols

Options :

- 61198711049. 1
- 61198711050. 2
- 61198711051. 3
- 61198711052. 4

Question Number : 63 Question Id : 6119872837 Question Type : MCQ Option Shuffling : No Display Question Number : Yes Is Question Mandatory : No Single Line Question Option : No Option Orientation : Vertical

निम्नलिखित में से कौन सा मृदा क्रम पश्चिमी भारत के दक्कन पठार में पाया जाता है?

1. वर्टीसोल
2. हिस्टोसोल
3. मोलीसोल
4. इनसेप्टीसोल

Options :

61198711049. 1
61198711050. 2
61198711051. 3
61198711052. 4

Question Number : 64 Question Id : 6119872838 Question Type : MCQ Option Shuffling : No Display Question Number : Yes Is Question Mandatory : No Single Line Question Option : No Option Orientation : Vertical

In which of the following states of India, the degree of primacy of the primate city as per the Law of Primate City is highest?

1. Rajasthan
2. Uttar Pradesh
3. West Bengal
4. Madhya Pradesh

Options :

61198711053. 1
61198711054. 2
61198711055. 3
61198711056. 4

Question Number : 64 Question Id : 6119872838 Question Type : MCQ Option Shuffling : No Display Question Number : Yes Is Question Mandatory : No Single Line Question Option : No Option Orientation : Vertical

भारत के निम्नलिखित राज्यों में से किसमें प्रधान नगर नियम के अनुसार प्रधान नगर की प्रधानता की मात्रा सर्वाधिक है?

1. राजस्थान
2. उत्तर प्रदेश
3. पश्चिमी बंगाल
4. मध्य प्रदेश

Options :

61198711053. 1
61198711054. 2
61198711055. 3
61198711056. 4

Question Number : 65 Question Id : 6119872839 Question Type : MCQ Option Shuffling : No Display Question Number : Yes Is Question Mandatory : No Single Line Question Option : No Option Orientation : Vertical

In which of following regions the total fertility rate is highest as per UN World Population Data 2024?

1. Western Africa
2. South Asia
3. East Asia
4. Central Asia

Options :

- 61198711057. 1
- 61198711058. 2
- 61198711059. 3
- 61198711060. 4

Question Number : 65 Question Id : 6119872839 Question Type : MCQ Option Shuffling : No Display Question Number : Yes Is Question Mandatory : No Single Line Question Option : No Option Orientation : Vertical

निम्नलिखित प्रदेशों में से किसमें कुल प्रजनन दर संयुक्त राष्ट्र विश्व जनसंख्या 2024 के आंकड़ों के अनुसार सर्वाधिक है?

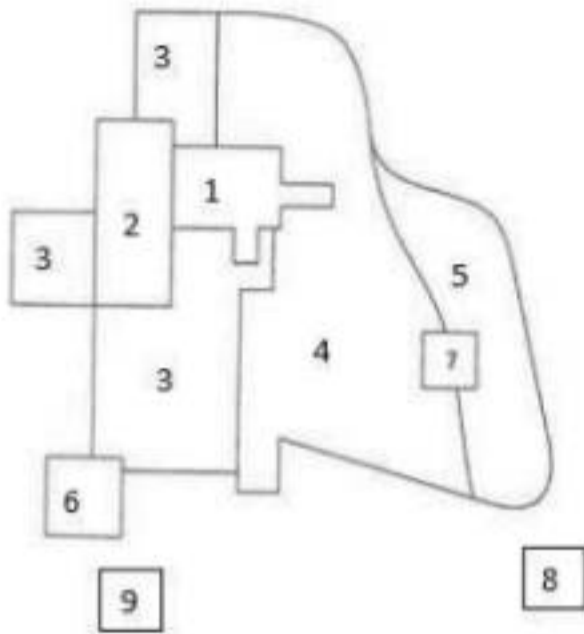
1. पश्चिमी अफ्रीका
2. दक्षिणी एशिया
3. पूर्वी एशिया
4. मध्य एशिया

Options :

- 61198711057. 1
- 61198711058. 2
- 61198711059. 3
- 61198711060. 4

Question Number : 66 Question Id : 6119872840 Question Type : MCQ Option Shuffling : No Display Question Number : Yes Is Question Mandatory : No Single Line Question Option : No Option Orientation : Vertical

In the given diagram of the Multiple Nuclei Model of Harris and Ullman, number 7 represents which of the following?



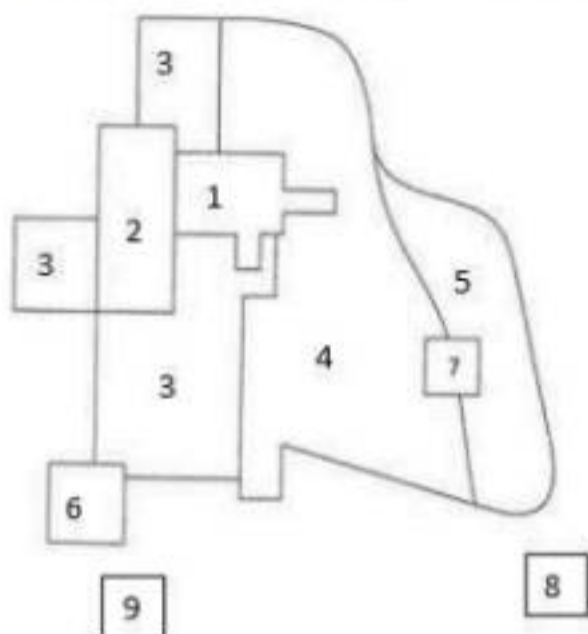
1. Heavy Manufacturing Center
2. Outlying Business District
3. Residential Suburb
4. Industrial Suburb

Options :

- 61198711061. 1
- 61198711062. 2
- 61198711063. 3
- 61198711064. 4

Question Number : 66 Question Id : 6119872840 Question Type : MCQ Option Shuffling : No Display Question Number : Yes Is Question Mandatory : No Single Line Question Option : No Option Orientation : Vertical

हेरिस एवं उल्मैन के बहु-नाभिक मॉडल के दिए गए आरेख में संख्या 7 निम्नलिखित में किसको दर्शाता है?



1. भारी विनिर्माण केंद्र
2. बहिर्वर्ती व्यापार डिस्ट्रिक्ट
3. आवासीय उपनगर
4. औद्योगिक उपनगर

Options :

61198711061. 1

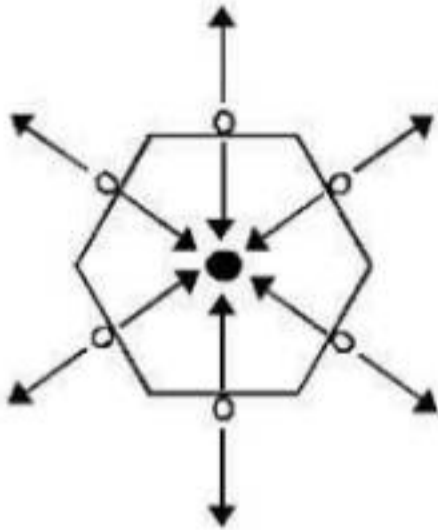
61198711062. 2

61198711063. 3

61198711064. 4

Question Number : 67 Question Id : 6119872841 Question Type : MCQ Option Shuffling : No Display Question Number : Yes Is Question Mandatory : No Single Line Question Option : No Option Orientation : Vertical

According to the Central Place Theory the following diagram represents the nesting of complementary areas under which one "K" Value?



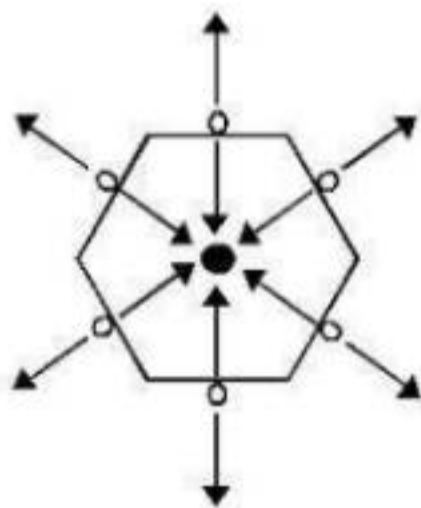
1. K-3
2. K-4
3. K-7
4. K-18

Options :

- 61198711065. 1
- 61198711066. 2
- 61198711067. 3
- 61198711068. 4

Question Number : 67 Question Id : 6119872841 Question Type : MCQ Option Shuffling : No Display Question Number : Yes Is Question Mandatory : No Single Line Question Option : No Option Orientation : Vertical

केन्द्र स्थल सिद्धान्त के अनुसार निम्नलिखित आरेख किस एक "K" मूल्य के अंतर्गत समपूरक क्षेत्रों के नीडन को प्रदर्शित करता है?



1. K-3
2. K-4
3. K-7
4. K-18

Options :

61198711065. 1
61198711066. 2
61198711067. 3
61198711068. 4

Question Number : 68 Question Id : 6119872842 Question Type : MCQ Option Shuffling : No Display Question Number : Yes Is Question Mandatory : No Single Line Question Option : No Option Orientation : Vertical

Which of the following countries land area has the highest percentage of polders?

1. New Zealand
2. Poland
3. Thailand
4. Netherlands

Options :

61198711069. 1
61198711070. 2
61198711071. 3
61198711072. 4

Question Number : 68 Question Id : 6119872842 Question Type : MCQ Option Shuffling : No Display Question Number : Yes Is Question Mandatory : No Single Line Question Option : No Option Orientation : Vertical

निम्नलिखित में से किस देश के भू-क्षेत्र में पोल्डरों का सर्वाधिक प्रतिशत हिस्सा है?

1. न्यूजीलैंड
2. पोलैंड
3. थाइलैंड
4. नीदरलैंड

Options :

61198711069. 1

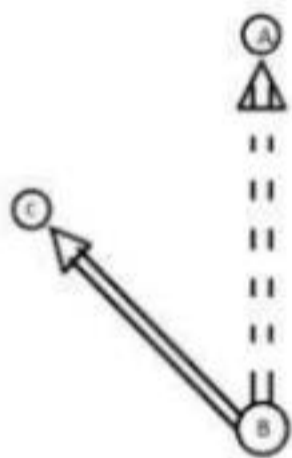
61198711070. 2

61198711071. 3

61198711072. 4

Question Number : 69 Question Id : 6119872843 Question Type : MCQ Option Shuffling : No Display Question Number : Yes Is Question Mandatory : No Single Line Question Option : No Option Orientation : Vertical

The following diagram represents which one element of the spatial interaction model of Ullman?



1. Complementarity
2. Intervening opportunity
3. Transferability
4. Sustainability

Options :

61198711073. 1

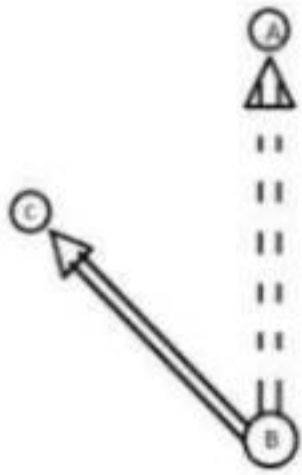
61198711074. 2

61198711075. 3

61198711076. 4

Question Number : 69 Question Id : 6119872843 Question Type : MCQ Option Shuffling : No Display Question Number : Yes Is Question Mandatory : No Single Line Question Option : No Option Orientation : Vertical

निम्नलिखित अरेख उल्मैन के स्थानिक अन्योन्यक्रिया मॉडल के किस तत्व को प्रदर्शित करता है?



1. समपूरकता
2. मध्यवर्ती अवसर
3. स्थानांतरणीयता
4. समगतिशीलता

Options :

61198711073. 1

61198711074. 2

61198711075. 3

61198711076. 4

Question Number : 70 Question Id : 6119872844 Question Type : MCQ Option Shuffling : No Display Question Number : Yes Is Question Mandatory : No Single Line Question Option : No Option Orientation : Vertical

The article "Transportation and Societal Framework" is contribution of which of the following scholar?

1. Zipf
2. Ullman
3. Hurst
4. Stouffer

Options :

61198711077. 1

61198711078. 2

61198711079. 3

61198711080. 4

Question Number : 70 Question Id : 6119872844 Question Type : MCQ Option Shuffling : No Display Question Number : Yes Is Question Mandatory : No Single Line Question Option : No Option Orientation : Vertical

"ट्रांसपोर्टेशन एन्ड द सोसायटल फ्रेमवर्क" लेख निम्नलिखित किस विद्वान का योगदान है?

1. जिप्फ
2. उल्मैन
3. हर्स्ट
4. स्टौफर

Options :

61198711077. 1
61198711078. 2
61198711079. 3
61198711080. 4

Question Number : 71 Question Id : 6119872845 Question Type : MCQ Option Shuffling : No Display Question Number : Yes Is Question Mandatory : No Single Line Question Option : No Option Orientation : Vertical

Which of the following is NOT correct with reference to E-20 petrol?

1. It has 20 percent blending of ethanol bio-fuel.
2. Ethanol is a renewable fuel.
3. Ethanol blending boosts farmer's incomes
4. A NITI Aayog study has noticed that GHG (Green House Gases) emissions in case of use of sugarcane based ethanol are 65 percent higher as compared to petrol.

Options :

61198711081. 1
61198711082. 2
61198711083. 3
61198711084. 4

Question Number : 71 Question Id : 6119872845 Question Type : MCQ Option Shuffling : No Display Question Number : Yes Is Question Mandatory : No Single Line Question Option : No Option Orientation : Vertical

ई-20 पेट्रोल के सन्दर्भ में निम्नलिखित कौन सा सही नहीं है?

1. इसमें 20 प्रतिशत एथेनॉल जैव-ईंधन का सम्मिश्रण है।
2. एथेनॉल एक नवीकरणीय ईंधन है।
3. एथेनॉल सम्मिश्रण से किसानों की आय में बढ़ावा होता है।
4. एक नीति आयोग के अध्ययन में पाया गया है कि जीएचजी (हरित गृह गैसों) उत्सर्जन पेट्रोल की तुलना में गन्ना आधारित एथेनॉल के उपयोग में 65 प्रतिशत अधिक है।

Options :

61198711081. 1
61198711082. 2
61198711083. 3
61198711084. 4

Question Number : 72 Question Id : 6119872846 Question Type : MCQ Option Shuffling : No Display Question Number : Yes Is Question Mandatory : No Single Line Question Option : No Option Orientation : Vertical

In the process of location of economic activities, the localization of shoe and leather industries was propounded by:

1. Hoover
2. Pred
3. Palander
4. Smith

Options :

- 61198711085. 1
- 61198711086. 2
- 61198711087. 3
- 61198711088. 4

Question Number : 72 Question Id : 6119872846 Question Type : MCQ Option Shuffling : No Display Question Number : Yes Is Question Mandatory : No Single Line Question Option : No Option Orientation : Vertical

आर्थिक गतिविधियों की अवस्थिति प्रक्रिया में, जूते तथा चमड़े उद्योगों का अवस्थितिकरण प्रतिपादित किया गया:

1. हुवर द्वारा
2. प्रेड द्वारा
3. पलेन्डर द्वारा
4. स्मिथ द्वारा

Options :

- 61198711085. 1
- 61198711086. 2
- 61198711087. 3
- 61198711088. 4

Question Number : 73 Question Id : 6119872847 Question Type : MCQ Option Shuffling : No Display Question Number : Yes Is Question Mandatory : No Single Line Question Option : No Option Orientation : Vertical

It signifies the industrial practices first associated with workplace innovations with four important elements of division of labour, standardisation, arrangement of correct sequence for production and precision of assembly line. It refers to:

1. Fordism
2. Actor-Network Theory
3. Commodity-chain
4. Agglomeration of Economies

Options :

- 61198711089. 1
- 61198711090. 2
- 61198711091. 3
- 61198711092. 4

Question Number : 73 Question Id : 6119872847 Question Type : MCQ Option Shuffling : No Display Question Number : Yes Is Question Mandatory : No Single Line Question Option : No Option Orientation : Vertical

यह औद्योगिक प्रक्रियाओं की सर्वप्रथम कार्यस्थल नवाचारों से जुड़े चार महत्वपूर्ण तत्वों - श्रम विभाजन, मानकीकरण, उत्पादन के सही क्रम व्यवस्थितकरण तथा एसेम्बली लाइन की शुद्धता की सूचक है। इससे अभिप्राय है:

1. फोर्डिज्म
2. एक्टर-नेटवर्क सिद्धान्त
3. वस्तु-श्रृंखला
4. समूहन की अर्थव्यवस्थाएं

Options :

- 61198711089. 1
- 61198711090. 2
- 61198711091. 3
- 61198711092. 4

Question Number : 74 Question Id : 6119872848 Question Type : MCQ Option Shuffling : No Display Question Number : Yes Is Question Mandatory : No Single Line Question Option : No Option Orientation : Vertical

In determining the concept of resources, Zimmermann used the term "Neutral Stuff" to refer

1. Technology
2. Human Resource
3. Nature
4. Stock

Options :

- 61198711093. 1
- 61198711094. 2
- 61198711095. 3
- 61198711096. 4

Question Number : 74 Question Id : 6119872848 Question Type : MCQ Option Shuffling : No Display Question Number : Yes Is Question Mandatory : No Single Line Question Option : No Option Orientation : Vertical

संसाधनों की संकल्पना निर्धारण में जिम्मरमैन द्वारा शब्दावली 'तटस्थ पदार्थ (न्यूट्रल स्टाफ)' का उपयोग संकेत करता है:

1. तकनीकी
2. मानव संसाधन
3. प्रकृति
4. भण्डार

Options :

61198711093. 1
61198711094. 2
61198711095. 3
61198711096. 4

Question Number : 75 Question Id : 6119872849 Question Type : MCQ Option Shuffling : No Display Question Number : Yes Is Question Mandatory : No Single Line Question Option : No Option Orientation : Vertical

Which of the following is an example of exhaustible but reusable resource according to Renner?

1. Tin
2. Wind
3. Human Talent
4. Natural Gas

Options :

61198711097. 1
61198711098. 2
61198711099. 3
61198711100. 4

Question Number : 75 Question Id : 6119872849 Question Type : MCQ Option Shuffling : No Display Question Number : Yes Is Question Mandatory : No Single Line Question Option : No Option Orientation : Vertical

रेन्नर के अनुसार निम्नलिखित में कौन सा समाप्य किन्तु पुनःउपयोगी संसाधन का एक उदाहरण है?

1. टिन
2. पवन
3. मानव प्रतिभा
4. प्राकृतिक गैस

Options :

61198711097. 1
61198711098. 2
61198711099. 3
61198711100. 4

Question Number : 76 Question Id : 6119872850 Question Type : MCQ Option Shuffling : No Display Question Number : Yes Is Question Mandatory : No Single Line Question Option : No Option Orientation : Vertical

In the concentric zone model of Von Thunen, firewood and timber production and crop farming without fallow fall in which pair of zones respectively?

1. Zone IV and III
2. Zone V and VII
3. Zone II and III
4. Zone VII and IV

Options :

- 61198711101. 1
- 61198711102. 2
- 61198711103. 3
- 61198711104. 4

Question Number : 76 Question Id : 6119872850 Question Type : MCQ Option Shuffling : No Display Question Number : Yes Is Question Mandatory : No Single Line Question Option : No Option Orientation : Vertical

वॉन थ्यूनेन के संकेन्द्रीय वलय मॉडल में ईंधन लकड़ी तथा इमारती लकड़ी उत्पादन एवं परती रहित फसल फार्मिंग क्रमशः किन मण्डलों के युग्म में आते हैं?

1. मण्डल IV और III
2. मण्डल V और VII
3. मण्डल II और III
4. मण्डल VII और IV

Options :

- 61198711101. 1
- 61198711102. 2
- 61198711103. 3
- 61198711104. 4

Question Number : 77 Question Id : 6119872851 Question Type : MCQ Option Shuffling : No Display Question Number : Yes Is Question Mandatory : No Single Line Question Option : No Option Orientation : Vertical

Tokyo, Kawasaki and Yokohama industrial region is located in which of the following regions of Japan?

1. Kwanto Plain
2. Kinki Plain
3. Nobi Plain
4. Taranaki Lowlands

Options :

- 61198711105. 1
- 61198711106. 2
- 61198711107. 3
- 61198711108. 4

Question Number : 77 Question Id : 6119872851 Question Type : MCQ Option Shuffling : No Display Question Number : Yes Is Question Mandatory : No Single Line Question Option : No Option Orientation : Vertical

टोक्यो, कावासाकी तथा योकोहामा औद्योगिक प्रदेश, जापान के निम्नलिखित में से किस प्रदेश में अवस्थित हैं?

1. क्वांतो मैदान
2. किन्की मैदान
3. नोबी मैदान
4. टारानाकी निम्नभूमि

Options :

61198711105. 1

61198711106. 2

61198711107. 3

61198711108. 4

Question Number : 78 Question Id : 6119872852 Question Type : MCQ Option Shuffling : No Display Question Number : Yes Is Question Mandatory : No Single Line Question Option : No Option Orientation : Vertical

Appiko movement was most similar to which of the following social movements in India?

1. Nupi-Lan
2. Save-Silent Valley
3. Chipko Movement
4. Narmada Bachao Andolan

Options :

61198711109. 1

61198711110. 2

61198711111. 3

61198711112. 4

Question Number : 78 Question Id : 6119872852 Question Type : MCQ Option Shuffling : No Display Question Number : Yes Is Question Mandatory : No Single Line Question Option : No Option Orientation : Vertical

भारत के सामाजिक आन्दोलनों में से अप्पिको आन्दोलन निम्नलिखित में किससे सर्वाधिक मिलता-जुलता था?

1. नूपी-लेन
2. साइलेंट घाटी बचाओ
3. चिपको आन्दोलन
4. नर्मदा बचाओ आन्दोलन

Options :

61198711109. 1

61198711110. 2

61198711111. 3

61198711112. 4

Question Number : 79 Question Id : 6119872853 Question Type : MCQ Option Shuffling : No Display Question Number : Yes Is Question Mandatory : No Single Line Question Option : No Option Orientation : Vertical
Thailand-Cambodia conflict of 2025 occurred in which of the geo-political regions of Mackinder?

1. Geographical Pivot
2. Heartland
3. Inner Crescent
4. Outer Crescent

Options :

- 61198711113. 1
- 61198711114. 2
- 61198711115. 3
- 61198711116. 4

Question Number : 79 Question Id : 6119872853 Question Type : MCQ Option Shuffling : No Display Question Number : Yes Is Question Mandatory : No Single Line Question Option : No Option Orientation : Vertical

2025 में थाईलैंड-कंबोडिया संघर्ष मैकिण्डर के भू-राजनैतिक प्रदेशों में से किसमें घटित हुआ?

1. भौगोलिक धुरी
2. हृदय-स्थल
3. आंतरिक-अर्द्धचन्द्र
4. बाह्य-अर्द्धचन्द्र

Options :

- 61198711113. 1
- 61198711114. 2
- 61198711115. 3
- 61198711116. 4

Question Number : 80 Question Id : 6119872854 Question Type : MCQ Option Shuffling : No Display Question Number : Yes Is Question Mandatory : No Single Line Question Option : No Option Orientation : Vertical

'The Geography of the Peace' is work of which of the following scholar?

1. Mackinder
2. Mahan
3. Spykman
4. Cohen

Options :

- 61198711117. 1
- 61198711118. 2
- 61198711119. 3
- 61198711120. 4

Question Number : 80 Question Id : 6119872854 Question Type : MCQ Option Shuffling : No Display Question Number : Yes Is Question Mandatory : No Single Line Question Option : No Option Orientation : Vertical

'द ज्याग्राफी ऑफ पीस' निम्नलिखित में से किस विद्वान का कार्य है?

1. मैकिन्डर
2. महान
3. स्पाईकमैन
4. कोहेन

Options :

- 61198711117. 1
- 61198711118. 2
- 61198711119. 3
- 61198711120. 4

Question Number : 81 Question Id : 6119872855 Question Type : MCQ Option Shuffling : No Display Question Number : Yes Is Question Mandatory : No Single Line Question Option : No Option Orientation : Vertical

Which of the following stresses on openness to a range of opinions in social enquiry, artistic experimentation and political empowerment?

1. Modernism
2. Post-Modernism
3. Exceptionalism
4. Marxism

Options :

- 61198711121. 1
- 61198711122. 2
- 61198711123. 3
- 61198711124. 4

Question Number : 81 Question Id : 6119872855 Question Type : MCQ Option Shuffling : No Display Question Number : Yes Is Question Mandatory : No Single Line Question Option : No Option Orientation : Vertical

निम्नलिखित में कौन सा सामाजिक अन्वेषण, कलात्मक प्रयोगों तथा राजनीतिक सशक्तिकरण में मतों की परास के खुलेपन पर बल देता है?

1. आधुनिकतावाद
2. उत्तर-आधुनिकतावाद
3. अपवादवाद
4. मार्क्सवाद

Options :

- 61198711121. 1
- 61198711122. 2
- 61198711123. 3
- 61198711124. 4

Question Number : 82 Question Id : 6119872856 Question Type : MCQ Option Shuffling : No Display Question Number : Yes Is Question Mandatory : No Single Line Question Option : No Option Orientation : Vertical

Who among the following said that there are not necessities but everywhere possibilities; and man as master of these possibilities is the judge of their use.

1. Febvre
2. Blache
3. Brunhes
4. Spate

Options :

- 61198711125. 1
- 61198711126. 2
- 61198711127. 3
- 61198711128. 4

Question Number : 82 Question Id : 6119872856 Question Type : MCQ Option Shuffling : No Display Question Number : Yes Is Question Mandatory : No Single Line Question Option : No Option Orientation : Vertical

निम्नलिखित में से किसने कहा कि आवश्यकताएँ नहीं बल्कि सभी जगह सम्भावनाएँ हैं तथा मानव इन सभी सम्भावनाओं के अधिपति के रूप में इनके उपयोग का निर्णायक है।

1. फब्रे
2. ब्लाश
3. ब्रुंश
4. स्पेट

Options :

- 61198711125. 1
- 61198711126. 2
- 61198711127. 3
- 61198711128. 4

Question Number : 83 Question Id : 6119872857 Question Type : MCQ Option Shuffling : No Display Question Number : Yes Is Question Mandatory : No Single Line Question Option : No Option Orientation : Vertical

Which of the following is regarded as the most typical value of a series that remains unaffected by the presence of extreme values?

1. Mode
2. Mean
3. Coefficient of Variation
4. Standard deviation

Options :

- 61198711129. 1
- 61198711130. 2
- 61198711131. 3
- 61198711132. 4

Question Number : 83 Question Id : 6119872857 Question Type : MCQ Option Shuffling : No Display Question Number : Yes Is Question Mandatory : No Single Line Question Option : No Option Orientation : Vertical

निम्नलिखित में किसे एक शृंखला का सर्वाधिक अभिलक्षक मान माना जाता है जो चरम मानों की उपस्थिति से अप्रभावित रहता है?

1. बहुलक
2. माध्य
3. विचरण गुणांक
4. मानक विचलन

Options :

- 61198711129. 1
- 61198711130. 2
- 61198711131. 3
- 61198711132. 4

Question Number : 84 Question Id : 6119872858 Question Type : MCQ Option Shuffling : No Display Question Number : Yes Is Question Mandatory : No Single Line Question Option : No Option Orientation : Vertical

The frequency distribution of spot heights and hill summits refers to:

1. Hypsographic curve
2. Altimetric frequency curve
3. Clinographic curve
4. Composite profile

Options :

- 61198711133. 1
- 61198711134. 2
- 61198711135. 3
- 61198711136. 4

Question Number : 84 Question Id : 6119872858 Question Type : MCQ Option Shuffling : No Display Question Number : Yes Is Question Mandatory : No Single Line Question Option : No Option Orientation : Vertical

स्थान ऊंचाईयों तथा पहाड़ी चोटियों की बारंबारता बंटन संकेतक है:

1. उच्चतादर्शी वक्र
2. तुंगता बारंबारता वक्र
3. प्रवणता वक्र
4. संयुक्त परिच्छेदिका

Options :

- 61198711133. 1
- 61198711134. 2
- 61198711135. 3
- 61198711136. 4

Question Number : 85 Question Id : 6119872859 Question Type : MCQ Option Shuffling : No Display Question Number : Yes Is Question Mandatory : No Single Line Question Option : No Option Orientation : Vertical

Which of the following bands of Landsat satellites when used in combination will show the vegetation limits quite clearly?

1. 1 and 2
2. 2 and 3
3. 3 and 4
4. 5 and 7

Options :

- 61198711137. 1
- 61198711138. 2
- 61198711139. 3
- 61198711140. 4

Question Number : 85 Question Id : 6119872859 Question Type : MCQ Option Shuffling : No Display Question Number : Yes Is Question Mandatory : No Single Line Question Option : No Option Orientation : Vertical

लैंडसेट उपग्रहों के निम्नलिखित किन बैंडों को जब संयुक्त प्रयुक्त किया जाए तो वह वनस्पति सीमाओं को अत्यधिक स्पष्ट प्रदर्शित करेंगे?

1. 1 और 2
2. 2 और 3
3. 3 और 4
4. 5 और 7

Options :

- 61198711137. 1
- 61198711138. 2
- 61198711139. 3
- 61198711140. 4

Question Number : 86 Question Id : 6119872860 Question Type : MCQ Option Shuffling : No Display Question Number : Yes Is Question Mandatory : No Single Line Question Option : No Option Orientation : Vertical

In which of the following aerial photographs, negative is allowed to move continuously over the fixed slit?

1. Composite photograph
2. Sonne's Photograph
3. Timetrogon Photograph
4. Vertical Photograph

Options :

- 61198711141. 1
- 61198711142. 2
- 61198711143. 3
- 61198711144. 4

Question Number : 86 Question Id : 6119872860 Question Type : MCQ Option Shuffling : No Display Question Number : Yes Is Question Mandatory : No Single Line Question Option : No Option Orientation : Vertical

निम्नलिखित वायुचित्रों में से किसमें नेगेटिव को निरंतर एक निश्चित विदर (स्लिट) के ऊपर गतिमान करने की छूट होती है?

1. संयुक्त वायुचित्र
2. सोन का वायुचित्र
3. टाइमेट्रोगोन वायुचित्र
4. लम्बवत वायुचित्र

Options :

- 61198711141. 1
- 61198711142. 2
- 61198711143. 3
- 61198711144. 4

Question Number : 87 Question Id : 6119872861 Question Type : MCQ Option Shuffling : No Display Question Number : Yes Is Question Mandatory : No Single Line Question Option : No Option Orientation : Vertical

In the given equation $p_1 = a_{11}X_1 + a_{12}X_2 + \dots + a_{1k}X_k$; what a_{11} refers to

1. Principal components
2. Communality
3. Eigen value
4. Loadings

Options :

- 61198711145. 1
- 61198711146. 2
- 61198711147. 3
- 61198711148. 4

Question Number : 87 Question Id : 6119872861 Question Type : MCQ Option Shuffling : No Display Question Number : Yes Is Question Mandatory : No Single Line Question Option : No Option Orientation : Vertical

दिए गए समीकरण $p_1 = a_{11}X_1 + a_{12}X_2 + \dots + a_{1k}X_k$; में a_{11} से क्या अभिप्राय है:

1. प्रमुख घटक
2. समुदायिकता
3. अभिलक्षणिक मान
4. भारण

Options :

- 61198711145. 1
- 61198711146. 2
- 61198711147. 3
- 61198711148. 4

Question Number : 88 Question Id : 6119872862 Question Type : MCQ Option Shuffling : No Display Question Number : Yes Is Question Mandatory : No Single Line Question Option : No Option Orientation : Vertical

Which of the following rivers represents an example of antecedent drainage?

1. Kaveri
2. Luni
3. Kosi
4. Godavari

Options :

- 61198711149. 1
- 61198711150. 2
- 61198711151. 3
- 61198711152. 4

Question Number : 88 Question Id : 6119872862 Question Type : MCQ Option Shuffling : No Display Question Number : Yes Is Question Mandatory : No Single Line Question Option : No Option Orientation : Vertical

निम्नलिखित नदियों में से कौन सी पूर्ववर्ती अपवाह का उदाहरण प्रदर्शित करती है?

1. कावेरी
2. लूनी
3. कोसी
4. गोदावरी

Options :

- 61198711149. 1
- 61198711150. 2
- 61198711151. 3
- 61198711152. 4

Question Number : 89 Question Id : 6119872863 Question Type : MCQ Option Shuffling : No Display Question Number : Yes Is Question Mandatory : No Single Line Question Option : No Option Orientation : Vertical

In which one of the following regions the variability of rainfall is highest?

1. Utkal Plain
2. Rajasthan
3. Western Coastal region
4. Eastern Himalaya

Options :

- 61198711153. 1
- 61198711154. 2
- 61198711155. 3
- 61198711156. 4

Question Number : 89 Question Id : 6119872863 Question Type : MCQ Option Shuffling : No Display Question Number : Yes Is Question Mandatory : No Single Line Question Option : No Option Orientation : Vertical

निम्नलिखित प्रदेशों में से किसमें वर्षा की परिवर्तनशीलता सर्वाधिक है?

1. उत्कल मैदान
2. राजस्थान
3. पश्चिमी तटीय प्रदेश
4. पूर्वी हिमालय

Options :

- 61198711153. 1
- 61198711154. 2
- 61198711155. 3
- 61198711156. 4

Question Number : 90 Question Id : 6119872864 Question Type : MCQ Option Shuffling : No Display Question Number : Yes Is Question Mandatory : No Single Line Question Option : No Option Orientation : Vertical

Capital city of which of the following states is located in the least earthquake hazard sensitivity zone?

1. West Bengal
2. Maharashtra
3. Mizoram
4. Chhattisgarh

Options :

- 61198711157. 1
- 61198711158. 2
- 61198711159. 3
- 61198711160. 4

Question Number : 90 Question Id : 6119872864 Question Type : MCQ Option Shuffling : No Display Question Number : Yes Is Question Mandatory : No Single Line Question Option : No Option Orientation : Vertical

निम्नलिखित राज्यों में से किसका राजधानी नगर न्यूनतम भूकंप संकट संवेदनशीलता मण्डल में अवस्थित है?

1. पश्चिम बंगाल
2. महाराष्ट्र
3. मिजोरम
4. छत्तीसगढ़

Options :

- 61198711157. 1
- 61198711158. 2
- 61198711159. 3
- 61198711160. 4

Question Number : 91 Question Id : 6119872865 Question Type : MCQ Option Shuffling : No Display Question Number : Yes Is Question Mandatory : No Single Line Question Option : No Option Orientation : Vertical

Given below are two statements: one is labelled as **Assertion A** and the other is labelled as **Reason R**

Assertion A: In the youth stage of the Cycle of Erosion of Davis the absolute height and relative relief increases rapidly.

Reason R: Valley deepening is the dominant tendency of streams in the youth stage.

In the light of the above statements, choose the *most appropriate* answer from the options given below

1. Both **A** and **R** are correct and **R** is the correct explanation of **A**.
2. Both **A** and **R** are correct but **R** is NOT the correct explanation of **A**.
3. **A** is correct but **R** is not correct.
4. **A** is not correct but **R** is correct.

Options :

61198711161. 1

61198711162. 2

61198711163. 3

61198711164. 4

Question Number : 91 Question Id : 6119872865 Question Type : MCQ Option Shuffling : No Display Question Number : Yes Is Question Mandatory : No Single Line Question Option : No Option Orientation : Vertical

नीचे दो कथन दिए गए हैं: एक अभिकथन (**Assertion A**) के रूप में है तो दूसरा उसके कारण (**Reason R**) के रूप में:

अभिकथन A: डेविस के अपरदन चक्र की तरुणावस्था में निरपेक्ष ऊंचाई तथा सापेक्ष उच्चावच तेजी से बढ़ते हैं।

कारण R: तरुणावस्था में सरिताओं की प्रमुख प्रवृत्ति घाटी गर्तन होती है।

उपरोक्त कथन के आलोक में, नीचे दिए गए विकल्पों में से सबसे उपयुक्त **उत्तर** का चयन कीजिए

1. **A** और **R** दोनों सही हैं और **R**, **A** की सही व्याख्या है।
2. **A** और **R** दोनों सही हैं और **R**, **A** की सही व्याख्या नहीं है।
3. **A** सही है और **R** सही नहीं है।
4. **A** सही नहीं है और **R** सही है।

Options :

61198711161. 1

61198711162. 2

61198711163. 3

61198711164. 4

Question Number : 92 Question Id : 6119872866 Question Type : MCQ Option Shuffling : No Display Question Number : Yes Is Question Mandatory : No Single Line Question Option : No Option Orientation : Vertical

Given below are two statements: one is labelled as **Assertion A** and the other is labelled as **Reason R**

Assertion A: Monsoon is characterised by a seasonal reversal of wind direction.

Reason R: Differential rates of heating of land and sea produces thermally induced pressure gradient.

In the light of the above statements, choose the *most appropriate* answer from the options given below

1. Both **A** and **R** are correct and **R** is the correct explanation of **A**.
2. Both **A** and **R** are correct but **R** is NOT the correct explanation of **A**.
3. **A** is correct but **R** is not correct.
4. **A** is not correct but **R** is correct.

Options :

61198711165. 1

61198711166. 2

61198711167. 3

61198711168. 4

Question Number : 92 Question Id : 6119872866 Question Type : MCQ Option Shuffling : No Display Question Number : Yes Is Question Mandatory : No Single Line Question Option : No Option Orientation : Vertical

नीचे दो कथन दिए गए हैं: एक अभिकथन (**Assertion A**) के रूप में है तो दूसरा उसके कारण (**Reason R**) के रूप में:

अभिकथन A: ऋतु अनुसार पवन दिशा में व्युत्क्रमण मानसून की विशेषता है।

कारण R: भूमि तथा समुद्र का विभिन्न दरों से उष्मन ताप प्रेरित दाब प्रवणता उत्पन्न करता है।

उपरोक्त कथन के आलोक में, नीचे दिए गए विकल्पों में से सबसे उपयुक्त **उत्तर** का चयन कीजिए

1. **A** और **R** दोनों सही हैं और **R**, **A** की सही व्याख्या है।
2. **A** और **R** दोनों सही हैं और **R**, **A** की सही व्याख्या नहीं है।
3. **A** सही है और **R** सही नहीं है।
4. **A** सही नहीं है और **R** सही है।

Options :

61198711165. 1

61198711166. 2

61198711167. 3

61198711168. 4

Question Number : 93 Question Id : 6119872867 Question Type : MCQ Option Shuffling : No Display Question Number : Yes Is Question Mandatory : No Single Line Question Option : No Option Orientation : Vertical

Given below are two statements: one is labelled as **Assertion A** and the other is labelled as **Reason R**

Assertion A: The Kuroshio current system runs from Taiwan to the Bearing strait.

Reason R: Tsushima current has relatively colder temperature and it modifies the weather conditions of the Australian coast.

In the light of the above statements, choose the *most appropriate* answer from the options given below

1. Both **A** and **R** are correct and **R** is the correct explanation of **A**.
2. Both **A** and **R** are correct but **R** is NOT the correct explanation of **A**.
3. **A** is correct but **R** is not correct.
4. **A** is not correct but **R** is correct.

Options :

61198711169. 1

61198711170. 2

61198711171. 3

61198711172. 4

Question Number : 93 Question Id : 6119872867 Question Type : MCQ Option Shuffling : No Display Question Number : Yes Is Question Mandatory : No Single Line Question Option : No Option Orientation : Vertical

नीचे दो कथन दिए गए हैं: एक अभिकथन (**Assertion A**) के रूप में है तो दूसरा उसके कारण (**Reason R**) के रूप में:

अभिकथन A: क्युरोशियो धारा तंत्र ताईवान से बेरिंग जलडमरूमध्य तक बहता है।

कारण R: सुशिमा धारा का तापमान सापेक्षतः ठण्डा होता है तथा यह आस्ट्रेलियन तट की मौसम दशाओं को परिवर्तित करती है।

उपरोक्त कथन के आलोक में, नीचे दिए गए विकल्पों में से सबसे उपयुक्त **उत्तर** का चयन कीजिए

1. **A** और **R** दोनों सही हैं और **R**, **A** की सही व्याख्या है।
2. **A** और **R** दोनों सही हैं और **R**, **A** की सही व्याख्या नहीं है।
3. **A** सही है और **R** सही नहीं है।
4. **A** सही नहीं है और **R** सही है।

Options :

61198711169. 1

61198711170. 2

61198711171. 3

61198711172. 4

Question Number : 94 Question Id : 6119872868 Question Type : MCQ Option Shuffling : No Display Question Number : Yes Is Question Mandatory : No Single Line Question Option : No Option Orientation : Vertical

Given below are two statements: one is labelled as **Assertion A** and the other is labelled as **Reason R**

Assertion A: Volcanic eruptions and earthquakes are quite frequent in Hawaiian Islands

Reason R: Hawaiian islands are located in Circum-pacific "Ring of Fire".

In the light of the above statements, choose the *most appropriate* answer from the options given below

1. Both **A** and **R** are correct and **R** is the correct explanation of **A**.
2. Both **A** and **R** are correct but **R** is NOT the correct explanation of **A**.
3. **A** is correct but **R** is not correct.
4. **A** is not correct but **R** is correct.

Options :

61198711173. 1

61198711174. 2

61198711175. 3

61198711176. 4

Question Number : 94 Question Id : 6119872868 Question Type : MCQ Option Shuffling : No Display Question Number : Yes Is Question Mandatory : No Single Line Question Option : No Option Orientation : Vertical

नीचे दो कथन दिए गए हैं: एक अभिकथन (**Assertion A**) के रूप में है तो दूसरा उसके कारण (**Reason R**) के रूप में:

अभिकथन A: हवाई द्वीपों में ज्वालामुखी उद्गारों तथा भूकंपों की बारंबारता काफी है।

कारण R: हवाई द्वीप परि-प्रशान्त "ज्वालावृत" में अवस्थित हैं।

उपरोक्त कथन के आलोक में, नीचे दिए गए विकल्पों में से सबसे उपयुक्त **उत्तर** का चयन कीजिए

1. **A** और **R** दोनों सही हैं और **R, A** की सही व्याख्या है।
2. **A** और **R** दोनों सही हैं और **R, A** की सही व्याख्या नहीं है।
3. **A** सही है और **R** सही नहीं है।
4. **A** सही नहीं है और **R** सही है।

Options :

61198711173. 1

61198711174. 2

61198711175. 3

61198711176. 4

Question Number : 95 Question Id : 6119872869 Question Type : MCQ Option Shuffling : No Display Question Number : Yes Is Question Mandatory : No Single Line Question Option : No Option Orientation : Vertical

Given below are two statements: one is labelled as **Assertion A** and the other is labelled as **Reason R**

Assertion A: The Central Place Theory of Christaller is based on demographic hierarchy of central places.

Reason R: No settlement can claim to be a central place unless it has a complementary area.

In the light of the above statements, choose the *most appropriate* answer from the options given below

1. Both **A** and **R** are correct and **R** is the correct explanation of **A**.
2. Both **A** and **R** are correct but **R** is NOT the correct explanation of **A**.
3. **A** is correct but **R** is not correct.
4. **A** is not correct but **R** is correct.

Options :

61198711177. 1

61198711178. 2

61198711179. 3

61198711180. 4

Question Number : 95 Question Id : 6119872869 Question Type : MCQ Option Shuffling : No Display Question Number : Yes Is Question Mandatory : No Single Line Question Option : No Option Orientation : Vertical

नीचे दो कथन दिए गए हैं: एक अभिकथन (**Assertion A**) के रूप में है तो दूसरा उसके कारण (**Reason R**) के रूप में:

अभिकथन A: क्रिस्टालर का केन्द्रीय स्थल सिद्धान्त केन्द्र स्थलों के जनांकिकीय पदानुक्रम पर आधारित है।

कारण R: कोई भी बस्ती केन्द्र स्थल होने का दावा नहीं कर सकती जब तक उसका सम्पूर्ण क्षेत्र न हो।

उपरोक्त कथन के आलोक में, नीचे दिए गए विकल्पों में से सबसे उपयुक्त **उत्तर** का चयन कीजिए

1. **A** और **R** दोनों सही हैं और **R**, **A** की सही व्याख्या है।
2. **A** और **R** दोनों सही हैं और **R**, **A** की सही व्याख्या नहीं है।
3. **A** सही है और **R** सही नहीं है।
4. **A** सही नहीं है और **R** सही है।

Options :

61198711177. 1

61198711178. 2

61198711179. 3

61198711180. 4

Question Number : 96 Question Id : 6119872870 Question Type : MCQ Option Shuffling : No Display Question Number : Yes Is Question Mandatory : No Single Line Question Option : No Option Orientation : Vertical

Given below are two statements: one is labelled as **Assertion A** and the other is labelled as **Reason R**

Assertion A: Arizona state of USA has most of the copper concentration mills and smelters.

Reason R: Copper concentration and smelters are bulk-reducing industries.

In the light of the above statements, choose the *most appropriate* answer from the options given below

1. Both **A** and **R** are correct and **R** is the correct explanation of **A**.
2. Both **A** and **R** are correct but **R** is NOT the correct explanation of **A**.
3. **A** is correct but **R** is not correct.
4. **A** is not correct but **R** is correct.

Options :

61198711181. 1

61198711182. 2

61198711183. 3

61198711184. 4

Question Number : 96 Question Id : 6119872870 Question Type : MCQ Option Shuffling : No Display Question Number : Yes Is Question Mandatory : No Single Line Question Option : No Option Orientation : Vertical

नीचे दो कथन दिए गए हैं: एक अभिकथन (**Assertion A**) के रूप में है तो दूसरा उसके कारण (**Reason R**) के रूप में:

अभिकथन A: यूएसए के एरीजोना राज्य में सर्वाधिक ताँबा संकेन्द्रण मिलें तथा प्रगालक हैं।

कारण R: ताँबा संकेन्द्रण तथा प्रगालक स्थूल-लघुकारक उद्योग है।

उपरोक्त कथन के आलोक में, नीचे दिए गए विकल्पों में से सबसे उपयुक्त **उत्तर** का चयन कीजिए

1. **A** और **R** दोनों सही हैं और **R**, **A** की सही व्याख्या है।
2. **A** और **R** दोनों सही हैं और **R**, **A** की सही व्याख्या नहीं है।
3. **A** सही है और **R** सही नहीं है।
4. **A** सही नहीं है और **R** सही है।

Options :

61198711181. 1

61198711182. 2

61198711183. 3

61198711184. 4

Question Number : 97 Question Id : 6119872871 Question Type : MCQ Option Shuffling : No Display Question Number : Yes Is Question Mandatory : No Single Line Question Option : No Option Orientation : Vertical

Given below are two statements: one is labelled as **Assertion A** and the other is labelled as **Reason R**

Assertion A: The Jains registered least growth rate of population in India (2001-2011).

Reason R: Conversion into other religious faiths is very common in Jains in India.

In the light of the above statements, choose the *most appropriate* answer from the options given below

1. Both **A** and **R** are correct and **R** is the correct explanation of **A**.
2. Both **A** and **R** are correct but **R** is NOT the correct explanation of **A**.
3. **A** is correct but **R** is not correct.
4. **A** is not correct but **R** is correct.

Options :

61198711185. 1

61198711186. 2

61198711187. 3

61198711188. 4

Question Number : 97 Question Id : 6119872871 Question Type : MCQ Option Shuffling : No Display Question Number : Yes Is Question Mandatory : No Single Line Question Option : No Option Orientation : Vertical

नीचे दो कथन दिए गए हैं: एक अभिकथन (**Assertion A**) के रूप में है तो दूसरा उसके कारण (**Reason R**) के रूप में:

अभिकथन A: भारत में जैनों ने न्यूनतम जनसंख्या वृद्धि दर (2001-2011) दर्ज की।

कारण R: भारत में जैनों में अन्य धार्मिक विश्वासों में परिवर्तन अत्यधिक सामान्य है।

उपरोक्त कथन के आलोक में, नीचे दिए गए विकल्पों में से सबसे उपयुक्त **उत्तर** का चयन कीजिए

1. **A** और **R** दोनों सही हैं और **R**, **A** की सही व्याख्या है।
2. **A** और **R** दोनों सही हैं और **R**, **A** की सही व्याख्या नहीं है।
3. **A** सही है और **R** सही नहीं है।
4. **A** सही नहीं है और **R** सही है।

Options :

61198711185. 1

61198711186. 2

61198711187. 3

61198711188. 4

Question Number : 98 Question Id : 6119872872 Question Type : MCQ Option Shuffling : No Display Question Number : Yes Is Question Mandatory : No Single Line Question Option : No Option Orientation : Vertical

Given below are two statements: one is labelled as **Assertion A** and the other is labelled as **Reason R**

Assertion A: The Harvey of "Explanation in Geography"(1969) was a transformed intellectual in "Social Justice and the city"(1973)

Reason R: The theories and methodologies of the conventional geography were proving to be utterly inadequate for the pursuit of geography as a socially relevant discipline engaged in the betterment of the human conditions.

In the light of the above statements, choose the *most appropriate* answer from the options given below

1. Both **A** and **R** are correct and **R** is the correct explanation of **A**.
2. Both **A** and **R** are correct but **R** is NOT the correct explanation of **A**.
3. **A** is correct but **R** is not correct.
4. **A** is not correct but **R** is correct.

Options :

61198711189. 1

61198711190. 2

61198711191. 3

61198711192. 4

Question Number : 98 Question Id : 6119872872 Question Type : MCQ Option Shuffling : No Display Question Number : Yes Is Question Mandatory : No Single Line Question Option : No Option Orientation : Vertical

नीचे दो कथन दिए गए हैं: एक अभिकथन (**Assertion A**) के रूप में है तो दूसरा उसके कारण (**Reason R**) के रूप में:

अभिकथन A: "एक्सप्लेनेशन इन ज्योग्राफी" (1969) का हार्वे "सोशल जस्टिस एण्ड द सिटी" (1973) में एक परिवर्तित बुद्धिजीवी था।

कारण R: परम्परागत भूगोल के सिद्धान्त तथा विधि-तंत्र भूगोल के मानव दशाओं में सुधार में संलग्न सामाजिक रूप से प्रासंगिक विषय के लक्ष्य के लिए पूर्णतः अपर्याप्त साबित हो रहे थे।

उपरोक्त कथन के आलोक में, नीचे दिए गए विकल्पों में से सबसे उपयुक्त **उत्तर** का चयन कीजिए

1. **A** और **R** दोनों सही हैं और **R**, **A** की सही व्याख्या है।
2. **A** और **R** दोनों सही हैं और **R**, **A** की सही व्याख्या नहीं है।
3. **A** सही है और **R** सही नहीं है।
4. **A** सही नहीं है और **R** सही है।

Options :

61198711189. 1

61198711190. 2

61198711191. 3

61198711192. 4

Question Number : 99 Question Id : 6119872873 Question Type : MCQ Option Shuffling : No Display Question Number : Yes Is Question Mandatory : No Single Line Question Option : No Option Orientation : Vertical

Given below are two statements: one is labelled as **Assertion A** and the other is labelled as **Reason R**

Assertion A: Datum plane is difficult to determine.

Reason R: Sea level is not the same always and everywhere; it fluctuates.

In the light of the above statements, choose the *most appropriate* answer from the options given below

1. Both **A** and **R** are correct and **R** is the correct explanation of **A**.
2. Both **A** and **R** are correct but **R** is NOT the correct explanation of **A**.
3. **A** is correct but **R** is not correct.
4. **A** is not correct but **R** is correct.

Options :

61198711193. 1

61198711194. 2

61198711195. 3

61198711196. 4

Question Number : 99 Question Id : 6119872873 Question Type : MCQ Option Shuffling : No Display Question Number : Yes Is Question Mandatory : No Single Line Question Option : No Option Orientation : Vertical

नीचे दो कथन दिए गए हैं: एक अभिकथन (**Assertion A**) के रूप में है तो दूसरा उसके कारण (**Reason R**) के रूप में:

अभिकथन A: आधार तल को निश्चित करना कठिन है।

कारण R: समुद्र तल सदैव तथा सर्वत्र एक समान नहीं होता, यह बदलता रहता है।

उपरोक्त कथन के आलोक में, नीचे दिए गए विकल्पों में से सबसे उपयुक्त **उत्तर** का चयन कीजिए

1. **A** और **R** दोनों सही हैं और **R, A** की सही व्याख्या है।
2. **A** और **R** दोनों सही हैं और **R, A** की सही व्याख्या नहीं है।
3. **A** सही है और **R** सही नहीं है।
4. **A** सही नहीं है और **R** सही है।

Options :

61198711193. 1

61198711194. 2

61198711195. 3

61198711196. 4

Question Number : 100 Question Id : 6119872874 Question Type : MCQ Option Shuffling : No Display Question Number : Yes Is Question Mandatory : No Single Line Question Option : No Option Orientation : Vertical

Given below are two statements: one is labelled as **Assertion A** and the other is labelled as **Reason R**

Assertion A: India is in the late expanding stage of demographic transition.

Reason R: The Empowered Action Group (EAG) states have lowest total fertility rates among all states of India.

In the light of the above statements, choose the *most appropriate* answer from the options given below

1. Both **A** and **R** are correct and **R** is the correct explanation of **A**.
2. Both **A** and **R** are correct but **R** is NOT the correct explanation of **A**.
3. **A** is correct but **R** is not correct.
4. **A** is not correct but **R** is correct.

Options :

61198711197. 1

61198711198. 2

61198711199. 3

61198711200. 4

Question Number : 100 Question Id : 6119872874 Question Type : MCQ Option Shuffling : No Display Question Number : Yes Is Question Mandatory : No Single Line Question Option : No Option Orientation : Vertical

नीचे दो कथन दिए गए हैं: एक अभिकथन (**Assertion A**) के रूप में है तो दूसरा उसके कारण (**Reason R**) के रूप में:

अभिकथन A: भारत जनसंख्या संक्रमण की देरी से विस्तार अवस्था में है।

कारण R: सशक्त कार्रवाई समूह (इएजी) राज्यों की कुल प्रजनन दर भारत के सभी राज्यों में न्यूनतम है।

उपरोक्त कथन के आलोक में, नीचे दिए गए विकल्पों में से सबसे उपयुक्त **उत्तर** का चयन कीजिए

1. **A** और **R** दोनों सही हैं और **R, A** की सही व्याख्या है।
2. **A** और **R** दोनों सही हैं और **R, A** की सही व्याख्या नहीं है।
3. **A** सही है और **R** सही नहीं है।
4. **A** सही नहीं है और **R** सही है।

Options :

61198711197. 1

61198711198. 2

61198711199. 3

61198711200. 4

Question Number : 101 Question Id : 6119872875 Question Type : MCQ Option Shuffling : No Display Question Number : Yes Is Question Mandatory : No Single Line Question Option : No Option Orientation : Vertical

Arrange the following elements of a standard hill-slope from bottom to top.

- A. Waxing slope
- B. Free-face slope
- C. Waning slope
- D. Debris slope

Choose the **correct** answer from the options given below:

1. A, B, C, D
2. C, D, B, A
3. D, B, C, A
4. B, A, D, C

Options :

- 61198711201. 1
- 61198711202. 2
- 61198711203. 3
- 61198711204. 4

Question Number : 101 Question Id : 6119872875 Question Type : MCQ Option Shuffling : No Display Question Number : Yes Is Question Mandatory : No Single Line Question Option : No Option Orientation : Vertical

एक मानक पहाड़ी ढाल के निम्नलिखित तत्वों को तल से चोटी की ओर व्यवस्थित करें।

- A. वर्द्धमान ढाल
- B. मुक्त-पृष्ठ ढाल
- C. क्षीयमाण ढाल
- D. मलबा ढाल

नीचे दिए गए विकल्पों में से **सही** उत्तर चुनें:

1. A, B, C, D
2. C, D, B, A
3. D, B, C, A
4. B, A, D, C

Options :

- 61198711201. 1
- 61198711202. 2
- 61198711203. 3
- 61198711204. 4

Question Number : 102 Question Id : 6119872876 Question Type : MCQ Option Shuffling : No Display Question Number : Yes Is Question Mandatory : No Single Line Question Option : No Option Orientation : Vertical

Arrange the following lithospheric plates from south to north on the map of world.

- A. Juan De Fuca plate
- B. Scotia Plate
- C. Cocos Plate
- D. Nazca Plate

Choose the **correct** answer from the options given below:

1. B, D, C, A
2. B, C, A, D
3. B, A, D, C
4. A, B, C, D

Options :

- 61198711205. 1
- 61198711206. 2
- 61198711207. 3
- 61198711208. 4

Question Number : 102 Question Id : 6119872876 Question Type : MCQ Option Shuffling : No Display Question Number : Yes Is Question Mandatory : No Single Line Question Option : No Option Orientation : Vertical

निम्नलिखित स्थलीय प्लेटों को विश्व मानचित्र में दक्षिण से उत्तर में व्यवस्थित करें:

- A. जुआन डी फुका प्लेट
- B. स्कोटिया प्लेट
- C. कोकोस प्लेट
- D. नाजका प्लेट

नीचे दिए गए विकल्पों में से **सही** उत्तर चुनें:

1. B, D, C, A
2. B, C, A, D
3. B, A, D, C
4. A, B, C, D

Options :

- 61198711205. 1
- 61198711206. 2
- 61198711207. 3
- 61198711208. 4

Question Number : 103 Question Id : 6119872877 Question Type : MCQ Option Shuffling : No Display Question Number : Yes Is Question Mandatory : No Single Line Question Option : No Option Orientation : Vertical

Arrange the following surfaces from lowest to highest albedo rate.

- A. Fresh snow
- B. Old snow
- C. Sand
- D. Green Forest

Choose the **correct** answer from the options given below:

1. A, B, C, D
2. D, A, B, C
3. A, C, D, B
4. D, C, B, A

Options :

- 61198711209. 1
- 61198711210. 2
- 61198711211. 3
- 61198711212. 4

Question Number : 103 Question Id : 6119872877 Question Type : MCQ Option Shuffling : No Display Question Number : Yes Is Question Mandatory : No Single Line Question Option : No Option Orientation : Vertical

निम्नलिखित सतहों को धवलता दर के न्यूनतम से अधिकतम में व्यवस्थित करें:

- A. ताजा बर्फ
- B. पुरानी बर्फ
- C. बालू
- D. हरा वन

नीचे दिए गए विकल्पों में से **सही** उत्तर चुनें:

1. A, B, C, D
2. D, A, B, C
3. A, C, D, B
4. D, C, B, A

Options :

- 61198711209. 1
- 61198711210. 2
- 61198711211. 3
- 61198711212. 4

Question Number : 104 Question Id : 6119872878 Question Type : MCQ Option Shuffling : No Display Question Number : Yes Is Question Mandatory : No Single Line Question Option : No Option Orientation : Vertical

Arrange the following humidity provinces in correct sequence based on the lowest to highest moisture index as proposed by Thomthwaite.

- A. Humid
- B. Dry Sub-humid
- C. Per Humid
- D. Moist sub-humid

Choose the **correct** answer from the options given below:

- 1. D, A, B, C
- 2. B, C, A, D
- 3. B, D, A, C
- 4. A, B, C, D

Options :

- 61198711213. 1
- 61198711214. 2
- 61198711215. 3
- 61198711216. 4

Question Number : 104 Question Id : 6119872878 Question Type : MCQ Option Shuffling : No Display Question Number : Yes Is Question Mandatory : No Single Line Question Option : No Option Orientation : Vertical

निम्नलिखित आर्द्रता क्षेत्रों को थोर्नवेट द्वारा प्रतिपादित आर्द्रता सूचकांक के आधार पर न्यूनतम से अधिकतम के सही क्रम में व्यवस्थित करें:

- A. आर्द्र
- B. शुष्क-उपार्द्र
- C. अति-आर्द्र
- D. आर्द्र-उपार्द्र

नीचे दिए गए विकल्पों में से **सही** उत्तर चुनें:

- 1. D, A, B, C
- 2. B, C, A, D
- 3. B, D, A, C
- 4. A, B, C, D

Options :

- 61198711213. 1
- 61198711214. 2
- 61198711215. 3
- 61198711216. 4

Question Number : 105 Question Id : 6119872879 Question Type : MCQ Option Shuffling : No Display Question Number : Yes Is Question Mandatory : No Single Line Question Option : No Option Orientation : Vertical

Arrange the following relief features of Atlantic Ocean from south to north.

- A. Romanche deep
- B. Dolphin ridge
- C. Walvis ridge
- D. Wyville Thomson ridge

Choose the **correct** answer from the options given below:

- 1. A, D, B, C
- 2. C, A, B, D
- 3. D, B, C, A
- 4. C, B, A, D

Options :

- 61198711217. 1
- 61198711218. 2
- 61198711219. 3
- 61198711220. 4

Question Number : 105 Question Id : 6119872879 Question Type : MCQ Option Shuffling : No Display Question Number : Yes Is Question Mandatory : No Single Line Question Option : No Option Orientation : Vertical

अटलांटिक महासागर के निम्नलिखित धरातलीय लक्षणों को दक्षिण से उत्तर में व्यवस्थित करें:

- A. रोमांश गभीर
- B. डॉल्फिन कटक
- C. वालविस कटक
- D. वाइविल थोम्सन कटक

नीचे दिए गए विकल्पों में से **सही** उत्तर चुनें:

- 1. A, D, B, C
- 2. C, A, B, D
- 3. D, B, C, A
- 4. C, B, A, D

Options :

- 61198711217. 1
- 61198711218. 2
- 61198711219. 3
- 61198711220. 4

Question Number : 106 Question Id : 6119872880 Question Type : MCQ Option Shuffling : No Display Question Number : Yes Is Question Mandatory : No Single Line Question Option : No Option Orientation : Vertical

Arrange the following biological units in lower to higher biotic order:

- A. Populations
- B. Cells
- C. Tissues
- D. Communities

Choose the **correct** answer from the options given below:

1. C, B, A, D
2. C, B, D, A
3. B, C, D, A
4. B, C, A, D

Options :

- 61198711221. 1
- 61198711222. 2
- 61198711223. 3
- 61198711224. 4

Question Number : 106 Question Id : 6119872880 Question Type : MCQ Option Shuffling : No Display Question Number : Yes Is Question Mandatory : No Single Line Question Option : No Option Orientation : Vertical

निम्नलिखित जैविक इकाइयों को निम्न से उच्चतर जैविक क्रम में व्यवस्थित करें:

- A. जनसंख्याएँ
- B. कोशिकाएँ
- C. ऊतक
- D. समुदाय

नीचे दिए गए विकल्पों में से **सही** उत्तर चुनें:

1. C, B, A, D
2. C, B, D, A
3. B, C, D, A
4. B, C, A, D

Options :

- 61198711221. 1
- 61198711222. 2
- 61198711223. 3
- 61198711224. 4

Question Number : 107 Question Id : 6119872881 Question Type : MCQ Option Shuffling : No Display Question Number : Yes Is Question Mandatory : No Single Line Question Option : No Option Orientation : Vertical

Arrange the following Indian environmental laws and projects in chronological order of their initiation.

- A. Biological Diversity Act
- B. The Air (Prevention and Control of Pollution) Act
- C. The Water (Prevention and Control of Pollution) Act
- D. Project Tiger

Choose the **correct** answer from the options given below:

- 1. D, C, B, A
- 2. C, D, B, A
- 3. C, D, A, B
- 4. D, C, A, B

Options :

- 61198711225. 1
- 61198711226. 2
- 61198711227. 3
- 61198711228. 4

Question Number : 107 Question Id : 6119872881 Question Type : MCQ Option Shuffling : No Display Question Number : Yes Is Question Mandatory : No Single Line Question Option : No Option Orientation : Vertical

भारत के निम्नलिखित पर्यावरण कानूनों तथा प्रोजेक्टों को उनके प्रारम्भ के कालानुक्रम में व्यवस्थित करें।

- A. जैविक विविधता अधिनियम
- B. वायु (प्रदूषण रोकथाम एवं नियंत्रण) अधिनियम
- C. जल (प्रदूषण रोकथाम एवं नियंत्रण) अधिनियम
- D. प्रोजेक्ट टाइगर

नीचे दिए गए विकल्पों में से **सही** उत्तर चुनें:

- 1. D, C, B, A
- 2. C, D, B, A
- 3. C, D, A, B
- 4. D, C, A, B

Options :

- 61198711225. 1
- 61198711226. 2
- 61198711227. 3
- 61198711228. 4

Question Number : 108 Question Id : 6119872882 Question Type : MCQ Option Shuffling : No Display Question Number : Yes Is Question Mandatory : No Single Line Question Option : No Option Orientation : Vertical

Arrange the following states of India in descending order on the basis of level of urbanization in 2011.

- A. Mizoram
- B. West Bengal
- C. Gujarat
- D. Punjab

Choose the **correct** answer from the options given below:

1. C, A, D, B
2. C, A, B, D
3. A, C, D, B
4. A, C, B, D

Options :

- 61198711229. 1
- 61198711230. 2
- 61198711231. 3
- 61198711232. 4

Question Number : 108 Question Id : 6119872882 Question Type : MCQ Option Shuffling : No Display Question Number : Yes Is Question Mandatory : No Single Line Question Option : No Option Orientation : Vertical

भारत के निम्नलिखित राज्यों को 2011 में नगरीकरण के स्तर के आधार पर अवरोही क्रम में व्यवस्थित करें।

- A. मिजोरम
- B. पश्चिम बंगाल
- C. गुजरात
- D. पंजाब

नीचे दिए गए विकल्पों में से **सही** उत्तर चुनें:

1. C, A, D, B
2. C, A, B, D
3. A, C, D, B
4. A, C, B, D

Options :

- 61198711229. 1
- 61198711230. 2
- 61198711231. 3
- 61198711232. 4

Question Number : 109 Question Id : 6119872883 Question Type : MCQ Option Shuffling : No Display Question Number : Yes Is Question Mandatory : No Single Line Question Option : No Option Orientation : Vertical

Arrange the following countries in descending order in terms of their total population as per UN World Population Data 2024.

- A. Bangladesh
- B. Pakistan
- C. Indonesia
- D. Nigeria

Choose the **correct** answer from the options given below:

- 1. C, B, D, A
- 2. C, B, A, D
- 3. B, C, A, D
- 4. B, C, D, A

Options :

- 61198711233. 1
- 61198711234. 2
- 61198711235. 3
- 61198711236. 4

Question Number : 109 Question Id : 6119872883 Question Type : MCQ Option Shuffling : No Display Question Number : Yes Is Question Mandatory : No Single Line Question Option : No Option Orientation : Vertical

संयुक्त राष्ट्र विश्व जनसंख्या आंकड़े 2024 के अनुसार निम्नलिखित देशों को उनकी कुल जनसंख्या के आधार पर अवरोही क्रम में व्यवस्थित करें।

- A. बांग्लादेश
- B. पाकिस्तान
- C. इण्डोनेशिया
- D. नाइजीरिया

नीचे दिए गए विकल्पों में से **सही** उत्तर चुनें:

- 1. C, B, D, A
- 2. C, B, A, D
- 3. B, C, A, D
- 4. B, C, D, A

Options :

- 61198711233. 1
- 61198711234. 2
- 61198711235. 3
- 61198711236. 4

Question Number : 110 Question Id : 6119872884 Question Type : MCQ Option Shuffling : No Display Question Number : Yes Is Question Mandatory : No Single Line Question Option : No Option Orientation : Vertical

Arrange the publications of following industrial location theories in correct sequence from oldest to latest:

- A. D. M. Smith's Theory
- B. August Losch's Theory
- C. Allen Pred's Theory
- D. Alfred Weber's Theory

Choose the **correct** answer from the options given below:

- 1. C, A, D, B
- 2. D, B, A, C
- 3. A, B, C, D
- 4. D, C, A, B

Options :

- 61198711237. 1
- 61198711238. 2
- 61198711239. 3
- 61198711240. 4

Question Number : 110 Question Id : 6119872884 Question Type : MCQ Option Shuffling : No Display Question Number : Yes Is Question Mandatory : No Single Line Question Option : No Option Orientation : Vertical

निम्नलिखित औद्योगिक अवस्थिति सिद्धान्तों के प्रकाशन को प्राचीनतम से नवीनतम के सही क्रम में व्यवस्थित करें:

- A. डी. एम. स्मिथ का सिद्धान्त
- B. अगस्त लॉश का सिद्धान्त
- C. एल्लेन प्रेड का सिद्धान्त
- D. अल्फ्रेड वेबर का सिद्धान्त

नीचे दिए गए विकल्पों में से **सही** उत्तर चुनें:

- 1. C, A, D, B
- 2. D, B, A, C
- 3. A, B, C, D
- 4. D, C, A, B

Options :

- 61198711237. 1
- 61198711238. 2
- 61198711239. 3
- 61198711240. 4

Question Number : 111 Question Id : 6119872885 Question Type : MCQ Option Shuffling : No Display Question Number : Yes Is Question Mandatory : No Single Line Question Option : No Option Orientation : Vertical

Arrange the following leading exporters in world merchandise trade in 2024 in descending order of their share:

- A. Netherlands
- B. USA
- C. China
- D. Japan

Choose the **correct** answer from the options given below:

1. B, C, D, A
2. B, C, A, D
3. C, B, A, D
4. C, B, D, A

Options :

- 61198711241. 1
- 61198711242. 2
- 61198711243. 3
- 61198711244. 4

Question Number : 111 Question Id : 6119872885 Question Type : MCQ Option Shuffling : No Display Question Number : Yes Is Question Mandatory : No Single Line Question Option : No Option Orientation : Vertical

2024 में विश्व पण्य व्यापार में निम्नलिखित अग्रणी निर्यातकों को उनके हिस्से के अवरोही क्रम में व्यवस्थित करें:

- A. नीदरलैंड
- B. यू.एस.ए.
- C. चीन
- D. जापान

नीचे दिए गए विकल्पों में से **सही** उत्तर चुनें:

1. B, C, D, A
2. B, C, A, D
3. C, B, A, D
4. C, B, D, A

Options :

- 61198711241. 1
- 61198711242. 2
- 61198711243. 3
- 61198711244. 4

Question Number : 112 Question Id : 6119872886 Question Type : MCQ Option Shuffling : No Display Question Number : Yes Is Question Mandatory : No Single Line Question Option : No Option Orientation : Vertical

Arrange the following regional planning programmes of India in chronological order based on their year of initiation:

- A. National Capital Region
- B. National Watershed Development Program for Rainfed Areas
- C. Command Area Development Program
- D. Desert Development Program

Choose the **correct** answer from the options given below:

- 1. D, C, A, B
- 2. D, C, B, A
- 3. C, D, B, A
- 4. C, D, A, B

Options :

- 61198711245. 1
- 61198711246. 2
- 61198711247. 3
- 61198711248. 4

Question Number : 112 Question Id : 6119872886 Question Type : MCQ Option Shuffling : No Display Question Number : Yes Is Question Mandatory : No Single Line Question Option : No Option Orientation : Vertical

भारत के निम्नलिखित प्रादेशिक नियोजन कार्यक्रमों को उनके प्रारंभ वर्ष के आधार पर कालानुक्रम में व्यवस्थित करें:

- A. राष्ट्रीय राजधानी प्रदेश
- B. वर्षा-आधारित क्षेत्रों के लिए राष्ट्रीय जलसंभर विकास कार्यक्रम
- C. कमान क्षेत्र विकास कार्यक्रम
- D. मरुस्थल विकास कार्यक्रम

नीचे दिए गए विकल्पों में से **सही** उत्तर चुनें:

- 1. D, C, A, B
- 2. D, C, B, A
- 3. C, D, B, A
- 4. C, D, A, B

Options :

- 61198711245. 1
- 61198711246. 2
- 61198711247. 3
- 61198711248. 4

Question Number : 113 Question Id : 6119872887 Question Type : MCQ Option Shuffling : No Display Question Number : Yes Is Question Mandatory : No Single Line Question Option : No Option Orientation : Vertical

Arrange the following religious groups of India in ascending order on the basis of percentage share in total population (2011):

- A. Jains
- B. Buddhists
- C. Sikhs
- D. Christians

Choose the **correct** answer from the options given below:

1. D, C, B, A
2. A, B, C, D
3. C, D, A, B
4. B, A, D, C

Options :

- 61198711249. 1
- 61198711250. 2
- 61198711251. 3
- 61198711252. 4

Question Number : 113 Question Id : 6119872887 Question Type : MCQ Option Shuffling : No Display Question Number : Yes Is Question Mandatory : No Single Line Question Option : No Option Orientation : Vertical

भारत के निम्नलिखित धार्मिक समूहों को कुल जनसंख्या (2011) में प्रतिशत हिस्सेदारी के आधार पर आरोही क्रम में व्यवस्थित करें:

- A. जैन
- B. बौद्ध
- C. सिख
- D. ईसाई

नीचे दिए गए विकल्पों में से **सही** उत्तर चुनें:

1. D, C, B, A
2. A, B, C, D
3. C, D, A, B
4. B, A, D, C

Options :

- 61198711249. 1
- 61198711250. 2
- 61198711251. 3
- 61198711252. 4

Question Number : 114 Question Id : 6119872888 Question Type : MCQ Option Shuffling : No Display Question Number : Yes Is Question Mandatory : No Single Line Question Option : No Option Orientation : Vertical

Arrange the following concepts chronologically in the evolution of geographical thought:

- A. Sequent occupance
- B. Lebensraum
- C. Teleological approach
- D. Topophilia

Choose the **correct** answer from the options given below:

- 1. B, C, D, A
- 2. C, B, D, A
- 3. C, B, A, D
- 4. B, C, A, D

Options :

- 61198711253. 1
- 61198711254. 2
- 61198711255. 3
- 61198711256. 4

Question Number : 114 Question Id : 6119872888 Question Type : MCQ Option Shuffling : No Display Question Number : Yes Is Question Mandatory : No Single Line Question Option : No Option Orientation : Vertical

भौगोलिक चिन्तन के विकास में निम्नलिखित संकल्पनाओं को कालानुक्रम में व्यवस्थित करें:

- A. अनुवर्ती अधिकरण
- B. लेबेन्सराँम
- C. टिलिआलजी (प्रयोजनमूलक) उपागम
- D. टोपोफिलिया (स्थान-प्रेम)

नीचे दिए गए विकल्पों में से **सही** उत्तर चुनें:

- 1. B, C, D, A
- 2. C, B, D, A
- 3. C, B, A, D
- 4. B, C, A, D

Options :

- 61198711253. 1
- 61198711254. 2
- 61198711255. 3
- 61198711256. 4

Question Number : 115 Question Id : 6119872889 Question Type : MCQ Option Shuffling : No Display Question Number : Yes Is Question Mandatory : No Single Line Question Option : No Option Orientation : Vertical

Arrange the following types of maps from smaller to larger scale:

- A. Million Sheet
- B. Degree Sheet
- C. Quadrant Sheet
- D. Inch Sheet

Choose the **correct** answer from the options given below:

1. D, C, B, A
2. A, B, C, D
3. C, D, A, B
4. B, A, D, C

Options :

- 61198711257. 1
- 61198711258. 2
- 61198711259. 3
- 61198711260. 4

Question Number : 115 Question Id : 6119872889 Question Type : MCQ Option Shuffling : No Display Question Number : Yes Is Question Mandatory : No Single Line Question Option : No Option Orientation : Vertical

निम्नलिखित मानचित्रों के प्रकारों को लघुत्तर से बृहत्तर मापनी के क्रम में व्यवस्थित करें:

- A. मिलियन शीट
- B. डिग्री शीट
- C. चतुर्थांश शीट
- D. इंच शीट

नीचे दिए गए विकल्पों में से **सही** उत्तर चुनें:

1. D, C, B, A
2. A, B, C, D
3. C, D, A, B
4. B, A, D, C

Options :

- 61198711257. 1
- 61198711258. 2
- 61198711259. 3
- 61198711260. 4

Question Number : 116 Question Id : 6119872890 Question Type : MCQ Option Shuffling : No Display Question Number : Yes Is Question Mandatory : No Single Line Question Option : No Option Orientation : Vertical

Choose the correct statements regarding earthquakes:

- A. The first waves to reach the seismometer are S-waves.
- B. The scale of earthquake magnitude was devised in 1935.
- C. The Richter scale is used to measure the energy released by earthquakes.
- D. Earthquakes occur frequently at spreading and converging boundaries of lithospheric plates.

Choose the **correct** answer from the options given below:

- 1. B, C and D Only
- 2. B and C Only
- 3. A and C Only
- 4. B and D Only

Options :

- 61198711261. 1
- 61198711262. 2
- 61198711263. 3
- 61198711264. 4

Question Number : 116 Question Id : 6119872890 Question Type : MCQ Option Shuffling : No Display Question Number : Yes Is Question Mandatory : No Single Line Question Option : No Option Orientation : Vertical

भूकंपों के संदर्भ में सही कथनों का चयन करें:

- A. भूकंपमापी पर पहुंचने वाली प्रथम तरंगें 'एस (S)' तरंगें होती हैं।
- B. भूकंप की तीव्रता मापनी 1935 में निर्मित की गई।
- C. रिक्टर मापनी का उपयोग भूकंपों द्वारा निर्मुक्त ऊर्जा के मापन हेतु किया जाता है।
- D. भूकंप स्थलीय प्लेटों की अपसारी तथा अभिसारी सीमाओं पर बारंबार आते हैं।

नीचे दिए गए विकल्पों में से **सही** उत्तर चुनें:

- 1. केवल B, C तथा D
- 2. केवल B तथा C
- 3. केवल A तथा C
- 4. केवल B तथा D

Options :

- 61198711261. 1
- 61198711262. 2
- 61198711263. 3
- 61198711264. 4

Question Number : 117 Question Id : 6119872891 Question Type : MCQ Option Shuffling : No Display Question Number : Yes Is Question Mandatory : No Single Line Question Option : No Option Orientation : Vertical

Choose the incorrect statements regarding clouds and fronts:

- A. High clouds absorb more solar radiation, warming the planet.
- B. In an occluded front a cold front overtakes a warm front.
- C. When warm air invades cold air, the boundary is a cold front.
- D. Cyclones are often called as fair-weather system.

Choose the **correct** answer from the options given below:

- 1. B and C Only
- 2. A and B Only
- 3. A and D Only
- 4. C and D Only

Options :

- 61198711265. 1
- 61198711266. 2
- 61198711267. 3
- 61198711268. 4

Question Number : 117 Question Id : 6119872891 Question Type : MCQ Option Shuffling : No Display Question Number : Yes Is Question Mandatory : No Single Line Question Option : No Option Orientation : Vertical

वाताग्रों तथा बादलों के संदर्भ में गलत कथनों का चयन करें:

- A. उच्च बादल अधिक सौर विकिरण अवशोषित करते हैं, ग्रह का उष्ण करते हैं।
- B. एक अधिविष्ट वाताग्र में शीत वाताग्र एक उष्ण वाताग्र को ऊपर उठाता है।
- C. जब उष्ण वायु शीत वायु पर आक्रामक होती है तो सीमा एक शीत वाताग्र है।
- D. चक्रवातों को प्रायः साफ-मौसम तंत्र कहा जाता है।

नीचे दिए गए विकल्पों में से **सही** उत्तर चुनें:

- 1. केवल B तथा C
- 2. केवल A तथा B
- 3. केवल A तथा D
- 4. केवल C तथा D

Options :

- 61198711265. 1
- 61198711266. 2
- 61198711267. 3
- 61198711268. 4

Question Number : 118 Question Id : 6119872892 Question Type : MCQ Option Shuffling : No Display Question Number : Yes Is Question Mandatory : No Single Line Question Option : No Option Orientation : Vertical

Identify the correct statements:

- A. In the oceans the highest salinity is found in the latitudinal belt of 15° N and 10° S.
- B. Sodium chloride is the leading salt in oceans.
- C. Great Salt Lake of Anatolian plateau has a salinity of 240‰.
- D. Baltic sea salinity is much below the normal salinity of the oceans.

Choose the **correct** answer from the options given below:

- 1. A and B Only
- 2. B and D Only
- 3. A and C Only
- 4. A and D Only

Options :

- 61198711269. 1
- 61198711270. 2
- 61198711271. 3
- 61198711272. 4

Question Number : 118 Question Id : 6119872892 Question Type : MCQ Option Shuffling : No Display Question Number : Yes Is Question Mandatory : No Single Line Question Option : No Option Orientation : Vertical

सही कथनों की पहचान करें:

- A. महासागरों में अधिकतम लवणता 15° उ० तथा 10° द० की अक्षांशीय पटी में पाई जाती है।
- B. सोडियम क्लोराइड महासागरों में अग्रणी लवण है।
- C. अनाटोलिया पठार की ग्रेट साल्ट लेक की लवणता 240‰ है।
- D. बाल्टिक सागर की लवणता महासागरों की सामान्य लवणता से अत्यधिक कम है।

नीचे दिए गए विकल्पों में से **सही** उत्तर चुनें:

- 1. केवल A तथा B
- 2. केवल B तथा D
- 3. केवल A तथा C
- 4. केवल A तथा D

Options :

- 61198711269. 1
- 61198711270. 2
- 61198711271. 3
- 61198711272. 4

Question Number : 119 Question Id : 6119872893 Question Type : MCQ Option Shuffling : No Display Question Number : Yes Is Question Mandatory : No Single Line Question Option : No Option Orientation : Vertical

Which of the following market-based mechanisms were directly part of Kyoto Protocol as offers to countries to meet their targets?

- A. International Emission Trading
- B. Clean Development Mechanism
- C. Trade Tariffs
- D. Joint Implementation

Choose the **correct** answer from the options given below:

1. A, B, and C Only
2. B, C, and D Only
3. A, C, and D Only
4. A, B, and D Only

Options :

- 61198711273. 1
- 61198711274. 2
- 61198711275. 3
- 61198711276. 4

Question Number : 119 Question Id : 6119872893 Question Type : MCQ Option Shuffling : No Display Question Number : Yes Is Question Mandatory : No Single Line Question Option : No Option Orientation : Vertical

निम्नलिखित में से कौन से बाजार-आधारित प्रक्रम क्योटो प्रोटोकॉल के अंतर्गत प्रत्यक्षतः देशों को उनके लक्ष्य प्राप्त कराने हेतु प्रस्तुत किए गए?

- A. अन्तर्राष्ट्रीय उत्सर्जन व्यापार
- B. स्वच्छ विकास प्रक्रम
- C. व्यापार टैरिफ
- D. संयुक्त परिपालन

नीचे दिए गए विकल्पों में से **सही** उत्तर चुनें:

1. केवल A, B, तथा C
2. केवल B, C, तथा D
3. केवल A, C, तथा D
4. केवल A, B, तथा D

Options :

- 61198711273. 1
- 61198711274. 2
- 61198711275. 3
- 61198711276. 4

Question Number : 120 Question Id : 6119872894 Question Type : MCQ Option Shuffling : No Display Question Number : Yes Is Question Mandatory : No Single Line Question Option : No Option Orientation : Vertical

Identify incorrect statements with reference to the Demographic Transition Theory:

- A. It was originally put forth by Notestein in 1929.
- B. In the early expanding stage of demographic transition total population increases with increasing rates of population growth.
- C. In low stationary stage of demographic transition infant mortality rates remain high.
- D. At continental level, Asia and Europe represent two extreme of demographic transition.

Choose the **correct** answer from the options given below:

- 1. B, C, and D Only
- 2. A, B, and C Only
- 3. A, B, and D Only
- 4. A, C, and D Only

Options :

- 61198711277. 1
- 61198711278. 2
- 61198711279. 3
- 61198711280. 4

Question Number : 120 Question Id : 6119872894 Question Type : MCQ Option Shuffling : No Display Question Number : Yes Is Question Mandatory : No Single Line Question Option : No Option Orientation : Vertical

जनसंख्या संक्रमण सिद्धान्त के संदर्भ में गलत कथनों की पहचान करें:

- A. यह सर्वप्रथम 1929 में नोटेस्टीन द्वारा प्रतिपादित किया गया।
- B. जनसंख्या संक्रमण की प्रारम्भिक विस्तार अवस्था में बढ़ती जनसंख्या वृद्धि दरों के साथ कुल जनसंख्या बढ़ती है।
- C. जनसंख्या संक्रमण की निम्न स्थिरता अवस्था में शिशु मृत्यु दरें उच्च रहती हैं।
- D. महाद्वीपीय स्तर पर, एशिया तथा यूरोप जनसंख्या संक्रमण के दो चरमों को प्रदर्शित करते हैं।

नीचे दिए गए विकल्पों में से **सही** उत्तर चुनें:

- 1. केवल B, C, तथा D
- 2. केवल A, B, तथा C
- 3. केवल A, B, तथा D
- 4. केवल A, C, तथा D

Options :

- 61198711277. 1
- 61198711278. 2
- 61198711279. 3
- 61198711280. 4

Question Number : 121 Question Id : 6119872895 Question Type : MCQ Option Shuffling : No Display Question Number : Yes Is Question Mandatory : No Single Line Question Option : No Option Orientation : Vertical

Identify those agricultural regions of Whittlesey (1936) which were important in the Less Developed Countries.

- A. Shifting Cultivation
- B. Pastoral Nomadism
- C. Commercial Plantation Agriculture
- D. Commercial Livestock Ranching

Choose the **correct** answer from the options given below:

1. A, C, and D Only
2. B, C, and D Only
3. A, B, and C Only
4. A, B, and D Only

Options :

- 61198711281. 1
- 61198711282. 2
- 61198711283. 3
- 61198711284. 4

Question Number : 121 Question Id : 6119872895 Question Type : MCQ Option Shuffling : No Display Question Number : Yes Is Question Mandatory : No Single Line Question Option : No Option Orientation : Vertical

व्हिट्लेसी (1936) के उन कृषि प्रदेशों की पहचान करें जो अल्प विकसित देशों में महत्वपूर्ण थे।

- A. स्थानांतरण कृषि
- B. चलवासी पशुचारण
- C. व्यापारिक बागानी कृषि
- D. रैंचों में व्यापारिक पशुपालन

नीचे दिए गए विकल्पों में से **सही** उत्तर चुनें:

1. केवल A, C, तथा D
2. केवल B, C, तथा D
3. केवल A, B, तथा C
4. केवल A, B, तथा D

Options :

- 61198711281. 1
- 61198711282. 2
- 61198711283. 3
- 61198711284. 4

Question Number : 122 Question Id : 6119872896 Question Type : MCQ Option Shuffling : No Display Question Number : Yes Is Question Mandatory : No Single Line Question Option : No Option Orientation : Vertical

Identify correct statements regarding culture:

- A. Wissler produced continental scale maps of native culture areas.
- B. Ratzel's favoured culture hearths were Southeast Asia and Northwest South America.
- C. Dynamic Culture regions Tripartite model was proposed by Kniffen.
- D. Sauer's idea of culture hearth was influenced by his early work on plant domestication in Mexico.

Choose the **correct** answer from the options given below:

- 1. A and D Only
- 2. A and B Only
- 3. C and D Only
- 4. B and C Only

Options :

- 61198711285. 1
- 61198711286. 2
- 61198711287. 3
- 61198711288. 4

Question Number : 122 Question Id : 6119872896 Question Type : MCQ Option Shuffling : No Display Question Number : Yes Is Question Mandatory : No Single Line Question Option : No Option Orientation : Vertical

संस्कृति के संदर्भ में सही कथनों की पहचान करें:

- A. विसलर ने देशज संस्कृति क्षेत्रों के महाद्वीपीय पैमाने के मानचित्र प्रस्तुत किए।
- B. रेटजल ने दक्षिणी-पूर्वी एशिया तथा उत्तरी-पश्चिमी दक्षिणी अमेरिका सांस्कृतिक केंद्रों (Hearths) को वरीयता दी।
- C. गतिक संस्कृति प्रदेशों का त्रिपक्षीय मॉडल निफफन द्वारा प्रतिपादित किया गया।
- D. साँवर की सांस्कृतिक केन्द्र (Hearth) की संकल्पना उनके मैक्सिको में पौधों के पालन के पूर्व कार्य पर आधारित थी।

नीचे दिए गए विकल्पों में से **सही** उत्तर चुनें:

- 1. केवल A तथा D
- 2. केवल A तथा B
- 3. केवल C तथा D
- 4. केवल B तथा C

Options :

- 61198711285. 1
- 61198711286. 2
- 61198711287. 3
- 61198711288. 4

Question Number : 123 Question Id : 6119872897 Question Type : MCQ Option Shuffling : No Display Question Number : Yes Is Question Mandatory : No Single Line Question Option : No Option Orientation : Vertical

Identify the correct statements:

- A. Herodotus believed that all history must be treated geographically and all geography must be treated historically.
- B. Writings of Ptolemy inspired for exploration of the Terra- Incognito.
- C. Al-Masudi in his book Kitab-al-Hind gave a detailed description of the Indian Monsoon.
- D. Gerland suggested that since man could not be put to scientific analysis, study of man should be taken outside the purview of geography.

Choose the **correct** answer from the options given below:

- 1. A, B, and C Only
- 2. B, C, and D Only
- 3. A, C, and D Only
- 4. A, B, and D Only

Options :

- 61198711289. 1
- 61198711290. 2
- 61198711291. 3
- 61198711292. 4

Question Number : 123 Question Id : 6119872897 Question Type : MCQ Option Shuffling : No Display Question Number : Yes Is Question Mandatory : No Single Line Question Option : No Option Orientation : Vertical

सही कथनों की पहचान करें:

- A. हेरोडोटस का मानना था कि समस्त इतिहास का विवेचन भौगोलिक दृष्टि से, और भूगोल का विवेचन ऐतिहासिक दृष्टिकोण से किया जाना चाहिए।
- B. टॉलेमी के लेखों ने अज्ञात भूमि (Terra-Incognito) की खोज के लिए प्रेरणा दी।
- C. अल-मसूदी ने अपनी पुस्तक किताब-अल-हिन्द में भारतीय मानसून का विस्तृत वर्णन दिया।
- D. जैरलैंड (गरलैण्ड) ने सुझाया कि चूंकि मनुष्य का वैज्ञानिक विश्लेषण नहीं किया जा सकता है, अतः मनुष्य के अध्ययन को भूगोल की परिधि से बाहर रखा जाए।

नीचे दिए गए विकल्पों में से **सही** उत्तर चुनें:

- 1. केवल A, B, तथा C
- 2. केवल B, C, तथा D
- 3. केवल A, C, तथा D
- 4. केवल A, B, तथा D

Options :

- 61198711289. 1
- 61198711290. 2
- 61198711291. 3
- 61198711292. 4

Question Number : 124 Question Id : 6119872898 Question Type : MCQ Option Shuffling : No Display Question Number : Yes Is Question Mandatory : No Single Line Question Option : No Option Orientation : Vertical

Identify the correct statements regarding morphometric analysis:

- A. Drainage frequency is the relation between number of channels per unit of area.
- B. Form factor is the ratio between altitudinal variation and total relative relief.
- C. Drainage density is the relation between length of channels per unit of area.
- D. Circulatory ratio is obtained by dividing basin area by maximum basin length.

Choose the **correct** answer from the options given below:

- 1. A and B Only
- 2. B and C Only
- 3. C and D Only
- 4. A and C Only

Options :

- 61198711293. 1
- 61198711294. 2
- 61198711295. 3
- 61198711296. 4

Question Number : 124 Question Id : 6119872898 Question Type : MCQ Option Shuffling : No Display Question Number : Yes Is Question Mandatory : No Single Line Question Option : No Option Orientation : Vertical

आकारमितीय विश्लेषण के संदर्भ में सही कथनों की पहचान करें:

- A. अपवाह बारंबारता प्रति इकाई क्षेत्र में चैनलों की संख्या से सम्बद्ध है।
- B. आकारिकी कारक ऊँचाई विभिन्नता तथा कुल सापेक्ष उच्चावच का अनुपात है।
- C. अपवाह घनत्व प्रति इकाई क्षेत्र में चैनलों की लम्बाई से सम्बद्ध है।
- D. परिसंचारी अनुपात की प्राप्ति बेसिन क्षेत्रफल को अधिकतम बेसिन लम्बाई से भाग करके होती है।

नीचे दिए गए विकल्पों में से **सही** उत्तर चुनें:

- 1. केवल A तथा B
- 2. केवल B तथा C
- 3. केवल C तथा D
- 4. केवल A तथा C

Options :

- 61198711293. 1
- 61198711294. 2
- 61198711295. 3
- 61198711296. 4

Question Number : 125 Question Id : 6119872899 Question Type : MCQ Option Shuffling : No Display Question Number : Yes Is Question Mandatory : No Single Line Question Option : No Option Orientation : Vertical

Identify the correct statements with reference to transport in India:

- A. The rail transport share in total transport is 65 percent in the freight traffic and 85 percent in the passenger traffic.
- B. Bharatmala project was started in 2015 for the development of National Highways.
- C. National Waterway 3 runs in the western coastal region of India.
- D. Ennore port is located in the state of Tamil Nadu, India.

Choose the **correct** answer from the options given below:

- 1. C and D Only
- 2. A, B and C Only
- 3. B and D Only
- 4. B, C and D Only

Options :

- 61198711297. 1
- 61198711298. 2
- 61198711299. 3
- 61198711300. 4

Question Number : 125 Question Id : 6119872899 Question Type : MCQ Option Shuffling : No Display Question Number : Yes Is Question Mandatory : No Single Line Question Option : No Option Orientation : Vertical

भारत में परिवहन के संदर्भ में सही कथनों की पहचान करें:

- A. कुल परिवहन में रेलवे परिवहन का हिस्सा मालवाहन में 65 प्रतिशत तथा यात्री वाहन में 85 प्रतिशत है।
- B. राष्ट्रीय राजमार्गों के विकास हेतु भारतमाला परियोजना 2015 में प्रारम्भ की गई।
- C. राष्ट्रीय जलमार्ग 3 भारत के पश्चिमी तटीय प्रदेश में प्रभावी है।
- D. एन्नोर पत्तन भारत के तमिलनाडु राज्य में स्थित है।

नीचे दिए गए विकल्पों में से **सही** उत्तर चुनें:

- 1. केवल C, तथा D
- 2. केवल A, B, तथा C
- 3. केवल B, तथा D
- 4. केवल B, C, तथा D

Options :

- 61198711297. 1
- 61198711298. 2
- 61198711299. 3
- 61198711300. 4

Question Number : 126 Question Id : 6119872900 Question Type : MCQ Option Shuffling : No Display Question Number : Yes Is Question Mandatory : No Single Line Question Option : No Option Orientation : Vertical

Match the LIST-I with LIST-II

LIST-I (Process)		LIST-II (Geomorphologist)	
A.	Slope Decline Theory	I.	W. Penck
B.	Slope Replacement Theory	II.	L. C. King
C.	Parallel Retreat Theory	III.	G. K. Gilbert
D.	Graded Stream Theory	IV.	W. M. Davis

Choose the *correct* answer from the options given below:

1. A-II, B-III, C-I, D-IV
2. A-IV, B-I, C-III, D-II
3. A-II, B-IV, C-I, D-III
4. A-IV, B-I, C-II, D-III

Options :

- 61198711301. 1
- 61198711302. 2
- 61198711303. 3
- 61198711304. 4

Question Number : 126 Question Id : 6119872900 Question Type : MCQ Option Shuffling : No Display Question Number : Yes Is Question Mandatory : No Single Line Question Option : No Option Orientation : Vertical

सूची -I को सूची-II से सुमेलित करें

सूची -I (प्रक्रम)		सूची -II (भू-आकृति विज्ञानी)	
A.	ढाल पतन सिद्धान्त	I.	डब्ल्यू. पैक
B.	ढाल प्रतिस्थापन सिद्धान्त	II.	एल. सी. किंग
C.	समानान्तर निवर्तन सिद्धान्त	III.	जी. के. गिल्बर्ट
D.	प्रवणित (संतुलित) सरिता सिद्धान्त	IV.	डब्ल्यू. एम. डेविस

नीचे दिए गए विकल्पों में से **सही** विकल्प चुनें:

1. A-II, B-III, C-I, D-IV
2. A-IV, B-I, C-III, D-II
3. A-II, B-IV, C-I, D-III
4. A-IV, B-I, C-II, D-III

Options :

61198711301. 1
61198711302. 2
61198711303. 3
61198711304. 4

Question Number : 127 Question Id : 6119872901 Question Type : MCQ Option Shuffling : No Display Question Number : Yes Is Question Mandatory : No Single Line Question Option : No Option Orientation : Vertical

Match the LIST-I with LIST-II

LIST-I (Volcano)		LIST-II (Location)	
A.	Mount Etna	I.	Australia
B.	Cotopaxi	II.	Sicily
C.	Mount Mayon	III.	Ecuador
D.	Mount Hamilton	IV.	Philippines

Choose the **correct** answer from the options given below:

1. A-I, B-III, C-II, D-IV
2. A-II, B-IV, C-I, D-III
3. A-I, B-II, C-IV, D-III
4. A-II, B-III, C-IV, D-I

Options :

- 61198711305. 1
- 61198711306. 2
- 61198711307. 3
- 61198711308. 4

Question Number : 127 Question Id : 6119872901 Question Type : MCQ Option Shuffling : No Display Question Number : Yes Is Question Mandatory : No Single Line Question Option : No Option Orientation : Vertical

सूची -I को सूची-II से सुमेलित करें

सूची -I (ज्वालामुखी)		सूची -II (अवस्थिति)	
A.	माउंट एटना	I.	आस्ट्रेलिया
B.	कोटोपैक्सी	II.	सिसली
C.	माउंट मर्योन	III.	इकेडोर
D.	माउंट हमिल्टन	IV.	फिलीपिंस

नीचे दिए गए विकल्पों में से **सही** विकल्प चुनें:

1. A-I, B-III, C-II, D-IV
2. A-II, B-IV, C-I, D-III
3. A-I, B-II, C-IV, D-III
4. A-II, B-III, C-IV, D-I

Options :

61198711305. 1
61198711306. 2
61198711307. 3
61198711308. 4

Question Number : 128 Question Id : 6119872902 Question Type : MCQ Option Shuffling : No Display Question Number : Yes Is Question Mandatory : No Single Line Question Option : No Option Orientation : Vertical

Match the LIST-I with LIST-II

LIST-I (Vegetation Group)		LIST-II (Climate Type)	
A.	Hekistotherms	I.	Warm Temperate Rainy Climate
B.	Mesotherms	II.	Cold Forest Climate
C.	Megatherms	III.	Polar Climate
D.	Microtherms	IV.	Tropical Rainy Climate

Choose the *correct* answer from the options given below:

1. A-III, B-IV, C-II, D-I
2. A-IV, B-II, C-I, D-III
3. A-III, B-I, C-IV, D-II
4. A-IV, B-I, C-III, D-II

Options :

61198711309. 1

61198711310. 2

61198711311. 3

61198711312. 4

Question Number : 128 Question Id : 6119872902 Question Type : MCQ Option Shuffling : No Display Question Number : Yes Is Question Mandatory : No Single Line Question Option : No Option Orientation : Vertical

सूची -I को सूची-II से सुमेलित करें

सूची -I (वनस्पति समूह)		सूची -II (जलवायु प्रकार)	
A.	हेकिस्टोथर्म	I.	कोष्ण शीतोष्ण वर्षा जलवायु
B.	मेसोथर्म	II.	शीत वन जलवायु
C.	मेगाथर्म	III.	ध्रुवीय जलवायु
D.	माइक्रोथर्म	IV.	उष्ण कटिबंधीय वर्षा जलवायु

नीचे दिए गए विकल्पों में से **सही** विकल्प चुनें:

1. A-III, B-IV, C-II, D-I
2. A-IV, B-II, C-I, D-III
3. A-III, B-I, C-IV, D-II
4. A-IV, B-I, C-III, D-II

Options :

61198711309. 1
61198711310. 2
61198711311. 3
61198711312. 4

Question Number : 129 Question Id : 6119872903 Question Type : MCQ Option Shuffling : No Display Question Number : Yes Is Question Mandatory : No Single Line Question Option : No Option Orientation : Vertical

Match the LIST-I with LIST-II

LIST-I (Local Wind)		LIST-II (Country)	
A.	Berg	I.	Argentina
B.	Zonda	II.	Italy
C.	Samoon	III.	South Africa
D.	Sirocco	IV.	Iran

Choose the *correct* answer from the options given below:

1. A-III, B-I, C-IV, D-II
2. A-III, B-IV, C-I, D-II
3. A-II, B-IV, C-III, D-I
4. A-I, B-III, C-II, D-IV

Options :

- 61198711313. 1
- 61198711314. 2
- 61198711315. 3
- 61198711316. 4

Question Number : 129 Question Id : 6119872903 Question Type : MCQ Option Shuffling : No Display Question Number : Yes Is Question Mandatory : No Single Line Question Option : No Option Orientation : Vertical

सूची -I को सूची-II से सुमेलित करें

सूची -I (स्थानीय पवन)		सूची -II (देश)	
A.	बर्ग	I.	अर्जेटीना
B.	जोन्डा	II.	इटली
C.	सामुन	III.	दक्षिण अफ्रीका
D.	सिरॉको	IV.	ईरान

नीचे दिए गए विकल्पों में से **सही** विकल्प चुनें:

1. A-III, B-I, C-IV, D-II
2. A-III, B-IV, C-I, D-II
3. A-II, B-IV, C-III, D-I
4. A-I, B-III, C-II, D-IV

Options :

61198711313. 1
61198711314. 2
61198711315. 3
61198711316. 4

Question Number : 130 Question Id : 6119872904 Question Type : MCQ Option Shuffling : No Display Question Number : Yes Is Question Mandatory : No Single Line Question Option : No Option Orientation : Vertical

Match the LIST-I with LIST-II

LIST-I (Biome)		LIST-II (Country)	
A.	Tropical Evergreen Rain-forest	I.	Hungary
B.	Temperate Grassland	II.	Morocco
C.	Boreal Forest	III.	Indonesia
D.	Mediterranean	IV.	Finland

Choose the **correct** answer from the options given below:

1. A-I, B-III, C-IV, D-II
2. A-II, B-III, C-I, D-IV
3. A-III, B-I, C-IV, D-II
4. A-III, B-I, C-II, D-IV

Options :

- 61198711317. 1
- 61198711318. 2
- 61198711319. 3
- 61198711320. 4

Question Number : 130 Question Id : 6119872904 Question Type : MCQ Option Shuffling : No Display Question Number : Yes Is Question Mandatory : No Single Line Question Option : No Option Orientation : Vertical

सूची -I को सूची-II से सुमेलित करें

सूची -I (जीवोम)		सूची -II (देश)	
A.	उष्णकटिबंधीय सदाबहार वर्षा-वन	I.	हंगरी
B.	शीतोष्ण घासभूमि	II.	मोरोक्को
C.	बोरियल वन	III.	इन्डोनेशिया
D.	भूमध्यसागरीय	IV.	फिनलैंड

नीचे दिए गए विकल्पों में से **सही** विकल्प चुनें:

1. A-I, B-III, C-IV, D-II
2. A-II, B-III, C-I, D-IV
3. A-III, B-I, C-IV, D-II
4. A-III, B-I, C-II, D-IV

Options :

61198711317. 1
61198711318. 2
61198711319. 3
61198711320. 4

Question Number : 131 Question Id : 6119872905 Question Type : MCQ Option Shuffling : No Display Question Number : Yes Is Question Mandatory : No Single Line Question Option : No Option Orientation : Vertical

Match the LIST-I with LIST-II

LIST-I (Concept)		LIST-II (Scholar)	
A.	Ecological Niche	I.	Tansley
B.	Ecosystem	II.	Elton
C.	Evolution of species through the process of mutation	III.	Clements
D.	Vegetation Succession	IV.	De Vries

Choose the *correct* answer from the options given below:

1. A-II, B-I, C-III, D-IV
2. A-II, B-I, C-IV, D-III
3. A-IV, B-I, C-II, D-III
4. A-I, B-II, C-III, D-IV

Options :

61198711321. 1

61198711322. 2

61198711323. 3

61198711324. 4

Question Number : 131 Question Id : 6119872905 Question Type : MCQ Option Shuffling : No Display Question Number : Yes Is Question Mandatory : No Single Line Question Option : No Option Orientation : Vertical

सूची -I को सूची-II से सुमेलित करें

सूची -I (संकल्पना)		सूची -II (विद्वान)	
A.	पारिस्थितिक निकेत	I.	टान्सले
B.	पारिस्थितिक तंत्र	II.	एल्टन
C.	उत्परिवर्तन प्रक्रम द्वारा प्रजातियों का उद्द्विकास	III.	क्लीमेन्ट्स
D.	वनस्पति अनुक्रमण	IV.	डी वरीज

नीचे दिए गए विकल्पों में से **सही** विकल्प चुनें:

1. A-II, B-I, C-III, D-IV
2. A-II, B-I, C-IV, D-III
3. A-IV, B-I, C-II, D-III
4. A-I, B-II, C-III, D-IV

Options :

61198711321. 1
61198711322. 2
61198711323. 3
61198711324. 4

Question Number : 132 Question Id : 6119872906 Question Type : MCQ Option Shuffling : No Display Question Number : Yes Is Question Mandatory : No Single Line Question Option : No Option Orientation : Vertical

Match the LIST-I with LIST-II

LIST-I (Relative Levels of Urbanisation in 2024)		LIST-II (Examples of Countries)	
A.	Highly Urbanised	I.	Sri Lanka
B.	Moderately Urbanised	II.	India
C.	Less Urbanised	III.	Austria
D.	Least Urbanised	IV.	Germany

Choose the **correct** answer from the options given below:

1. A-IV, B-III, C-II, D-I
2. A-IV, B-III, C-I, D-II
3. A-III, B-IV, C-I, D-II
4. A-III, B-IV, C-II, D-I

Options :

- 61198711325. 1
- 61198711326. 2
- 61198711327. 3
- 61198711328. 4

Question Number : 132 Question Id : 6119872906 Question Type : MCQ Option Shuffling : No Display Question Number : Yes Is Question Mandatory : No Single Line Question Option : No Option Orientation : Vertical

सूची -I को सूची-II से सुमेलित करें

सूची -I (2024 में नगरीकरण के सापेक्ष स्तर)		सूची -II (देशों के उदाहरण)	
A.	अत्यधिक नगरीकृत	I.	श्रीलंका
B.	मध्यम नगरीकृत	II.	भारत
C.	अल्प नगरीकृत	III.	आस्ट्रिया
D.	न्यूनतम नगरीकृत	IV.	जर्मनी

नीचे दिए गए विकल्पों में से **सही** विकल्प चुनें:

1. A-IV, B-III, C-II, D-I
2. A-IV, B-III, C-I, D-II
3. A-III, B-IV, C-I, D-II
4. A-III, B-IV, C-II, D-I

Options :

61198711325. 1
61198711326. 2
61198711327. 3
61198711328. 4

Question Number : 133 Question Id : 6119872907 Question Type : MCQ Option Shuffling : No Display Question Number : Yes Is Question Mandatory : No Single Line Question Option : No Option Orientation : Vertical

Match the LIST-I with LIST-II

LIST-I (Country)		LIST-II (Percent of Population below 15 years of age in 2024)	
A.	China	I.	23
B.	Niger	II.	18
C.	South Korea	III.	47
D.	Mexico	IV.	11

Choose the *correct* answer from the options given below:

1. A-III, B-II, C-IV, D-I
2. A-II, B-III, C-IV, D-I
3. A-II, B-III, C-I, D-IV
4. A-III, B-II, C-I, D-IV

Options :

- 61198711329. 1
- 61198711330. 2
- 61198711331. 3
- 61198711332. 4

Question Number : 133 Question Id : 6119872907 Question Type : MCQ Option Shuffling : No Display Question Number : Yes Is Question Mandatory : No Single Line Question Option : No Option Orientation : Vertical

सूची -I को सूची-II से सुमेलित करें

सूची -I (देश)		सूची -II (2024 में 15 वर्ष से कम आयु की प्रतिशत जनसंख्या)	
A.	चीन	I.	23
B.	नाइजर	II.	18
C.	दक्षिणी कोरिया	III.	47
D.	मैक्सिको	IV.	11

नीचे दिए गए विकल्पों में से **सही** विकल्प चुनें:

1. A-III, B-II, C-IV, D-I
2. A-II, B-III, C-IV, D-I
3. A-II, B-III, C-I, D-IV
4. A-III, B-II, C-I, D-IV

Options :

61198711329. 1
61198711330. 2
61198711331. 3
61198711332. 4

Question Number : 134 Question Id : 6119872908 Question Type : MCQ Option Shuffling : No Display Question Number : Yes Is Question Mandatory : No Single Line Question Option : No Option Orientation : Vertical

Match the LIST-I with LIST-II

LIST-I (Industrial Region)		LIST-II (Country)	
A.	Mohawk Valley	I.	Canada
B.	Po Valley	II.	Germany
C.	Ruhr Valley	III.	USA
D.	St. Lawrence Valley	IV.	Italy

Choose the *correct* answer from the options given below:

1. A-III, B-IV, C-II, D-I
2. A-IV, B-III, C-II, D-I
3. A-III, B-I, C-II, D-IV
4. A-IV, B-III, C-I, D-II

Options :

61198711333. 1

61198711334. 2

61198711335. 3

61198711336. 4

Question Number : 134 Question Id : 6119872908 Question Type : MCQ Option Shuffling : No Display Question Number : Yes Is Question Mandatory : No Single Line Question Option : No Option Orientation : Vertical

सूची -I को सूची-II से सुमेलित करें

सूची -I (औद्योगिक क्षेत्र)		सूची -II (देश)	
A.	मोहक्क घाटी	I.	कनाडा
B.	पो घाटी	II.	जर्मनी
C.	रुहर घाटी	III.	यू. एस. ए.
D.	सेंट लारेंस घाटी	IV.	इटली

नीचे दिए गए विकल्पों में से **सही** विकल्प चुनें:

1. A-III, B-IV, C-II, D-I
2. A-IV, B-III, C-II, D-I
3. A-III, B-I, C-II, D-IV
4. A-IV, B-III, C-I, D-II

Options :

61198711333. 1
61198711334. 2
61198711335. 3
61198711336. 4

Question Number : 135 Question Id : 6119872909 Question Type : MCQ Option Shuffling : No Display Question Number : Yes Is Question Mandatory : No Single Line Question Option : No Option Orientation : Vertical

Match the LIST-I with LIST-II

LIST-I (Crop Productivity Index)		LIST-II (Applied By)	
A.	Carrying Capacity Method	I.	Bhatia
B.	Efficiency Index Method	II.	Sapre and Despande
C.	Index of Productivity Method	III.	Stamp
D.	Weighted Ranking Coefficient	IV.	Enyedi

Choose the *correct* answer from the options given below:

1. A-III, B-IV, C-II, D-I
2. A-II, B-III, C-I, D-IV
3. A-III, B-I, C-IV, D-II
4. A-IV, B-I, C-II, D-III

Options :

- 61198711337. 1
- 61198711338. 2
- 61198711339. 3
- 61198711340. 4

Question Number : 135 Question Id : 6119872909 Question Type : MCQ Option Shuffling : No Display Question Number : Yes Is Question Mandatory : No Single Line Question Option : No Option Orientation : Vertical

सूची -I को सूची-II से सुमेलित करें

सूची -I (फसल उत्पादकता सूचकांक)		सूची -II (द्वारा प्रयुक्त)	
A.	वहन क्षमता विधि	I.	भाटिया
B.	दक्षता सूचकांक विधि	II.	स्प्रे तथा देशपांडे
C.	उत्पादकता विधि सूचकांक	III.	स्टाम्प
D.	भारित श्रेणीबद्ध गुणांक	IV.	एनयेदी

नीचे दिए गए विकल्पों में से **सही** विकल्प चुनें:

1. A-III, B-IV, C-II, D-I
2. A-II, B-III, C-I, D-IV
3. A-III, B-I, C-IV, D-II
4. A-IV, B-I, C-II, D-III

Options :

61198711337. 1
61198711338. 2
61198711339. 3
61198711340. 4

Question Number : 136 Question Id : 6119872910 Question Type : MCQ Option Shuffling : No Display Question Number : Yes Is Question Mandatory : No Single Line Question Option : No Option Orientation : Vertical

Match the LIST-I with LIST-II

LIST-I (Concept)		LIST-II (Scholar)	
A.	Trickling Down and Polarisation Effect	I.	Gunnar Myrdal
B.	Cumulative Causation Model	II.	John Friedman
C.	Core Periphery Model	III.	Francis Perraux
D.	Growth Pole Model	IV.	Hirschman

Choose the *correct* answer from the options given below:

1. A-II, B-III, C-IV, D-I
2. A-I, B-IV, C-II, D-III
3. A-III, B-II, C-I, D-IV
4. A-IV, B-I, C-II, D-III

Options :

- 61198711341. 1
- 61198711342. 2
- 61198711343. 3
- 61198711344. 4

Question Number : 136 Question Id : 6119872910 Question Type : MCQ Option Shuffling : No Display Question Number : Yes Is Question Mandatory : No Single Line Question Option : No Option Orientation : Vertical

सूची -I को सूची-II से सुमेलित करें

सूची -I (संकल्पना)		सूची -II (विद्वान)	
A.	अधोमुखी रिसाव तथा ध्रुवीकरण प्रभाव	I.	गुन्नार मिर्डल
B.	संचयी कार्यात्पादन मॉडल	II.	जॉन फ्रीडमैन
C.	क्रोड-परिधि मॉडल	III.	फ्रंसिस पैराक्स
D.	वृद्धि ध्रुव मॉडल	IV.	हिर्शमैन

नीचे दिए गए विकल्पों में से **सही** विकल्प चुनें:

1. A-II, B-III, C-IV, D-I
2. A-I, B-IV, C-II, D-III
3. A-III, B-II, C-I, D-IV
4. A-IV, B-I, C-II, D-III

Options :

61198711341. 1
61198711342. 2
61198711343. 3
61198711344. 4

Question Number : 137 Question Id : 6119872911 Question Type : MCQ Option Shuffling : No Display Question Number : Yes Is Question Mandatory : No Single Line Question Option : No Option Orientation : Vertical

Match the LIST-I with LIST-II

LIST-I (Metamorphic Rock)		LIST-II (Original Rock)	
A.	Gneiss	I.	Limestone
B.	Anthracite	II.	Sandstone
C.	Quartzite	III.	Bituminous
D.	Marble	IV.	Granite

Choose the *correct* answer from the options given below:

1. A-IV, B-III, C-II, D-I
2. A-I, B-II, C-III, D-IV
3. A-IV, B-II, C-I, D-III
4. A-III, B-I, C-IV, D-II

Options :

- 61198711345. 1
- 61198711346. 2
- 61198711347. 3
- 61198711348. 4

Question Number : 137 Question Id : 6119872911 Question Type : MCQ Option Shuffling : No Display Question Number : Yes Is Question Mandatory : No Single Line Question Option : No Option Orientation : Vertical

सूची -I को सूची-II से सुमेलित करें

सूची -I (कायान्तरित चट्टान)		सूची -II (मूल चट्टान)	
A.	नीस	I.	चूनापत्थर
B.	एंथ्रेसाइड	II.	बालूपत्थर
C.	कार्बोनाइट	III.	बिटुमिनस
D.	संगमरमर	IV.	ग्रेनाइट

नीचे दिए गए विकल्पों में से **सही** विकल्प चुनें:

1. A-IV, B-III, C-II, D-I
2. A-I, B-II, C-III, D-IV
3. A-IV, B-II, C-I, D-III
4. A-III, B-I, C-IV, D-II

Options :

61198711345. 1
61198711346. 2
61198711347. 3
61198711348. 4

Question Number : 138 Question Id : 6119872912 Question Type : MCQ Option Shuffling : No Display Question Number : Yes Is Question Mandatory : No Single Line Question Option : No Option Orientation : Vertical

Match the LIST-I with LIST-II

LIST-I (Country)		LIST-II (Infant Mortality Rate in 2024)	
A.	Sudan	I.	36
B.	Bangladesh	II.	23
C.	Indonesia	III.	17
D.	Norway	IV.	02

Choose the *correct* answer from the options given below:

1. A-IV, B-III, C-II, D-I
2. A-III, B-IV, C-I, D-II
3. A-I, B-II, C-III, D-IV
4. A-II, B-I, C-IV, D-III

Options :

- 61198711349. 1
- 61198711350. 2
- 61198711351. 3
- 61198711352. 4

Question Number : 138 Question Id : 6119872912 Question Type : MCQ Option Shuffling : No Display Question Number : Yes Is Question Mandatory : No Single Line Question Option : No Option Orientation : Vertical

सूची -I को सूची-II से सुमेलित करें

सूची -I (देश)		सूची -II (2024 में शिशु मृत्यु दर)	
A.	सूडान	I.	36
B.	बांग्लादेश	II.	23
C.	इंडोनेशिया	III.	17
D.	नॉर्वे	IV.	02

नीचे दिए गए विकल्पों में से **सही** विकल्प चुनें:

1. A-IV, B-III, C-II, D-I
2. A-III, B-IV, C-I, D-II
3. A-I, B-II, C-III, D-IV
4. A-II, B-I, C-IV, D-III

Options :

61198711349. 1
61198711350. 2
61198711351. 3
61198711352. 4

Question Number : 139 Question Id : 6119872913 Question Type : MCQ Option Shuffling : No Display Question Number : Yes Is Question Mandatory : No Single Line Question Option : No Option Orientation : Vertical

Match the LIST-I with LIST-II

LIST-I (Sampling Method)		LIST-II (Sample Selection)	
A.	Random	I.	The population is divided into groups and then samples are selected within each group.
B.	Stratified	II.	By numbering each subject and then selecting the K^{th} subject.
C.	Purposive	III.	Each subject will get equal chance of selection.
D.	Systematic	IV.	When only minimal information is available about the parent population.

Choose the *correct* answer from the options given below:

1. A-I, B-II, C-III, D-IV
2. A-III, B-I, C-IV, D-II
3. A-IV, B-III, C-II, D-I
4. A-II, B-IV, C-I, D-III

Options :

61198711353. 1

61198711354. 2

61198711355. 3

61198711356. 4

Question Number : 139 Question Id : 6119872913 Question Type : MCQ Option Shuffling : No Display Question Number : Yes Is Question Mandatory : No Single Line Question Option : No Option Orientation : Vertical

सूची -I को सूची-II से सुमेलित करें

सूची -I (प्रतिदर्शी विधि)		सूची -II (प्रतिदर्श चयन)	
A.	यादृच्छिक	I.	जनसंख्या को वर्गों में बांटा जाता है तथा उसके बाद प्रत्येक वर्ग से प्रतिदर्शी का चयन किया जाता है।
B.	स्तरीकृत	II.	प्रत्येक प्रयोग-वस्तु का क्रमांकन तथा उसके बाद K^{th} प्रयोग-वस्तु का चयन।
C.	सप्रयोजन	III.	प्रत्येक प्रयोग-वस्तु के चयन का समान अवसर होगा।
D.	क्रमबद्ध	IV.	जब मूल जनसंख्या के सम्बन्ध में केवल न्यूनतम जानकारी उपलब्ध होती है।

नीचे दिए गए विकल्पों में से **सही** विकल्प चुनें:

1. A-I, B-II, C-III, D-IV
2. A-III, B-I, C-IV, D-II
3. A-IV, B-III, C-II, D-I
4. A-II, B-IV, C-I, D-III

Options :

61198711353. 1
61198711354. 2
61198711355. 3
61198711356. 4

Question Number : 140 Question Id : 6119872914 Question Type : MCQ Option Shuffling : No Display Question Number : Yes Is Question Mandatory : No Single Line Question Option : No Option Orientation : Vertical

Match the LIST-I with LIST-II

LIST-I (Type of Time Series)		LIST-II (Example)	
A.	Secular	I.	Production of milk
B.	Periodic	II.	Earthquake
C.	Cyclical (Long duration)	III.	Growth of population of a country
D.	Irregular	IV.	Climate Change

Choose the *correct* answer from the options given below:

1. A-I, B-II, C-III, D-IV
2. A-IV, B-III, C-II, D-I
3. A-III, B-I, C-IV, D-II
4. A-II, B-IV, C-I, D-III

Options :

- 61198711357. 1
- 61198711358. 2
- 61198711359. 3
- 61198711360. 4

Question Number : 140 Question Id : 6119872914 Question Type : MCQ Option Shuffling : No Display Question Number : Yes Is Question Mandatory : No Single Line Question Option : No Option Orientation : Vertical

सूची -I को सूची-II से सुमेलित करें

सूची -I (समय श्रृंखला की प्रकार)		सूची -II (उदाहरण)	
A.	चिरंतन	I.	दुग्ध उत्पादन
B.	आवर्तिक	II.	भूकंप
C.	चक्रिक (दीर्घावधि)	III.	एक देश की जनसंख्या वृद्धि
D.	अनियमित	IV.	जलवायु परिवर्तन

नीचे दिए गए विकल्पों में से **सही** विकल्प चुनें:

1. A-I, B-II, C-III, D-IV
2. A-IV, B-III, C-II, D-I
3. A-III, B-I, C-IV, D-II
4. A-II, B-IV, C-I, D-III

Options :

61198711357. 1

61198711358. 2

61198711359. 3

61198711360. 4

Sub-Section Number :

2

Sub-Section Id :

611987113

Question Shuffling Allowed :

No

Is Section Default? :

No

Question Id : 6119872915 Question Type : COMPREHENSION Sub Question Shuffling Allowed : Yes Group Comprehension Questions : No Question Pattern Type : NonMatrix

Question Numbers : (141 to 145)

Question Label : Comprehension

Read the following paragraph and answer the questions:

By the mid-1960's, once the need for precision in geographical research through increased use of statistical-mathematical techniques had been commonly accepted and the controversy regarding systematic versus regional geography resolved, the euphoria about quantitative "revolution" had greatly receded. The professionals began to look back on the course of revolution and assess the resultant gains and losses for the discipline. In human geography, alongside the rejection of the concept of strict operation of the principle of economic rationality there was a perceptible shift from deductive to inductive mode of explanation. The paper titled "The Decision Process in a Spatial Context"(1964) proved seminal in starting of the movement toward behaviouralism as an "alternative" to the normative approach to theory.

Sub questions

Question Number : 141 Question Id : 6119872916 Question Type : MCQ Option Shuffling : No Display Question Number : Yes Is Question Mandatory : No Single Line Question Option : No Option Orientation : Vertical

Which of the following works first focused on a two fold division of geography into regional and systematic geography?

1. Geographia Generalis
2. Almagast
3. Anthropogeographie
4. Erdkunde

Options :

61198711361. 1

61198711362. 2

61198711363. 3

61198711364. 4

Question Number : 142 Question Id : 6119872917 Question Type : MCQ Option Shuffling : No Display Question Number : Yes Is Question Mandatory : No Single Line Question Option : No Option Orientation : Vertical

The 'quantitative revolution' phase models and theories were not based on which one of the following assumptions?

1. Man is a rational (economic) person.
2. 'Space' as an isotropic surface.
3. Focus upon the individual rather than to approach problems at the level of the social group.
4. Man has infinite or perfect knowledge of his space (environment and resources)

Options :

61198711365. 1

61198711366. 2

61198711367. 3

61198711368. 4

Question Number : 143 Question Id : 6119872918 Question Type : MCQ Option Shuffling : No Display Question Number : Yes Is Question Mandatory : No Single Line Question Option : No Option Orientation : Vertical

Which of the following is associated with behaviouralism in geography?

1. Social Physics
2. Gravity Model
3. Central Place Theory
4. Mental Maps

Options :

- 61198711369. 1
- 61198711370. 2
- 61198711371. 3
- 61198711372. 4

Question Number : 144 Question Id : 6119872919 Question Type : MCQ Option Shuffling : No Display Question Number : Yes Is Question Mandatory : No Single Line Question Option : No Option Orientation : Vertical

The paper " The Decision Process in a Spatial Context" was authored by whom?

1. Carl Sauer
2. Julian Wolpert
3. W. K. Kirk
4. Gould and White

Options :

- 61198711373. 1
- 61198711374. 2
- 61198711375. 3
- 61198711376. 4

Question Number : 145 Question Id : 6119872920 Question Type : MCQ Option Shuffling : No Display Question Number : Yes Is Question Mandatory : No Single Line Question Option : No Option Orientation : Vertical

Who criticized the "exceptionalist" claims made for regional geography and put forward a strong case for geography to adopt the philosophy and methodology of positivism?

1. Hartshorne
2. Schaefer
3. Richthofen
4. Hettner

Options :

- 61198711377. 1
- 61198711378. 2
- 61198711379. 3
- 61198711380. 4

Question Id : 6119872915 Question Type : COMPREHENSION Sub Question Shuffling Allowed : Yes Group
Comprehension Questions : No Question Pattern Type : NonMatrix

Question Numbers : (141 to 145)

Question Label : Comprehension

निम्नलिखित गद्यांश को पढ़िए और उत्तर दीजिए:

1960 के दशक के मध्य तक, जब एक बार भौगोलिक शोध में सांख्यिकीय-गणितीय विधियों के बढ़ते उपयोग द्वारा शुद्धता की आवश्यकता सर्वमान्य हो गई, तथा क्रमबद्ध बनाम प्रादेशिक भूगोल का विवाद समाप्त हो गया, तब मात्रात्मक "क्रांति" का सुखा-भास अत्यधिक कम हो गया। पेशेवरों ने क्रांति की प्रगति पर दृष्टि डाली तथा विषय में इसके परिणामस्वरूप आए लाभों तथा हानियों का मूल्यांकन किया।

मानव भूगोल में, आर्थिक विवेकशीलता की कड़ाई से प्रभावी संकल्पना को नकारते हुए, निगमनात्मक के स्थान पर आगमनात्मक व्याख्या में परिवर्तन दृष्टिगोचर हुआ। लेख जिसका शीर्षक "दि डिसेजन प्रोसेस इन ए स्पेशियल कानटेक्स्ट" (1964) था, व्यवहारवादी आन्दोलन को सिद्धान्त के लिए आदर्शवादी उपागम के 'विकल्पी' के रूप में आन्दोलन प्रारम्भ करने में अनिवार्य प्रमाणित हुआ।

Sub questions

Question Number : 141 Question Id : 6119872916 Question Type : MCQ Option Shuffling : No Display Question
Number : Yes Is Question Mandatory : No Single Line Question Option : No Option Orientation : Vertical

निम्नलिखित कार्यों में से किसने सर्वप्रथम भूगोल के प्रादेशिक तथा क्रमबद्ध भूगोल में द्विभाजन पर बल दिया?

1. जिओग्राफिया जेनरेलिस
2. अल्मागस्त
3. ऐंथ्रोपोजिओग्राफी
4. अर्डकुण्डे

Options :

61198711361. 1
61198711362. 2
61198711363. 3
61198711364. 4

Question Number : 142 Question Id : 6119872917 Question Type : MCQ Option Shuffling : No Display Question
Number : Yes Is Question Mandatory : No Single Line Question Option : No Option Orientation : Vertical

'मात्रात्मक क्रांति' चरण के मॉडल तथा सिद्धान्त निम्नलिखित मान्यताओं में से किस एक पर आधारित नहीं थे?

1. मानव एक विवेकी (आर्थिक) व्यक्ति है।
2. 'स्पेस (स्थान)' समरूपी धरातल के रूप में।
3. समस्याओं को सामाजिक समूह के स्तर के दृष्टिकोण की बजाए व्यक्ति-विशेष पर बल देना।
4. मानव का अपने स्थान (पर्यावरण एवं संसाधनों) के बारे में असीम या पूर्ण ज्ञान है।

Options :

61198711365. 1
61198711366. 2
61198711367. 3
61198711368. 4

Question Number : 143 Question Id : 6119872918 Question Type : MCQ Option Shuffling : No Display Question Number : Yes Is Question Mandatory : No Single Line Question Option : No Option Orientation : Vertical

निम्नलिखित में से कौन सा भूगोल में व्यवहारवादिता से सम्बद्ध है?

1. सामाजिक भौतिकी
2. गुरुत्व मॉडल
3. केन्द्र-स्थल सिद्धान्त
4. मानसिक मानचित्र

Options :

61198711369. 1
61198711370. 2
61198711371. 3
61198711372. 4

Question Number : 144 Question Id : 6119872919 Question Type : MCQ Option Shuffling : No Display Question Number : Yes Is Question Mandatory : No Single Line Question Option : No Option Orientation : Vertical

"द डिसेजन प्रोसेस इन ए स्पेशियल कानटेक्स्ट" लेख की रचना किसने की थी?

1. कार्ल सॉवर
2. जूलियन वोल्पर्ट
3. डब्ल्यू. के. किर्क
4. गोल्ड तथा वाइट

Options :

61198711373. 1
61198711374. 2
61198711375. 3
61198711376. 4

Question Number : 145 Question Id : 6119872920 Question Type : MCQ Option Shuffling : No Display Question Number : Yes Is Question Mandatory : No Single Line Question Option : No Option Orientation : Vertical

किसने प्रादेशिक भूगोल के लिए 'अनूठेपन (अपवादवादी)' के दावों की आलोचना की तथा भूगोल में प्रत्यक्षवाद के दर्शन एवं अध्ययन पद्धति को अपनाने की सिफारिश की?

1. हार्टशोर्न
2. शेफर
3. रिचथोफन
4. हैटनर

Options :

61198711377. 1
61198711378. 2
61198711379. 3
61198711380. 4

Sub-Section Number :

Sub-Section Id :	611987114
Question Shuffling Allowed :	No
Is Section Default? :	No

Question Id : 6119872921 Question Type : COMPREHENSION Sub Question Shuffling Allowed : Yes Group Comprehension Questions : No Question Pattern Type : NonMatrix

Question Numbers : (146 to 150)

Question Label : Comprehension

Read the following paragraph and answer the questions:

India is a land of great physiographic diversity. In the northern part the highest and the youngest folded mountains of world, glaciated peaks, deep valleys and gorges are present. In the southern part extends the peninsular plateau with ancient Pre-Cambrian rocks, denudated surfaces, senile topography and relict mountains. The Himalayan mountain ranges in the north and north-east along with the Andaman and Nicobar Islands are tectonic ranges and they are primarily result of plate-tectonics.

Sub questions

Question Number : 146 Question Id : 6119872922 Question Type : MCQ Option Shuffling : No Display Question Number : Yes Is Question Mandatory : No Single Line Question Option : No Option Orientation : Vertical

Which one of the following was a part of Gondwanaland?

1. Meghalaya plateau
2. Kashmir Valley
3. Andaman and Nicobar Islands
4. Ladakh

Options :

- 61198711381. 1
- 61198711382. 2
- 61198711383. 3
- 61198711384. 4

Question Number : 147 Question Id : 6119872923 Question Type : MCQ Option Shuffling : No Display Question Number : Yes Is Question Mandatory : No Single Line Question Option : No Option Orientation : Vertical

Which one of the following passes is NOT prone to glaciation?

1. Nathu La
2. Zoji La
3. Bhorghat
4. Rohtang pass

Options :

- 61198711385. 1
- 61198711386. 2
- 61198711387. 3
- 61198711388. 4

Question Number : 148 Question Id : 6119872924 Question Type : MCQ Option Shuffling : No Display Question Number : Yes Is Question Mandatory : No Single Line Question Option : No Option Orientation : Vertical

Which one of the following is NOT a tectonic island?

1. Little Andaman
2. Great Nicobar
3. Minicoy
4. Car Nicobar

Options :

- 61198711389. 1
- 61198711390. 2
- 61198711391. 3
- 61198711392. 4

Question Number : 149 Question Id : 6119872925 Question Type : MCQ Option Shuffling : No Display Question Number : Yes Is Question Mandatory : No Single Line Question Option : No Option Orientation : Vertical

Which one of the following is a relict mountain?

1. Pir Panjal
2. Eastern Ghats
3. Mishi hills in Arunachal Pradesh
4. Lusai Hills

Options :

- 61198711393. 1
- 61198711394. 2
- 61198711395. 3
- 61198711396. 4

Question Number : 150 Question Id : 6119872926 Question Type : MCQ Option Shuffling : No Display Question Number : Yes Is Question Mandatory : No Single Line Question Option : No Option Orientation : Vertical

Himalayas belong to which one of the following orogenies?

1. Caledonian
2. Hercynian
3. Pre-cambrian
4. Alpine

Options :

- 61198711397. 1
- 61198711398. 2
- 61198711399. 3
- 61198711400. 4

Question Id : 6119872921 Question Type : COMPREHENSION Sub Question Shuffling Allowed : Yes Group
Comprehension Questions : No Question Pattern Type : NonMatrix

Question Numbers : (146 to 150)

Question Label : Comprehension

निम्नलिखित गद्यांश को पढ़िए और उत्तर दीजिए:

भारत एक अत्यधिक भू-आकृतिक विविधता की भूमि है। उत्तरी भाग में, विश्व के सबसे ऊँचे तथा नवीन वलित पर्वत, हिमाच्छादित चोटियां, गहरी घाटियां तथा गॉर्ज विद्यमान हैं। दक्षिणी भाग में प्रायद्वीपीय पठार पुरानी पूर्व-कैम्ब्रियन चट्टानों, अनाच्छादित सतहों, वृद्ध स्थलाकृति तथा अवशिष्ट पर्वतों के साथ विस्तृत है। उत्तर तथा पूर्वोत्तर में हिमालय पर्वत श्रेणियों सहित अण्डमान एवं निकोबार द्वीप विवर्तनिक श्रेणियां हैं तथा ये प्रमुखतः प्लेट-विवर्तनिकी का परिणाम हैं।

Sub questions

Question Number : 146 Question Id : 6119872922 Question Type : MCQ Option Shuffling : No Display Question
Number : Yes Is Question Mandatory : No Single Line Question Option : No Option Orientation : Vertical

निम्नलिखित में से कौन सा गोंडवानालैंड का हिस्सा था?

1. मेघालय पठार
2. कश्मीर घाटी
3. अण्डमान एवं निकोबार द्वीप
4. लद्दाख

Options :

61198711381. 1
61198711382. 2
61198711383. 3
61198711384. 4

Question Number : 147 Question Id : 6119872923 Question Type : MCQ Option Shuffling : No Display Question
Number : Yes Is Question Mandatory : No Single Line Question Option : No Option Orientation : Vertical

निम्नलिखित दरों में से कौन सा हिमानीकरण से प्रवण नहीं है?

1. नाथूला
2. जोजिला
3. भोरघाट
4. रोहतांग दर्रा

Options :

61198711385. 1
61198711386. 2
61198711387. 3
61198711388. 4

Question Number : 148 Question Id : 6119872924 Question Type : MCQ Option Shuffling : No Display Question
Number : Yes Is Question Mandatory : No Single Line Question Option : No Option Orientation : Vertical

निम्नलिखित में से कौन सा एक विवर्तनिक द्वीप नहीं है?

1. लिटिल अण्डमान
2. ग्रेट निकोबार
3. मिनिक्ॉय
4. कार निकोबार

Options :

61198711389. 1
61198711390. 2
61198711391. 3
61198711392. 4

Question Number : 149 Question Id : 6119872925 Question Type : MCQ Option Shuffling : No Display Question Number : Yes Is Question Mandatory : No Single Line Question Option : No Option Orientation : Vertical

निम्नलिखित में से कौन सा एक अवशिष्ट पर्वत है?

1. पीर पंजाल
2. पूर्वी घाट
3. अरुणाचल प्रदेश में मिशी पहाड़ियां
4. लुसाई पहाड़ियां

Options :

61198711393. 1
61198711394. 2
61198711395. 3
61198711396. 4

Question Number : 150 Question Id : 6119872926 Question Type : MCQ Option Shuffling : No Display Question Number : Yes Is Question Mandatory : No Single Line Question Option : No Option Orientation : Vertical

हिमालय निम्नलिखित पर्वतीकरण में से किससे सम्बन्धित हैं?

1. कैलिडोनियन
2. हर्सीनियन
3. प्री-कैम्ब्रियन
4. अल्पाइन

Options :

61198711397. 1
61198711398. 2
61198711399. 3
61198711400. 4